



جمهوری اسلامی ایران

وزارت آموزش و پرورش

اداره کل آموزش و پرورش

مدیریت آموزش و پرورش شهرستان بوشهر

دبیرستان متوسطه اول دخترانه سرای دانش ۳

مهر آموزشگاه

نام و نام خانوادگی:

نام دبیر: خانم تابنده

نام درس: املا فارسی

تاریخ امتحان: ۱۳۹۸/۱۰/۲۳

نوبت او

مدت امتحان: ۵۰ دقیقه

ساعت شروع: ۸ صبح

این آزمون مشتمل در بر ۱ سوال در ۱ صفحه می باشد.

بارم

۲۰

به مورچه و جثه آن بنگر که چگونه عظمت خلقت او با چشم و اندیشه انسان درک نمی شود.

پرهای طاووس ، چونان برگ خزان دیده ، می ریزد و دوباره می روید تا دیگر بار شکل و رنگ زیبای گذشته خود را باز یابد .

آنچه ایران ما را از دیگر کشورهای نیرومند جهان ، جدا می دارد و بر می کشد ؛ آن است که کشور ما همواره سرزمین سپند فرّ و فروغ و فرزاندگی و فرهیختگی بوده است.

آری ، میهن شکوهمند ما ، خاستگاه بخردان و دانایان و روشن رایان ، این کانون روشنی و راستی ، این کشور مردان گرد ، یلانُ دلیرا شیرا پهلووانانامدا سرزمیند اس که مبادا منازید سا همگان برمی افزایم.

هان و هان ! خویشتن را خوار مدار ! زیرا در این روزگار ، چشم و چراغ ایرانی ؛ و در جهان ، گرمی ترینی . مبادا گذر شتابان عمر خود را مسخره بگیری یا به حرف بزرگ هایتان گوش نکنید و از تجربه های آنان ، بهره نگیرید.

خواندن چند گام دارد :

شناخت نشانه ها و کلمات ، باز خوانی یا تلفظ واژه ، مطابقت دادن شکل کلمه با تلفظ آن ، خوانش درست متن ، توجه به حسن و حال متن و رعایت آن ، تشخیص معنا و درک پیام متن .

بهلول خواست برخیزد . جنید بغدادی دامنش بگرفت . بهلول گفت : « تو دعوی دانایی می کردی ، اکنون که به نادانی خود معترف شدی ، تو را بیاموزم .

روزگاری چرتکه ، چاپار ، پیک ، پرنده نامه رسان و اسطرلاب میی زندگی اتتماعنش

داشته اند . اکنون عصر چیرگی ماشین و رایانه و به طور کل ، روزگار تسلط دستاوردهای علمی و فناوری بر تار و پود زندگی بشر است .

آزمون انشای فارسی کلاس هشتم - دبیرستان: دارالفنون ترم اول دی ماه ۹۸  
نام و نام خانوادگی

از سه موضوع داده شده یکی را انتخاب نموده و درباره ی آن انشایی بنویسید.

۱- حس و حال خود را از شنیدن صدای باران بیان کنید.

۲- با استفاده از شیوه ی بازآفرینی ضرب المثل...خانه از پای بست ویران است خواجه در بند نقش ایوان است...گسترش دهید.

۳- جوانی گه کار و شایستگی است گه خودپسندی و پندار نیست، اشاره به چه چیزی دارد توضیح دهید.



دی ماه ۱۳۹۸	درس: پیام های آسمان	پایه: هشتم
تعداد صفحه: ۲	تاریخ آزمون: ۹۸/۱۰ /	مدت امتحان: ۶۰ دقیقه
نام:	نام خانوادگی:	نام دبیر: آقای حاتم پور جزی
پیامبر خدا(ص): فرشتگان، بالهای خود را برای جوینده دانش می گسترانند و برایش آموزش می طلبند.		
بارم	صحیح و غلط	
(۰/۵)	۱- نگاه ما به به پدیده های پیرامون خود، نگاهی گذرا است. ص ( ) غ ( )	
(۰/۵)	۲- روزه برای تندرستی انسان خوب است و برخی بیماری ها را از میان می برد. ص ( ) غ ( )	
(۰/۵)	۳- روزه داری، تنها به تشنگی و گرسنگی نیست. ص ( ) غ ( )	
(۰/۵)	۴- بستن گردنبند از جنس طلا برای مردان در هنگام نماز خواندن، اشکالی ندارد. ص ( ) غ ( )	
(۰/۵)	۵- در هر مکان یا زمینی می توان نماز خواند. ص ( ) غ ( )	
(۰/۵)	۶- شنا کردن در آب روزه را باطل می کند. ص ( ) غ ( )	
چهارگزینه ای		
(۰/۵)	۷- غفار یعنی چه؟ الف) بسیار آمرزنده <input type="checkbox"/> ب) بسیار روزی دهنده <input type="checkbox"/> ج) بسیار گرمی <input type="checkbox"/> د) بسیار بخشنده <input type="checkbox"/>	
(۰/۵)	۸- هدف از ایستادن در غدیر خم چه بود؟ الف) گفتن احکام حج <input type="checkbox"/> ب) اعلام جانشینی علی(ع) <input type="checkbox"/> ج) گفتن حدیث ثقلین <input type="checkbox"/> د) پیوستن به اسلام <input type="checkbox"/>	
کامل کردنی		
(۰/۵)	۹- خداوند، پیامبر اسلام را نخستین ..... قرآن قرار داد.	
(۰/۵)	۱۰- پیامبر اسلام نکات و رازهای قرآن را به ..... آموخت.	
(۰/۵)	۱۱- پیامبر اسلام هر گاه گروهی را برای ماموریت به جایی می فرستاد یکی از آنها را ..... قرار می داد.	
(۰/۵)	۱۲- آگاه باشید هر کس من ولی و صاحب اختیار او بوده ام، اکنون این علی(ع) ..... و ولی اوست.	
پاسخ کوتاه دهید		
۱	۱۳- انسان در برابر خداوند چه وظیفه ای دارد؟	

۱	۱۴- چرا نباید از خطای کسی که اشتباهش را نمی‌پذیرد، گذشت؟
۱	۱۵- بخشی از توصیف بهشت که در قرآن آمده است را بنویسید؟ (۴مورد)
۱	۱۶- عذاب‌های جهنم چگونه پدید می‌آید؟
۱	۱۷- نعمت‌های بهشتی نتیجه چیست؟
۱	۱۸- در رستاخیز (قیامت) از دوزخیان چه می‌پرسند و آن‌ها چه پاسخی می‌دهند؟
<b>پاسخ کامل دهید</b>	
۲	۱- چهار مورد از آداب نماز را بنویسید.
۲	۲- دو مورد از شرایط مکان و پیراهن نمازگزار را بنویسید.
۱	۲۲- بر اساس سخن پیامبر رفتار و گفتار روزه‌دار بهتر است چگونه باشد؟
۲	۲۳- - چهار مورد از مبطلات روزه را نام ببرید.
۱	۲۴- سخن زیر از پیامبر اسلام را کامل کنید و برگردان (ترجمه) فارسی آن را بنویسید؟ <b>صَوْمُوا..... برگردان:</b>

دانش آموز عزیزم در قلب آموزگارت جای دارید. برایتان بهترین‌ها را آرزو داریم.



نام و نام خانوادگی:	<b>دسرستان غمروولتی سلاله</b>	آزمون درس: پیام های آسمانی
نام دبیر:		تاریخ آزمون: ۹۷/۱۰/۲
کلاس و پایه هفت		مدت آزمون: ۶۰ دقیقه
شماره صندلی:		

جاهای خالی را با کلمات مناسب پر کنید ۱- جهنم را خود جهنمیان با

- ۱- خود به وجود آورده اند. ۰/۵
- ۲- دو امانت گرانبهای پیامبر که در بین مردم باقی گذاشتند ..... و. می باشد. ۱
- ۳- استفاده از گردنبند و انگشتر... طلا... بر... مردا. اس / ۰
- ۴- بنا به سخن پیامبر روزه گرفتن سپری است... در... بر... بر... دنیا و پوششی است در برابر عذاب آخرت. ۰/۵

درستی یا نادرستی عبارات زیر را مشخص کنید

- ۵- گرسنگی و تشنگی در ماه رمضان موجب می شود در این ماه به نیازمندان توجه بیشتر کنیم. ۰/۵ درست ( ) نادرست ( )
- ۶- اگر حق الناس برعهده ی کسی باشد برای توبه کردن پشیمانی کافی است. ۰/۵ درست ( ) نادرست ( )
- ۷- خداوند دانا و حکیم ، این جهان زیبا و شگفت انگیز را بیهوده نیافریده است. ۰/۵ درست ( ) نادرست ( )
- ۸- وظیفه هر مرد و زن مسلمان در برابر افراد نامحرم حفظ پوشش مناسب است. ۰/۵ درست ( ) نادرست ( )

گزینه صحیح را مشخص کنید

- ۹- تسبیحات حضرت زهرا سلا ۱ . به...ها م ام س ؟
- الف. ۳۳ بار ۱۱۱ بار ، ۳۳ بار سا با الله ، ۳ بار ۱۱
- ب. ۳۳ بار ۱۱۱ بار ، ۳۳ بار سا با الله ، ۳ بار ۱۱
- ج. ۳۴ بار الله ابر ب ۳ ، ۳ بار سبن ن الله ، ۳ بار ۱۱
- د. ۳۳ بار الله ببر ۳۳ ب ۱
- ۱۰- منظور از نعیم در آیه ۸ سوره تکاثر چیست ؟ ۰/۵
- الف. نعمت محمد و آل محمد صل الله علیه و آ . نت ت دوست . نت ت نانوا . نت ت ای ی لذ و و کازی
- ۱۱- استفاده از کمر بند با چرم گاو در نماز چه حکمی دارد ؟ ۰/۵
- الف . باطل است ب. صحیح است ج. مستحب است د. مکروه است
- ۱۲- خداوند حکیم چه کسی را بعنوان اولین معلم قرآن قرار داد ؟ ۰/۵
- الف. حضرت علی علیه السلا ب اما س سملی السلا . ایام ر ام . ام م یسن یله الس

به سوالا زیر اس ووتا دهی .

۱۳- مبطلا روز یند هه

۱۴- تفسیر یعنی چه ؟

۱۵- غفار به چه معناست ؟

۱۷- از نظم شگفت انگیز جهان و مخلوقات درون آن چه نتیجه ای میتوان گرفت؟ ۱

۱۸- توضیح دهید با چه شرایطی گذشت از خطاهای دیگران شایسته است؟ ۱

۱۹- وقتی گناهکاران اشتباهات خود را به گردن شیطان می اندازند او چه پاسخی به آنها می دهد؟ ۱

۲۰- امام صادق علیه السلام در رابطه با رتبه مسجد میفرماید

۲۱- دو شرط از شرایطی که مکان و لباس نمازگزار باید داشته باشد را بنویسید؟ ۱

۲۲- سه مورد از فواید روزه را بنویسید؟ ۱/۵

۲۳- چرا در روز غدیر خم کافران و منافقان از نابودی اسلام نادمی شدند؟ ۱

۲۴- سه مورد از قوانین اجتماعی دین اسلام را بنویسید ۱/

باسم تال

ام.خاوادگی.

و پرورش

ر و سبک زودگی هشتم

جان: 30 دقیقه

اول شباوه روزی پیام

سازمان

ووبت امتحاوی دیماه

مدیریت آموزش و پرورش شهرستان قیروکارزیه

دبیرستان

/5	<p>توانایی یادگیری هوزوعات پیچیده و تصوین                  ب: رشد جسوانی      ج: رشد اجتواعی      د:</p>
/5	<p>تغییر در احساسات و عواطف و ابراز                  ب: رشد عاطفی      ج: رشد عقلان      د</p>
1	<p>3.....و.                  باعث</p>
/5	<p>یعنی حرکت از وضع هوزود بو                  ت هطلوب . تلا برا رسید ب</p>
/75	<p>5.....!دب.بو.هعنای.                  و..... است.</p>
/5	<p>ب هعشرت را تعریف کنید؟</p>
/75	<p>نوع گفتگو را نام ببرید</p>
/5	<p>د رسانو ای را تعریف کنید؟</p>
5 نمر	<p>با ارزوی هوفقیت</p>



نام و نام خانوادگی: .....  
 پایه و رشته : هشتم  
 نام پدرو: .....  
 شماره داوطلب: .....

اداره کل آموزش و پرورش شهر تهران  
 مدیریت منطقه ۴  
 دبیرستان دوره اول دختران  
 امتحانات پایان ترم اول سال تحصیلی ۹۶-۱۳۹۵

نام درس: تفکر و سبک زندگی  
 تاریخ امتحان: ۱۳ / ۱۰ / ۱۳۹۵  
 ساعت امتحان: ۸ صبح  
 مدت امتحان: ۵۰ دقیقه.

محل مهر و امضا، مدیر	نمره به عدد:	نمره به حروف:	نمره به عدد:	نمره به حروف:
	نام دبیر:	راضیه اشراقی	نام دبیر:	راضیه اشراقی
بارم	سوال	ردیف		
۱	آداب معاشرت را تعریف بفرمائید.	۱		
۱	کنترل نفس را تعریف بفرمائید.	۲		
۰,۲۵	کدام گزینه تعریف صحیح ادب است. الف ادب به معنای درست حرف زدن است. ب ادب به معنای درست گوش کردن است. ج ادب به معنای رعایت احترام و شان خود در موقعیت های مختلف است. د ادب به معنای روشهای نیکو، اخلا سنندید تربید حیید ات	۳		
۰,۲۵	انواع گفت و گو عبارتند از الف توضیحی، مشورتی، حل مسئله ج گپ دوستانه، انتقادی، حل مسئله ب مشورتی، گپ دوستانه د توضیحی، مشورتی، حل مسئله، گپ دوستانه، انتقادی	۴		
۱	موفقیت را تعریف بفرمائید.	۵		
۱	سواد رسانه ای عبارت است از؛ مهارت ها و بصیرت های لازم برای آشنایی با مقلد..... شناسایی..... ، تمییز	۶		
۰,۵	نکاتی که در برخورد با فرد پرخاشگر باید مراعات کرد را بفرمائید.	۷		

نام و نام خانوادگی: ..  
 پایه و رشته : هشتم  
 نام پدرو: .....  
 شماره داوطلب: ..

اداره کل آموزش و پرورش شهر تهران  
 مدیریت منطقه ۴  
 دبیرستان دوره اول دخترانه (سرای دانش)  
 امتحانات پایان ترم اول سال تحصیلی ۹۶-۱۳۹۵

نام درس: تفکر و سبک زندگی  
 تاریخ امتحان: ۱۳ / ۱۰ / ۱۳۹۵  
 ساعت امتحان: ۸ صبح  
 مدت امتحان: ۵۰ دقیقه

ردیف	کلید سوال	بارم
۱	آداب معاشرت را تعریف بفرمائید. مجموع رفتارهای درستی است که باید در برخورد با یکدیگر در موقعیت های مختلف رعایت کنیم تا احترام و شان و منزلت ما حفظ شود.	۱
۲	کنترل نفس را تعریف بفرمائید. کنترل نفس یعنی داشتن یک اراده قوی در بازداشتن خود از توجه به چیزهای زیان آور و زشت ، کنترل خواسته ها ، دور شدن از احساسات منفی یا پرهیز از انجام یک رفتار ناپسند و کنترل بر روی زیاده روی ها .	۱
۳	کدام گزینه تعریف صحیح ادب است الف ادب به معنای درست حرف زدن است. ب ادب به معنای درست گوش کردن است. ج ادب به معنای رعایت احترام و شان خود در موقعیت های مختلف است. د ادب به معنای روشهای نیکو ، اخلا پسندید تریب حیید اس د جواب صحیح	۰,۲۵
۴	انواع گفت و گو عبارتند از الف توضیحی ، مشورتی ، حل مسئله ج گپ دوستانه، انتقادی، حل مسئله د جواب صحیح	۰,۲۵
۵	موفقیت را تعریف بفرمائید. یعنی برنامه ریزی و تلا برا رسید به د ررت ا وع موجو ب وعیو مطلو داشته امی تول ب دداوژ متعا و خلاقی	۱
۶	سواد رسانه ای عبارت است از؛ مهارت ها و بصیرت های لازم در برورر عاقلانه ا تبلیات رسا ه شناخت تاثیر پیام ها بر افکار ، تصمیمات و سبک زندگی ماست. ا ، آهای ز مقاد واهد ف حالبن رسا ه	۱
۷	نکاتی که در برخورد با فرد پرخاشگر باید مراعات کرد را بفرمائید. اول سکوت کنید و پس از آنکه خشم طرف مقابل برطرف شد به آرامی با او صحبت کنید.	۰,۵

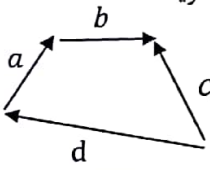
نام و نام خانوادگی: ..  
پایه و رشته : هشتم  
نام پدرو:.....  
شماره داوطلب:..

اداره کل آموزش و پرورش شهر تهران  
مدیریت منطقه ۴  
دبیرستان دوره اول دخترانه (سرای دانش  
امتحانات پایان ترم اول سال تحصیلی ۹۶-۱۳۹۵


نام درس: تفکر و سبک زندگی  
تاریخ امتحان: ۱۳ / ۱۰ / ۱۳۹۵  
ساعت امتحان: ۸ صبح  
مدت امتحان: ۵۰ دقیقه.

--	--	--



دبیرستان پسرانه غیر دولتی برتران علم		مشخصات آزمون	زمان آزمون	مشخصات دانش آموز
		درس : ریاضی	تاریخ ۹۸/۱۰/۲۵	نام :
		دوره : متوسطه اول	ساعت : ۹ صبح	نام خانوادگی :
		نوبت : اول	مدت : ۱۰۰ دقیقه	شماره : پایه : هشتم
بارم	سوالات			ردیف
۱	<p>جملات درست را با (✓) و نادرست را با (X) مشخص کنید.</p> <p>(الف) چند ضلعی های منتظم مرکز تقارن دارند . <input type="radio"/></p> <p>(ب) هر عدد طبیعی و صحیح یک عدد گویا است . <input type="radio"/></p> <p>(ج) دو عبارت <math>5xy^2</math> و <math>-2y^2x</math> متشابه نیستند . <input type="radio"/></p> <p>(د) دو بردار قرینه موازی و هم اندازه هستند . <input type="radio"/></p>			۱
۱	<p>کامل کنید</p> <p>(الف) <math>2\frac{1}{3} \times \dots = -1</math> ..... <input type="radio"/></p> <p>(ب) چند ضلعی که حداقل یک زاویه بزرگتر از <math>180^\circ</math> درجه داشته باشد چند ضلعی ..... گویند . <input type="radio"/></p> <p>(ج) مستطیل ..... محور تقارن دارد . <input type="radio"/></p> <p>(د) در شکل مقابل بردار ..... حاصل جمع سه بردار دیگر است . <input type="radio"/></p> 			۲
۱	<p>گزینه صحیح را با (✓) مشخص کنید.</p> <p>(الف) حاصل عبارت مقابل کدام گزینه است؟  <math>-3 + 6 - 9 + 12 - \dots - 63 + 66 = ?</math>  <input type="radio"/> ۷۵۶      <input type="radio"/> ۶۶۶      <input type="radio"/> ۳۳      <input type="radio"/> ۶۶</p> <p>(ب) کدام دسته از اعداد همگی اول هستند؟  <input type="radio"/> (۴۹, ۲۳)      <input type="radio"/> (۳۷, ۱۳)      <input type="radio"/> (۵۱, ۱۱)      <input type="radio"/> (۹۱, ۷)</p> <p>(ج) اختلاف بزرگترین عدد اول دو رقمی و کوچکترین عدد مرکب یک رقمی مضرب کدام عدد اول است؟  <input type="radio"/> ۱۷      <input type="radio"/> ۳۱      <input type="radio"/> ۱۳      <input type="radio"/> ۱۱</p> <p>(د) اندازه هر زاویه خارجی <math>n</math> ضلعی منتظم کدام است؟  <input type="radio"/> <math>\frac{360}{n}</math>      <input type="radio"/> <math>180 \cdot n</math>      <input type="radio"/> ۳۶۰      <input type="radio"/> ۱۸۰</p>			۳
۰.۱۷۵	<p>حاصل را به دست آورید.</p> <p>(الف) <math>5 - 5(18 \div 3 - 2 \times 3) =</math></p>			۴
۰.۱۷۵	<p>(ب) <math>\left[-\frac{3}{42} - \left(-\frac{6}{35}\right)\right] =</math></p>			

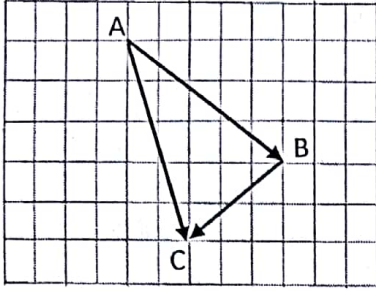
۱	$-\frac{25 \times 18 \times (-35)}{(-120) \times (-14)} =$	ج) حاصل را به دست آورید.
۰/۱۵	$-\sqrt{81}, \sqrt{7} + 2, \sqrt{35 + 1}, -\frac{5}{7}$	۵ الف) دور اعدادی که گویا نیستند خط بکشید. ب) دو عدد فرد مرکب بنویسید که نسبت به هم اول باشند.
۰/۱۵		ج) عدد ۹۱ اول است یا مرکب؟ چرا؟
۰/۱۷۵		۶ در غربال ۱ تا ۱۰۰ به سوالات زیر پاسخ دهید. الف) آخرین عددی که خط می خورد چند است؟ ب) ۷۷ برای اولین بار توسط چه عددی خط می خورد؟ ج) دومین عددی که با مضرب های ۵ خط می خورد چه عددی است؟
۱/۱۷۵		۷ در شکلهای زیر اندازه مجهول را پیدا کنید.
۱/۱۵		۸ الف) مجموع زاویه های داخلی یک ۱۲ ضلعی را پیدا کنید. ب) اندازه هر زاویه خارجی یک n ضلعی منتظم برابر ۱۸ درجه است، این شکل چند ضلعی است؟ ج) آیا ۸ ضلعی منتظم به تنهایی برای کاشی کاری مناسب است؟ چرا؟
۰/۱۷۵		۹ با عبارت جبری نشان دهید حاصل جمع عددی فرد با عددی زوج، عددی فرد است.

دبیرستان پسرانه غیر دولتی برتران علم		مشخصات آزمون	زمان آزمون	مشخصات دانش آموز													
		درس : ریاضی	تاریخ : ۹۸/۱۰/۲۲	نام :													
		دوره : متوسطه اول	ساعت : ۹ صبح	نام خانوادگی :													
		نوبت : اول	مدت : ۱۰۰ دقیقه	شماره :	پایه : هشتم												
صفحه ۳																	
۱	$\frac{3x}{2} + \frac{1}{4} = \frac{3x}{5}$	معادله زیر را حل کنید.				۱۰											
۱	$(2a + b)(2a - b) =$	الف) عبارت جبری زیر را ساده کنید.				۱۱											
۱	$y = 2x - 3$	ب) با توجه به رابطه $x, y$ مقدار $y$ را برای $x$ های مختلف و بالعکس پیدا کنید.															
		<table border="1"> <thead> <tr> <th><math>x</math></th> <th><math>y</math></th> </tr> </thead> <tbody> <tr> <td>۱</td> <td></td> </tr> <tr> <td>۰</td> <td></td> </tr> <tr> <td></td> <td>۳</td> </tr> <tr> <td>-۱</td> <td></td> </tr> </tbody> </table>				$x$	$y$	۱		۰			۳	-۱			
$x$	$y$																
۱																	
۰																	
	۳																
-۱																	
۱	$\frac{ab^2 - a^2b}{b^2 - ab} =$	ج) با تبدیل به ضرب (تجزیه) صورت و مخرج ، عبارت را ساده کنید .															
۰/۷۵		۱۲ برای مسئله زیر فقط یک معادله بنویسید. (حل آن لازم نیست). « هنگام تولد رها پدرش ۳۵ سال داشت . اکنون مجموع سن آنها ۴۱ سال است. رها چند سال دارد؟ »															
۰/۱۵		۱۳ در شکل زیر اندازه زاویه های خواسته شده را به دست آورید. $\hat{A} = \dots\dots\dots$ $\hat{P} = \dots\dots\dots$															
۱		۱۴ اگر نسبت مجموع زاویه های داخلی به مجموع زاویه های خارجی یک $n$ ضلعی $Y$ به $Z$ باشد، مقدار $n$ را بیابید.															

۱۵

برای شکل مقابل یک جمع برداری و یک جمع مختصاتی بنویسید.

۱/۲۵



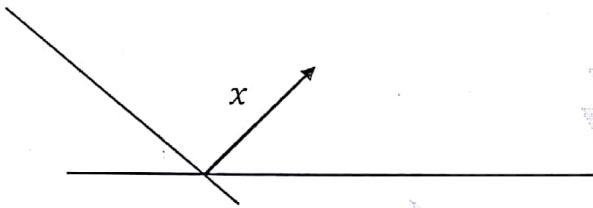
$$\text{جمع برداری : } \vec{a} + \vec{b} = \vec{c}$$

$$\text{جمع مختصاتی : } \begin{bmatrix} \quad \\ \quad \end{bmatrix} + \begin{bmatrix} \quad \\ \quad \end{bmatrix} = \begin{bmatrix} \quad \\ \quad \end{bmatrix}$$

۱۶

الف) بردار  $\vec{x}$  را روی امتداد های رسم شده تجزیه کنید.

۰/۵

ب) مقدار  $x, y$  را در معادله مختصاتی زیر به دست آورید.

۰/۷۵

$$\begin{bmatrix} x + 1 \\ 5 \end{bmatrix} = \begin{bmatrix} -1 \\ y - 1 \end{bmatrix}$$

تصحیح :

نمره با حروف :

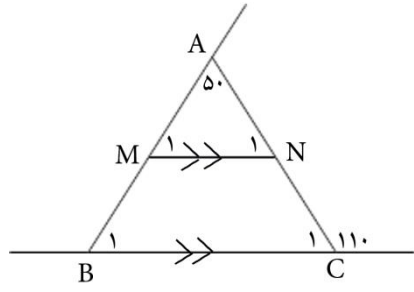
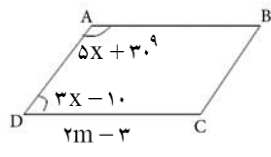
نمره با عدد :

۲۰

جمع

محل مهر	مدت امتحان: ۱۱ دقیقه	باسمه تعالی اداره کل آموزش و پرورش استان گیلان مدیریت آموزش و پرورش شهرستان لاهیجان دبیرستان غیرانتفاعی یاس	نام:
	ساعت برگساری: صبح		نام خانوادگی:
	تاریخ امتحان: ۸۹/۰۱/۰۱		سوالا امتا درس ریای
صفحه: ۰	تعداد صفحات سؤال: ۳		پایه: هشتم دوره اول متوسطه
نمره پس از تجدیدنظر:		نمره با حروف:	نمره با عدد:
نام و نام خانوادگی دبیر و امضا:			

بارم	عنوان سوال	ردیف
۱	<p>غشیح یا غلط تودن گشاره‌ی آسبز را تا <input checked="" type="checkbox"/> واد <input type="checkbox"/> هشخ کنید</p> <p>الف حاغل ضرب عؤدد در قزی نه هعکوسص تراتز تا یک است</p> <p>ب و ه ی هضرب لی یک عدد هزکب، هزکب سئند</p> <p>ج دو خط عوود تزیک خط تا ن هواسیند.</p> <p>د اگز هختصات یک تزدار را در عددی هنی هضرب کنین تزدار حاغل تا تزدار اغلی ن جهت است. ص <input type="checkbox"/> غ <input type="checkbox"/></p>	۱
۱	<p>۲ ز یک اس جولاسیرتدد ی مل و هاسه ماه نیی</p> <p>الف چهارضلعی که فقط دو ضلع هواسی... دارد. آم دارد.</p> <p>ب n ضلعی... هنتظن... هحور تقارن دارد</p> <p>ج جول ه ی n ام بآله ی عددی ۳, ۸, ۱۳, ۱۸, .... تراتز... تا. است.</p> <p>د جواب هعادل ه ی <math>\frac{x}{2} = \frac{3}{4}</math> ... هساوی... هی تاخذ.</p>	۱
۱	<p>۳ پاسخ درست را تا واد <input checked="" type="checkbox"/> هشخ کنید.</p> <p>A کداهیک اس چندضلعی لی هنتظن سیوی توان ته تنهایی کاضی کاری کزد؟</p> <p>الف سه ضلعی هنتظن <input type="checkbox"/> ب چهارضلعی هنتظن <input type="checkbox"/> ج آف ضلعی هنتظن <input type="checkbox"/> د ضص ضلعی هنتظن <input type="checkbox"/></p> <p>B هعکوس کدام عدد اس خودش کوچکتز است؟</p> <p>الف <input type="checkbox"/> -۳ <input type="checkbox"/> ب <input type="checkbox"/> -۱ <input type="checkbox"/> ج <input type="checkbox"/> -۲ <input type="checkbox"/> د <input type="checkbox"/> ۲</p> <p>کدام گشی نه ووارسبب ته ن اول سئند.</p> <p>الف دو عدد هزکب <input type="checkbox"/> ب یک عدد اول و یک عدد هزکب <input type="checkbox"/> ج دو عدد اول <input type="checkbox"/> د دو عدد فزد <input type="checkbox"/></p> <p>D اگز قظه <math>A = \begin{bmatrix} 4x - 2 \\ 18 \end{bmatrix}</math> رو هوساس رتغ اول و سوم تاخذ، هقدار x کدام است؟</p> <p>الف <input type="checkbox"/> ۵ <input type="checkbox"/> ب <input type="checkbox"/> -۴ <input type="checkbox"/> ج <input type="checkbox"/> ۴ <input type="checkbox"/> د <input type="checkbox"/> -۵</p>	۳
۲	<p>حاغل عبارات سیز را تدست آورید.</p> <p>الف <math>3 \times 3 - 7 + 8 \times 2 - 32 \div 8 =</math> ؟</p> <p>ب <math>\left[ \left( -\frac{7}{9} \right) + \left( -\frac{4}{15} \right) \right] \div \left( -2 + \frac{3}{25} \right) =</math> ؟</p>	۴

<p>۲</p>	<p>الف- در تساوی هقاتل هقدار X را تدست آورید.</p> $-\frac{۳۲}{۲۴} = -\frac{۲۰}{X}$ <p>ب کسر هقاتل را ساده کنید.</p> $\frac{(-۷) \times (+۷۲) \times (-۵۵)}{۸۸ \times (-۴۲)} =$ <p>ج هحیط هستطیلی ته طول <math>۲\frac{۲}{۵}</math> و عرض <math>\frac{۳}{۴}</math> را تدست آورید.</p>	<p>۵</p>
<p>۲</p>	<p>الف سه ترازه هجووع دو عدد اول ۲۵۵ ضده است حاغلضرب آن دو عدد کدام است؟</p> <p>ب در غزتال عدد آی ۱ تا ۱۰۰ ته سوالا سیه لاسه دَی</p> <p>اولیی عددی که خط هی خورد کدام است؟</p> <p>در هزحل ه حذف هضزب آی ۵، اولیی هضزب ۵ که ته عنوان هضزب آی سایز عددخط خورد؟</p> <p>آخزبیی عدد اولی که هضزب آی آن خط هی خورد کدام است؟</p> <p>آخزبیی عددی که خط هی خورد کدام است؟</p>	<p>۶</p>
<p>۱</p>	<p>۷ در ضکل سیز هقدار ساوی هی آخواسته ضده را تدست آورید.</p>  <p> <math>\hat{N}_1 =</math>                      <math>\hat{B}_1 =</math>  <math>\hat{M}_1 =</math>                      <math>\hat{C}_1 =</math> </p>	<p>۷</p>
<p>۱/۵</p>	<p>۸ در هتواسی الاضلاع سیه، هار X و m را بدست آورید.</p> 	<p>۸</p>
<p>۱</p>	<p>۹ الف لداسه سَواوی ه داخلی یک ۱۲ ضلعی هنتظن را تدست آورید.</p> <p>ب هجووع ساوی ه آی خارجی ز ۱۰ ضلعی چند درجه است؟</p> <p>ج لداسه سَواوی ه ی خارجی کدام چند ضلعی هنتظن ۳۰ درجه است؟</p>	<p>۹</p>
<p>۱/۵</p>	<p>۱۱ ثاتت کنید هجووع دو عدد فرد، عددی سوچ است.</p> <p>ثاتت کنید هجووع زعدد دورقوی تا هقلوتص سَواره تز ۱۱ تخص پذیر است.</p>	<p>۱۱</p>

۱	<p>عبارت جبری سیز را ساده کنید.</p> $5x^2 + (5x + 1)(x - 2)$	۱۱
۰/۵	<p>عبارت جبری سیز را تجشیه کنید.</p> $3a^2 - 9ab =$	۱۲
۱	<p>معادله ی سیز را حل کنید.</p> $\frac{2x-1}{2} - \frac{x}{3} = \frac{3x-1}{3} - \frac{x}{2}$	۱۳
۱	<p>الف- قزی نه ی قظه <math>\begin{bmatrix} 4 \\ -5 \end{bmatrix}</math> رلسبت ته قظه ی <math>\begin{bmatrix} -2 \\ 3 \end{bmatrix}</math> تدست آورید.</p> <p>ب- هقدار m چه عددی تاضد تا دو تزدار <math>\begin{bmatrix} 4 \\ 8 \end{bmatrix}</math> و <math>\begin{bmatrix} -6 \\ 2m-2 \end{bmatrix}</math> هواسی تاضند.</p>	۱۴
۱	<p>در تساوی هقاتل هقدار هجهول را تدست آورید.</p> $\begin{bmatrix} 4x \\ -7 \end{bmatrix} + \begin{bmatrix} 9 \\ 2-3y \end{bmatrix} = \begin{bmatrix} 1 \\ -2 \end{bmatrix}$	۱۵
۱/۵	<p>الف- اگز <math>\vec{a} = 5\vec{i} - 2\vec{j}</math> و <math>\vec{b} = \begin{bmatrix} 1 \\ 2 \end{bmatrix}</math> تاضد هختصات <math>\vec{x} = 3\vec{a} - 5\vec{b}</math> را تدست آورید.</p> <p>ب- معادله هختصات سیز را حل کنید.</p> $5\vec{i} - 3\vec{j} + 2\vec{x} = \begin{bmatrix} 4 \\ -1 \end{bmatrix}$ <p>دختی گلن لطفه لوصتته لی خود را یکبار دیگر تا دقت هزور کنید.</p> <p>داصرته آسان توآلی هی تخشد و ارسش المذته آوی تهیآ اوست. در پناه یشدان پیزوس تاضید</p>	۱۶

به نام خدا

تاریخ آزمون ۹۸/۱۰/۲۳

وزارت آموزش و پرورش جمهوری اسلامی ایران

نام و نام خانوادگی :

زمان آزمون: ۴۵

اداره آموزش و پرورش شهرستان لاهیجان

نام دبیر: علی نقاشی

شعبه کلاس :

دبیرستان پسرانه یاسین - متوسطه اول

آزمون درس : زبان هشتم

۱. کدام کلمه با بقیه متفاوت است. ( ۱ نمره)

1. England – Japan\_ Pakistan- Spanish

2. patient- hospital- nurse- doctor

۲. اسامی چهار شهر داده شده است. شما نام کشور و ملیت آن را بنویسید. ( ۲ نمره)

City	Country	Nationality
Lahijan		
Paris		
London		
Tokyo		

۳. یکی از دوستان شما درخواست کرده تا عبارات زیر را برایش به زبان شیرین فارسی برگردانید. ( ۲ نمره)

1. Have a good weekend!

.....

2. Talking about Nationalities!

.....

3. Listen to the students talking about their abilities. ....

4. Excuse me! I have a question.

۴. با کلمات داده شده یک جمله بنویسید. ( ۴ نمره)

1. this- come- my- afternoon- to- house-

.....

2. stories- good- who- telling- is- at- ?

.....

3. teacher- to- let's- your- talk-

.....

4. speaks- my friend- a little- English- and- Persian-

.....

۵. جاهای خالی را با کلمه مناسب تکمیل کنید. ( ۲ نمره)

1. Which is..... for کش in English, S-H-O-O-S or S-H-O-E-S?



2. I go to the ..... on Sundays.
3. Shiva is not very..... at English.
4. You can..... your drawing book, too.

۶. برای عبارت های داده شده توصیه بهداشتی (health advice) مناسب بنویسید. ( ۲ نمره)

1-

I have a headache. ☹️

Why.....?

2-

I have a toothache. ☹️

.....?

۷. کلیه واژه های انگلیسی را در مقابل نام بیماری بنویسد. ( ۱ نمره)

..... ۲. سرما خوردگی

..... ۱. سوزش چشم

۸. بنویسد که در یک گردش علمی در چه کارهایی می توانید کمک کنید. ۲ مورد کافی است. ( ۲ نمره)

1-

.....

2-

.....

۹. به سوالات زیر پاسخ دهید. ( ۲ نمره)

1. What's your nationality? .....

2. What do you do in the evenings?

.....

3. What days do you play sports?

.....

4. Can you make tea?

.....

۱۰. املا کلمات زیر را کامل کنید. ( ۲ نمره)

1. comp.....ter

2. p.....rents

3. Shop.....ing

4. Rel.....tives

به نام خدا

تاریخ آزمون ۹۸/۱۰/۲۳

وزارت آموزش و پرورش جمهوری اسلامی ایران

نام و نام خانوادگی :

زمان آزمون: ۴۵

اداره آموزش و پرورش شهرستان لاهیجان

نام دبیر: علی نقاشی

شعبه کلاس :

دبیرستان پسرانه یاسین - متوسطه اول

آزمون درس : زبان هشتم

۱. کدام کلمه با بقیه متفاوت است. ( ۱ نمره)

1. England – Japan\_ Pakistan- Spanish

2. patient- hospital- nurse- doctor

۲. اسامی چهار شهر داده شده است. شما نام کشور و ملیت آن را بنویسید. ( ۲ نمره)

City	Country	Nationality
Lahijan		
Paris		
London		
Tokyo		

۳. یکی از دوستان شما درخواست کرده تا عبارات زیر را برایش به زبان شیرین فارسی برگردانید. ( ۲ نمره)

1. Have a good weekend!

.....

2. Talking about Nationalities!

.....

3. Listen to the students talking about their abilities. ....

4. Excuse me! I have a question.

۴. با کلمات داده شده یک جمله بنویسید. ( ۴ نمره)

1. this- come- my- afternoon- to- house-

.....

2. stories- good- who- telling- is- at- ?

.....

3. teacher- to- let's- your- talk-

.....

4. speaks- my friend- a little- English- and- Persian-

.....

۵. جاهای خالی را با کلمه مناسب تکمیل کنید. ( ۲ نمره)

1. Which is..... for کش in English, S-H-O-O-S or S-H-O-E-S?

2. I go to the ..... on Sundays.
3. Shiva is not very..... at English.
4. You can..... your drawing book, too.

۶. برای عبارت های داده شده توصیه بهداشتی (health advice) مناسب بنویسید. ( ۲ نمره)

1-

I have a headache. ☹️

Why.....?

2-

I have a toothache. ☹️

.....?

۷. کلیه واژه های انگلیسی را در مقابل نام بیماری بنویسید. ( ۱ نمره)

۱. سوزش چشم .....  
۲. سرما خوردگی .....

۸. بنویسد که در یک گردش علمی در چه کارهایی می توانید کمک کنید. ۲ مورد کافی است. ( ۲ نمره)

1-

.....

2-

.....

۹. به سوالات زیر پاسخ دهید. ( ۲ نمره)

1. What's your nationality? .....

2. What do you do in the evenings?  
.....

3. What days do you play sports?  
.....

4. Can you make tea?  
.....

۱۰. املا کلمات زیر را کامل کنید. ( ۲ نمره)

1. comp.....ter

2. p.....rents

3. Shop.....ing

4. Rel.....tives

نام، نام خانوادگی،  
مقطع و رشته: هشتم  
نام، پدیده:  
شماره، دلخواه:  
تعداد صفحه سؤال: ۳  
صفحه

جمهوری اسلام ایران  
اداره ی کل آموزش و پرورش شهر تهران  
اداره ی آموزش و پرورش شهر تهران منطقه ۱۱ تهران  
دبیرستان غیردولتی دخترانه سرای دانش واحد انتقال  
آزمون پایان ترم نوبت اول سال تحصیلی ۹۹-۱۳۹۸

نام درس: زبان انگلیسی  
نام دبیر: پروین بابامرادی  
تاریخ امتحان: ۱۳۹۸/۱۰/۰۸  
ساعت امتحان: ۰۰: ۰۸: صبح  
مدت امتحان: ۶۰ دقیقه

نمره به عدد:		نمره به حروف:	نمره به عدد:		نمره به حروف:
نام دبیر:		تاریخ و امضاء:	نام دبیر:		تاریخ و امضاء:
محل مهر و امضاء مدیر					
ردیف	سؤال	پاسخ	ردیف	سؤال	پاسخ
۱	<p>جملا ناص زیر به مللا داد مد الما ننید</p> <p>who-Italy- back -toothache- Iran</p> <p>۱-Is she Iranian? No, she is from .....</p> <p>۲- They will be ..... in a minute.</p> <p>۳- ..... is that woman standing over there?</p> <p>۴- I have a..... I should go to the dentist.</p>		۱		
۱	<p>برای سوالا مت پ الما نناید ا مت رات بیاید (د تتو مت رات ی وور الما ات</p> <p>۱. What do you do in the evenings? ..... a. Yes, my mother</p> <p>۲. What's the problem? ..... b. I can't make it.</p> <p>۳. How about Friday afternoon? ..... c. play football</p> <p>۴. Are you good at driving? ..... d. I have a backache</p> <p>e.yes, of course.</p>		۲		
۱	<p>جاهای خالی را با نوشتن اسامی کشورها یا ملیت ها کامل کنید.</p> <p>U.S.A .....</p> <p>Greece .....</p> <p>China .....</p> <p>England .....</p>		۳		

<p>۱</p> <p>.....</p> <p>.....</p> <p>۰.۷۵</p>	<p>کلمات زیر را مرتب کنید و یک جمله کامل بنویسید.</p> <p>they/from/ are/where/?</p> <p>.....</p> <p>good /is/ cake/ making/ at/she/.</p> <p>.....</p> <p>دور کلمه ناهماهنگ خط بکشید.</p> <p>۱) a. headache      b. nurse      c. running nose      d. backache</p> <p>۲) a. evening      b. morning      c. Saturday      d. midday</p> <p>۳) a. Egypt      b. Asia      c. Africa      d. Europe</p>	<p>۴</p> <p>۵</p>
<p>۰.۷۵</p>	<p>با دانش خود کامل کنید.</p> <p>۱-Today is Wednesday. Tomorrow is.....</p> <p>۲-His eyes are red. I think he has .....eyes.</p> <p>۳- A: I don't feel ok. I have a headache.    B: I think you should go home and .....</p>	<p>۶</p>
<p>۱</p>	<p>پاسخ سوالا زیرر بدهید(ووا ووتا بلند</p> <p>۱-Are they good at painting? (Yes)</p> <p>۲-Can Sara take photos? (No)</p>	<p>۷</p>
<p>۱.۵</p>	<p>گزینه صحیح را انتخاب کنید.</p> <p>۱. ----- your nationality?</p> <p>a. Which      b. Where      c. When      d. What</p> <p>۲. Where are you from? I'm originally ..... but I live in France</p> <p>a. Brazil      b. French      c. Turkish      d. America</p>	<p>۸</p>

	<p>۲. I watch TV ----- the afternoon.</p> <p>a.at      b. on      c.in      d. for</p> <p>۴. The class starts -----۵:۳۰.</p> <p>a. in      b. at      c. on      d. for</p> <p>۵-What days do you go to school?</p> <p>a. every day      b. in the morning</p> <p>c. at Monday and Tuesday      d. at ۶:am</p> <p>۶. Can Leila ..... the web?</p> <p>a. work      b. search      c. searching      d. working</p>	
<p>۱</p>	<p>معادل فارسی عبارتهای زیر را بنویسید.</p> <p>Friday afternoon:</p> <p>Morning prayers:</p> <p>Week days:</p> <p>At midnight:</p>	<p>۹</p>
<p>۱</p>	<p>با توجه به مکالمه زیر درستی . یا نادرستی عبارت های زیر را مشخص کنید: درست: T نادرست: F</p> <p>Shayan: Mr. Chaychi, this is my cousin Sam. He speaks French, English, and a little Persian.</p> <p>Teacher: Oh, nice to meet you, Sam.</p> <p>Sam: Nice to meet you, too.</p> <p>Teacher: Are you from Iran?</p> <p>Sam: Yes, I'm originally Iranian, but I live in France.</p> <p>Teacher: Welcome to our class. How do you like it in Iran?</p> <p>Sam: Iran is great! I love it. It's a beautiful country.</p> <p>۱-Mr. Chaychi is a student.</p> <p>۲-Sam is not good at speaking English.</p> <p>۳-Shayan lives in France.</p> <p>۴-Sam likes Iran.</p>	<p>۱۰</p>

نام درس: زبان انگلیسی هشتم

نام دبیر: بابامرادی

تاریخ امتحان: ۰۸ / ۱۰ / ۱۳۹۸

ساعت امتحان: ۸ صبح

مدت امتحان: ۶۰ دقیقه

اداره ی کل آموزش و پرورش شهر تهران  
اداره ی آموزش و پرورش شهر تهران منطقه ۱۱ تهران  
دبیرستان غیر دولتی دخترانه سرای دانش واحد انقلا  
کلید  
سؤالا ۱۱ یا تر نوبت او سا تصییدا ۹-۸ ی



ردیف	راهنمای تصحیح	محل مهر یا امضاء مدیر
۱	۴- toothache	۱- Italy- ۲-back ۳-who
۲		۱-c ۲-d ۳-b ۴-e
۳		American Greek Chinese English /British
۴		۱-where are they from? ۲-she is good at making cake
۵		۱-b ۲-c ۳-a
۶		۱-thursday ۲- sore ۳-rest
۷		۱- Yes,they are they are good at painting ۲- No, she can't. she can't take photos.
۸		۱-d ۲-c ۳-c ۴-b ۵-a ۶-b
۹		جمعه بعد از ظهر -نیایشهای صبحگاهی -روزهای هفته-در نیمه شب
۱۰		۱-F ۲-F ۳-F ۴-T
جمع بارم : ۲۰ نمره		نام و نام خانوادگی مصحح :
		امضاء:

نام درس : عربی	سمه تعالی وزارت آموزش و پرورش کارشناسی سنجش و ارزشیابی تحصیلی متوسطه مدیریت آموزش و پرورش خراسان شمالی دبیرستان غیر دولتی دخترانه علوم	تاریخ امتحان : ۸۹/۱۰/ ۵۲
طراح سوال : محمدی رازی		مدت پاسخگویی : ۰۰ دقیقه
نام دبیر :		پایه و رشته تحصیلی : هشتم (متوسطه اول)
نام و نام خانوادگی :		تعداد صفحات : ۱
تعداد سوالات ۱		مهر مدرسه :

ردیف	سوالا	نمره
1	جمله ها و عبارات زیر را ترجمه کنید؟ ۱) الْعَرَبُ بَيْنَ الْمَغْلَبِ وَالرَّحْمَةِ مُمْتَلَأَةٌ ۲) أَنَا أَحَبُّ الرِّفَاضَانِ لَا بِهِنَّ زُأْفُ رِقَّةٍ مَدَمٍ ۳) هَذِهِ الْأَهْوِيَّةُ جَدِيدَةٌ بِرُحْمَةٍ ۴) بَدَأْتُ بِالْحَوَارِ مَعَهَا فِي سَاحَةِ الْمَدْرَسَةِ ۵) ثَمَرَةُ الْعَقْلِ مُدَارَةُ النَّاسِ	4/5
2	آیه و حدیث زیر را به فارسی ترجمه کنید؟ ۱. مَنْ كَتَمَ عِلْمًا فَكَانَهُ جَاهِلٌ ۲. وَمَنْ يَشْكُرْ فَإِنَّمَا يَشْكُرُ لِنَفْسِهِ	2
3	ترجمه درست هر عبارت را مشخص کنید. الف: يَلِدُ اللَّهُ مَعَ الْجَمَاعَةِ ب: لَا جُبَا يُجَا إِلَىٰ مِهَ ۱) (کشور به بعضی شغل ها نیاز دارد) ۲) (کشور به هر شغلی نیاز دارد). ۱) (دست خدا با جماعت است) ۲) (یاری خدا در همبستگی است)	%۵
4	نام هر تصویر را زیر آن بنویسید (یک کلمه اضافی است) (شُرْطِي ، حَلَوَانِي ، فَرَسَ)	%۵
	 	
5	کلمات مترادف و متضاد را دو به دو کنار هم بنویسید (یک کلمه اضافی است) رأى ، جميل ، خَلْف ، قَبِيح ، شاهد ۱) ..... = ..... ۲) ..... ≠ .....	%۵
6	معنی واژه های مشخص شده را بنویسید؟ الف) بِلِسَانِ عَرَبِيٍّ مُبِينٍ ب) (أَسْرِي بِلَوْكِيٍّ يَجْعَلِي الدَّ)	%۵
۷	در هر ردیف کلمه ناهمگونک را مشخص کنید؟ الف: سُمَكَةٌ □ سَاحَةٌ □ شَارِعٌ □ طَرِيقٌ	%۵



	ب: الفَضَّة □ ا □ س □ الأُلُما □ لمي □	
۰/۵	فعل های ماضی و مضارع را در جملا زی مخص ننید الف: نَحْنُ ذَهَبْنَا إِلَى صَفَّةٍ ب: أَنَا أَعْرِفُ الْكَلِمَاتِ	۸
۱/۵	با توجه به جملا داد مدد فعه مناسر اننا ننید الف: نحن ... إلى الجبل ب: أنت مُوظَّفَةٌ ... رسائل اداریه ج: هو ... قُبُورِ الشُّهَدَاءِ د: ماذا تَفْعَلُ يا وَاكِدْ؟ ... الكتاب و: يا أُخْتِي هل ... التفاحه؟ ه: أنت ... الباب قبل دقيقتین	۹
۱	هر کلمه را به توضیح مرتبط به آن وصل کنید ( یک کلمه اضافی است حُسْنُ الْخُلُقِ □ مَوْتِ الْأَيَّامِ ل نَدَّاهَ □ نَفِ الْمَدِي الجَهْلِ □ بَلَا أَنْسَلُ لَنْفِ يه اللِّسَانِ □ الْوَقْتُ مِثْلُهُ	۱۰
۲	متن زیر را بخوانید و به سوالا آااس دهید اسمی آیلا آیرر یائهُرَّ بِي لَمَعْنَا أَقْمَرِ. وَ اَلْمَتَى نَهْ يَهْ سِي تَرَ كَ ماضِمَ والدی مَدَّ الْكَيْسِيَاءِ نَزَعَ نَعْفِي مَدَّ يَنْ مَهْ الف: آیلا با تتریی بمعن اقامه ب: آیلا تعیف مدینه تبریه ج: ماهی مهنته واده آیلاار د: ماهو مهنته والد آیلاار	۱۱
۱	به پرسش های زیر پاسخ کوتاه دهید؟ (۱) من أين أنت؟ (۲) كم صَفَاً فِي مَدْرَسَتِكَ؟ (۳) كيف حالك؟ (۴) ما اسمُ مَعْمَتِكَ؟	۱۲
۳	نمره روخوانی؟	۱۳
۲	نمره مکالمه؟	۱۴
موفق باشید		جمع نمرات ۱۵

بسمه تعالی

نام و نام خانوادگی : .....	دوره اول متوسطه پورچندی	نام درس : عربی
پایه : هشتم	امتحانات پایان ترم اول سال تحصیلی	تاریخ امتحان :
نام پدر : .....	نام دبیر :	مدت امتحان : ۴۰ دقیقه

ردیف	شرح سؤال	بارم
۱	سخنان حکیمانه زیر را به فارسی ترجمه کنید. الف : العلم خزائن و مفتاحها السؤال . ج : العقل حسام قاطع . ب : اکثر خطایا ابن آدم فی لسانه. د : من کتم علماً فکانه جاهل .	۲
۲	جمله های زیر را به فارسی ترجمه کنید. الف : ذلك اللاعبُ فائزٌ . /۵ . ب : نحن بحاجة الى تعلم اللغة العربية . /۷۵ . ج : الزراعة عملٌ مهم لتقدم البلاد . /۵ . د : فیر جمع الى والدته وبيحثُ عن الحل . "ا" و : هذه المرأة تغسل قبور الشهداء . /۷۵ . ز : وجعلنا من الماء كل شی حی . /۵ .	۴/۵
۳	ترجمه ناقص را کامل کنید. الف : ادب المرء خیر من ذهبه . ادب آدمی بهتر از ..... اوست . ب : هذه البنتُ تعملُ فی المختبر . این دختر در ..... کار می کند .	۰/۵
۴	ترجمه صحیح را انتخاب کنید. الف ( نحن ذهبنا الى صفاً . ۱ - ایشان به کلاسهایشان رفتند □ ما به کلاسمان رفتیم □ ب ( انت سوف تفحصین المريضة . ۱ - تو بیماران را ملاقات خواهی کرد . ۲ - تو بیمار را معاینه خواهی کرد .	۰/۵
۵	کلمات مترادف و متضاد را با علامت # مشخص کنید (یک مورد انتخابی). أب ..... والد حزن ..... فرح ..... بستان ..... حديقة بیع ..... شراء شاهد ..... رأی	۱
۶	کلماتی که زیر آن خط کشیده شده را به فارسی ترجمه کنید. فی الاسبوع الثالث فی يوم السبت جاءت اليها احدى زميلاتها .	۰/۵
۷	کدام کلمه با سایر کلمات ناهم‌هنگ است؟ ۱- بقره □ فرس □ مهنة □ غراب □ ۲- شعرن □ لاعبون □ فاعلين □ مدرسات □	۰/۵
۸	نوع فعل ها ( ماضی و مضارع ) را در جملات زیر معین کنید. ۱ - انا دخلتُ الصف الثاني و انتِ تدخل الصف الاول .	۰/۵

۹	در جای خالی فعل مناسب قرار دهید. ۱- أُنْتُ .....الباب قبل دقيقين. ۲- أُنْتُ .....الاخشاب ام اختك. ۳- انا سوف .....الى بلادي فى الاسبوع القادم. ۴- العاقل .....الى السيار و اليمين ثم يعبرالشارع.	<input type="checkbox"/> طرقت <input type="checkbox"/> تطرق <input type="checkbox"/> يجمع <input type="checkbox"/> تجمع <input type="checkbox"/> جعلت <input type="checkbox"/> أرجع <input type="checkbox"/> ننظر <input type="checkbox"/> ينظر
۱۰	متن زیر را بخوانید و به سوالات پاسخ دهید. قال الطالب: انا احب بيع الكتب لان الكتب كنوز و قال رسول الله(ص) عنها«الكتب بساتين العلماء»و الطلاب ذكروا اصحاب المهن المختلفة: و ايضا ذكروا بان هدفنا من انتخاب الشغل خدمة الناس لهذا كل مهنة مهمه على عقيدتهم و علينا باحترام كل المهن. - ماذا قال النبي(ص) حول الكتب؟ - ما هو الهدف من انتخاب الشغل؟ - اى شغل مهم برايك؟ - در متن بالا يك فعل و يك اسم جمع مكسر پيدا كنيد.	
۱۱	در جای خالی گزینه مناسب را قرار دهید. (الطبية - الفلاحة - الشرطى) الف ( ..... يحفظ الامن فى البلاد. ب ( ..... تفحص المرضى بدقة.	/۵
۱۲	به سوالات پاسخ مناسب و دلخواه دهید. من اين انت؟ ماذا فى يدك؟	/۵
۱۳	در جای خالی کلمه پرسشی مناسب قرار دهید. (ما - من - لماذا - اين - كم) الف).....تذهب الى المكتبة ؟ للمطالعة. ب).....صفاً فى مدرستك ؟ سبعة صفوف.	/۵
۱۴	کلمه مناسب را از داخل پرانتز انتخاب و در جمله مربوطه قرار دهید.(الجندي - اللسان - الذهب - الجهل) ۱ - بلاء الانسان فى ..... ۲ - موت الاحياء .....	۰/۵

با عدد	با عدد	نمره ورقه:
با حروف	با حروف	نام دبیر و امضاء:
تاریخ:	نام دبیر و امضاء	تاریخ:

«أرجوكم من الله التوفيق»

نام و نام خانوادگی:

مقطع و رشته: هشتم

نام پدر:

شماره داوطلب:

تعداد صفحه سؤال: ۴ صفحه

جمهوری اسلام ایران

اداره ی کل آموزش و پرورش شهر تهران

اداره ی آموزش و پرورش شهر تهران منطقه ۱۱ تهران

دبیرستان غیردولتی دخترانه سرای دانش واحد انتقال

آزمون پایان ترم نوبت اول سال تحصیلی ۹۹-۱۳۹۸

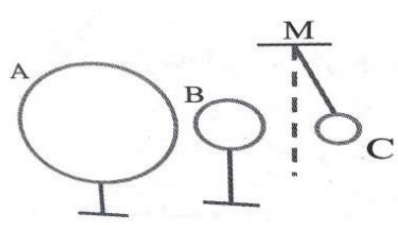
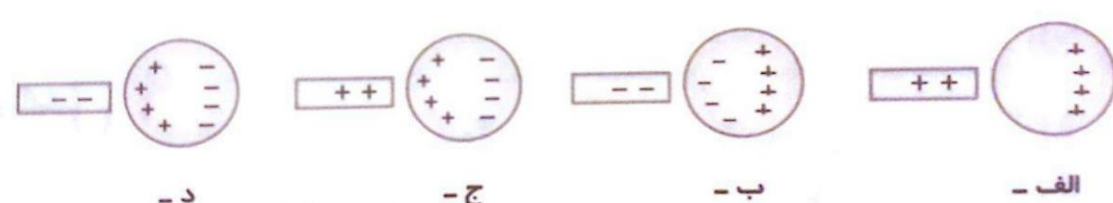
نام درس: فیزیک

نام دبیر: افضلی

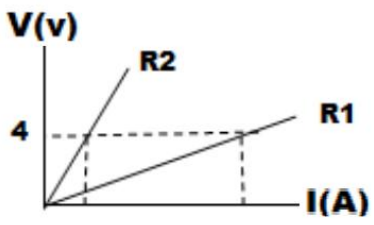
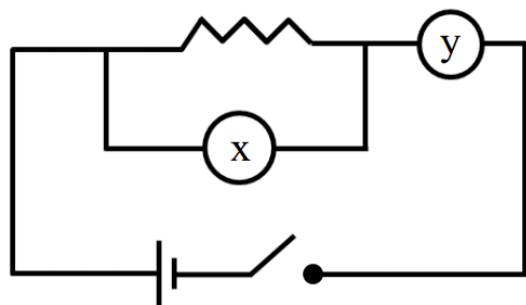
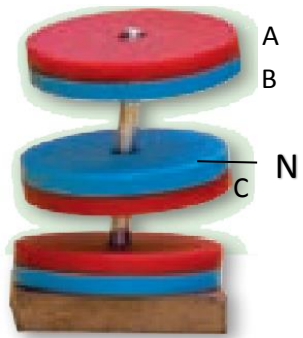

تاریخ امتحان: ۱۳۹۸/۱۰/۱۸


ساعت امتحان: ۸ صبح

مدت امتحان: ۶۰ دقیقه

ردیف	سؤال	نمره به عدد:	نمره به حروف:	نام دبیر:	تاریخ و امضاء:
		نمره به عدد:	نمره به حروف:		
					محل مهر و امضاء مدیر
۱	<p>درستی یا نادرستی هر یک از عبارات زیر را با نوشتن کلمه صحیح یا غلط در جلوی هر عبارت مشخص نمایید.</p> <p>(آ) روش مالش برای باردار کردن اجسام رسانا است.</p> <p>(ب) با افزایش جریان الکتریکی در یک مدار، مقاومت الکتریکی در مدار کاهش می یابد.</p> <p>(ت) در موتور الکتریکی انرژی الکتریکی به انرژی حرکتی تبدیل می شود.</p> <p>(ث) جریان الکتریکی در مدار را با ولت سنج اندازه گیری می کنند.</p>				
۲	<p>گزینه صحیح را انتخاب کنید.</p> <p>(آ) کدام دسته از مواد زیر همگی دارای الکترون آزاد هستند؟</p> <p>۱ مغز مداد، آب خالص          ۲ مس، چوب خشک          ۳ شیشه، پلاتین</p> <p>(ب) دو کره رسانای باردار A و B روی پایه های عایق قرار گرفته اند، و گلوله سبک C با نخ در نزدیکی کره B آویخته شده است. اگر نیروی الکتریکی بین دو کره A و B از نوع دافعه باشد. اگر گلوله C را در نزدیک کره A آویزان کنیم، چگونه قرار می گیرد؟</p> <p>(۱) جذب A می شود.          (۲) از کره A دفع می شود.          (۳) در حال تعادل قرار می گیرد.          (۴) اظهار نظر قطعی ممکن نیست.</p> <p>(پ) یک میله باردار را به یک کره فلزی خنثی نزدیک کرده ایم کدام تصویر درست است؟</p>   <p>الف -      ب -      ج -      د -</p>				

۳	<p>ت) اگر جهت های جغرافیایی کره زمین مطابق شکل زیر باشد، و یک آهن ربای میله وسط نخ به گونه ای آویزان شده باشد که به راحتی بچرخد. آهن ربا در چه جهتی قرار می گیرد.</p> 
۴	<p>جاهای خالی را با کلمات مناسب پر نمایید.</p> <p>آ) در یک باتری، انرژی، به انرژی ..... تبدیل می شود.</p> <p>ب) همواره نیرویی که دو جسم با بار هم نام به هم وارد می کنند، از نوع ..... است.</p> <p>پ) در ساخت موتور الکتریکی از آهنربای ..... استفاده می شود.</p> <p>ت) در ساخت آهن ربا با روش القا می توان ..... آهنربای ..... ساخت. (دایمی - موقتی)</p>
۲	<p>به سوالات زیر پاسخ دهید</p> <p>آ) چه عاملی سبب شارش بارهای الکتریکی در مدار می شود؟</p> <p>ب) برای محافظت ساختمان های بلند از خطر آذرخش، از چه وسیله ای استفاده می کنند؟</p> <p>ت) با دوبرابر شدن اختلاف پتانسیل در مدار الکتریکی جریان الکتریکی چند برابر می شود؟</p> <p>پ) برای افزایش قدرت مغناطیسی در یک آهنربای الکتریکی چه کارهایی می توان انجام داد؟ (دو مورد)</p>
۱	<p>تعریف کنید.</p> <p>آ) قطب های مغناطیسی:</p> <p>ب) رسانای الکتریکی:</p>
۱	<p>در یک مدار الکتریکی، اگر آمپرسنج عدد ۱۲ آمپر و ولت سنج عدد ۳۶ ولت را نشان دهد. مقاومت الکتریکی مدار چند اهم است؟ (نوشتن واحد و فرمول الزامی است).</p>

<p>۰,۵</p>	<p>نمودار اختلا پتانیه بر سب بریا بر د مقاوم د شل زیرم شد امتت مقاوم مقایسه نمایید.</p> 	<p>۷</p>
<p>۱</p>	<p>تفاوت و شباهت مهم بارهای الکتریکی و قطب های مغناطیسی را توضیح دهید.</p>	<p>۸</p>
<p>۱,۵</p>	<p>شکل مقابل نمایش یک مدار ساده الکتریکی است: (آ) نام هر یک از اجزای مدار را روی شکل بنویسید. (ب) با بستن کلید جهت حرکت الکترون ها و جهت جریان الکتریکی را در مدار مشخص نمایید.</p> 	<p>۹</p>
<p>۱</p>	<p>(آ) اگر بخواهیم یک فنر مغناطیسی داشته باشیم، نوع قطب های A و B و C را مشخص نمایید. (ب) چه نوع نیروی مغناطیسی بین قطب های A و C وجود دارد؟</p> 	<p>۱۰</p>
<p>۱</p>	<p>شکل زیر کدام یک از روش های ساخت آهن ربا را نشان می دهد؟</p>  <p>اگر پس از تبدیل دو میله فولاد به آهن ربا آنها را نزدیک کنیم نیروی بیرون دهنده خواهد داشت؟ علت را توضیح دهید.</p>	<p>۱۱</p>

۱	<p>اگر نیروی مغناطیسی بین دو قطب آهنربا در شکل a از نوع دافعه باشد، در صورتی که دو آهنربا را مطابق شکل b کنار هم قرار دهیم نیروی الکتریکی بین دو آهنربا از چه نوعی خواهد بود؟ علت را توضیح دهید.</p> 	۱۱
۱	<p>با رسم شکل توضیح دهید با نزدیک کردن یک میله با بار منفی به یک الکتروسکوپ با بار منفی ورقه های الکتروسکوپ به هم نزدیک می شوند یا از هم دور می شوند؟</p>	۱۲



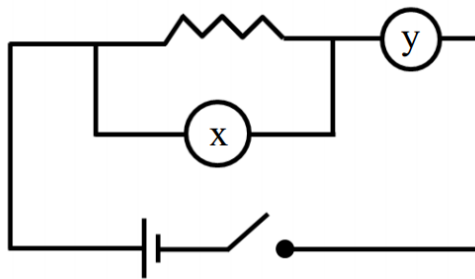


اداره ی کل آموزش و پرورش شهر تهران  
 اداره ی آموزش و پرورش شهر تهران منطقه ۱۱ تهران  
 دبیرستان غیر دولتی دخترانه سرای دانش واحد(انقللا  
**کلید** سؤالاً ۱۱۱۱ تر نوبت او سا تصیلا ۹-۸ ۸

نام درس: فیزیک هشتم  
 نام دبیر: افضلی  
 تاریخ امتحان: ۹۸/۱۰/۱۸  
 ساعت امتحان: ۸ صبح  
 مدت امتحان: ۸۰ دقیقه

ردیف	راهنمای تصحیح	محل مهر یا امضاء مدیر
۱	<p>(آ) غلط            (ب) غلط            (پ) صحیح            (ت) غلط</p>	
۲	<p>(آ) گزینه ۴            (ب) گزینه ۲            (پ) گزینه ۴            (ت) گزینه ۲</p>	
۳	<p>(آ) شیمیایی / الکتریکی            (ب) دافعه            (پ) الکتریکی / آهنربای معمولی            (ت) موقتی</p>	
۴	<p>(آ) اختلا پتانید التتری            (ب) برق گیر            (پ) دو برابر            (ت) افزایش تعداد دور سیم پیچ، افزایش ولتاژ باتری</p>	
۵	<p>(آ) قسمت هایی از آهن ربا که دارای خواص مغناطیسی قوی تری هستند قطب های مغناطیسی می نامند.            (ب) موادی که دارای الکترون آزاد بوده و می توانند جریان الکتریکی را از خود عبور دهند.</p>	
۶	<p>اهم <math>R = \frac{36}{12} R</math> <math>R = \frac{V}{I}</math></p>	
۷	<p>شیب این نمودار برابر مقاومت است هرچه شیب بیشتر باشد مقاومت هم بیشتر است بنابراین مقاومت ۲ بیشتر است.</p>	
۸	<p>در هردو هم نام ها یکدیگر را دفع و ناهم نام ها یکدیگر را جذب میکنند.            بارهای الکتریکی را می توان به تنهایی یافت اما قطب های مغناطیسی S و N همواره باهم هستند و آهن ربا ی تک قطبی وجود ندارد.</p>	
۹		





آ) قطب B شمال و قطب های A و C قطب های جنوب  
ب) دافعه

۱۰

روش مالش / دافعه زیرا هردو قطب همنام هستند(هردو قطب S هستند).

۱۱

قطب X قطب N و قطب Y قطب S خواهد بود.  
در شکل B نیرو جاذبه است.

۱۲

با نزدیک شدن جسم هم نام با الکتروسکوپ ورقه ها از هم دور می شوند.

۱۳

جمع  
بارم  
۱۵:  
نمره

نام و نام خانوادگی مصحح :

امضاء::

نام، نام خانوادگی:

مقطع و رشته: هشتم

.....نام، پدیده:

.....شماره، دلخواه:

تعداد صفحه سؤال: ۲

صفحه

جمهوری اسلام ایران

اداره ی کل آموزش و پرورش شهر تهران

اداره ی آموزش و پرورش شهر تهران منطقه ۲ تهران  
دبیرستان غیردولتی پسرانه سرای دانش واحد سعادت آباد

آزمون پایان ترم نوبت اول سال تحصیلی ۹۹-۹۹۸

نام درس: شیمی/ فیزیک

نام دبیر: محمدرضا قاری

ساعت امتحان: ۰۳ : ۸ صبح / عصر

مدت امتحان: ۵۷ دقیقه

محل مهر و امضاء مدیر	نمره به عدد:	نمره به حروف:												
	نمره تجدید نظر به عدد:	نمره به حروف:												
نام دبیر:	تاریخ و امضاء:	نام دبیر:												
سؤالا	نمره به عدد:	نمره به حروف:												
۱	الف) بهترین وسیله برای جداسازی دانه‌ی گندم از ساقه. می باشد.	ب) در مخلوط. مرز بین مواد قابل تشخیص نیست.												
۲	پ) افزایش دما انحلال پذیری... ملززه... آ... میدهد دور انلا لال پیری نک تغییرت قال توج ( دارد/ ندارد.) نقش کاتالیزور را در سوخت و ساز بدن ایفا میکند.													
۲	الف در بین هوا/نمک/اطلا/چا شیرین/الک + ررک آ لیمه ب پالا دو چن مللو وجو دارد ۶(۱) ۵(۲) ۴(۳) ۳(۴) ب) افزایش دما میزان انحلال پذیری کدام ماده را در آ کاه م دهد ۱) نمک ۲) بلورهای نبات ۳) کربن دی اکسید ۴) جوش شیرین پ) در سوختن سریع قند آغشته به خاک باغچه خاک چه نقشی را ایفا می کند؟ ۱) آنالیزگر ۲) کاتالیزگر ۳) هدایت گر ۴) نقشی ندارد ت) ساده ترین اتم شناخته شده که دارای ۳ ایزوتوپ است؟ ۱) اورانیوم ۲) منیزیم ۳) کربن ۴) هیدروژن													
۲	الف) برای جداسازی یاخته های خونی از دستگاه سانتریفیوژ و برای جداسازی اوره و نمک از خون از دستگاه دیالیز استفاده می شود(ص/غ) ب) مواد با پی اچ کمتر از ۷ تلخ مزه‌اند و با پی اچ بیش از ۷ ترش مزه‌اند (ص/غ) پ) اگر اتمی برای تکمیل مدار آخر ابر الکترونی خود ۲ الکترون دریافت کند بار آن ۲+ می شود. (ص/غ) ت) پیوند یونی با انتقال الکترون و پیوند کوالانسی با اشتراک الکترون همراه است (ص/غ)													
۲	گزینه مناسب برای جداسازی هر یک از موارد زیر کدام است؟ (خطی از ردیف اول به دوم بکشید)													
	<table border="1"> <tr> <td>چربی از شیر</td> <td>یرآده ی آهن و نمک</td> <td>الکل و آب</td> <td>دانه گندم از ساقه</td> <td>آب و روغن</td> <td>آب نمک</td> </tr> <tr> <td>کمپاین</td> <td>قیف جداکننده</td> <td>کاغذ صافی</td> <td>جوشاندن و میعان</td> <td>دستگاه تقطیر</td> <td>سانتریفیوژ</td> </tr> </table>	چربی از شیر	یرآده ی آهن و نمک	الکل و آب	دانه گندم از ساقه	آب و روغن	آب نمک	کمپاین	قیف جداکننده	کاغذ صافی	جوشاندن و میعان	دستگاه تقطیر	سانتریفیوژ	
چربی از شیر	یرآده ی آهن و نمک	الکل و آب	دانه گندم از ساقه	آب و روغن	آب نمک									
کمپاین	قیف جداکننده	کاغذ صافی	جوشاندن و میعان	دستگاه تقطیر	سانتریفیوژ									

۲	<p>اگر عدد جرمی سدیم ۲۳ باشد در شکل زیر تعداد الکترون، پروتون، نوترون و عدد اتمی را مشخص کرده و اتم برای تکمیل ظرفیت خود تمایل به آنیون شدن دارد یا کاتیون؟ چگونه؟</p> 	۵
۲	<p>به سوالهای زیر در مورد ایزوتوپ پاسخ دهید:</p> <p>الف) ایزوتوپ را تعریف کنید.</p> <p>ب) ایزوتوپ های هیدروژن و کربن را نوشته و ب.م.م و ک.م.م اعداد جرمی هر کدام را هیدروژن و کربن را بدست آورید.</p>	۶
۲	<p>مدل اتمی بور و نحوه تشکیل نمک خوراکی را با رسم شکل توضیح دهید. (سدیم ۱۱ و کلر ۱۷)</p>	۷
۱/۵	<p>سوسپانسیون یا تعلیق را تعریف کرده و مثال بزنید</p>	۸
۱/۵	<p>هیدروکربن ها را تعریف کرده و برای شناسایی گاز کربن دی اکسید حاصل از سوختن شمع آن را به چه محلولی منتقل کرده و رنگ محلول چه تغییری می کند؟</p>	۹
۱/۵	<p>اگر ۳۵٪ هوای اتاقی به ابعاد ۴*۱۵*۱۵ به دلایلی ک شد باشد باید چه ججه ا اکسیژن ب ای انا تزریه کر ( ۲۱٪ هوا اکسیژن است )</p>	۱۰
۱/۵	<p>با باز کردن درب بطری نوشابه مقداری گاز آن خارج می شود علت این پیامد چیست؟</p>	۱۱



اداره ی کل آموزش و پرورش شهر تهران  
اداره ی آموزش و پرورش شهر تهران منطقه ۲ تهران  
دبیرستان غیر دولتی پسرانه سرای دانش واحد سعادت آباد

### کلید

سؤال ۱ تا ۹ - ۹۸

نام درس: شیمی/فیزیک هشتم  
نام دبیر: ممدرضا قاری  
ساعت امتحان: ۸:۳۸ صبح / عصر  
مدت امتحان: ۵۷ دقیقه

ردیف	راهنمای تصحیح	محل مهر یا امضاء مدیر
۱	الف) دستگاه کمباین ب) ناهمگن پ) کاهش/ندارد ت) آنزیم	
۲	۶ مورد) نمک و طلا کربن دی اکسید با افزایش دما انحلا پییر ا ک م شود کاتالیزگر هیدروژن	
۳	ص غ غ ص	
۴	چربی از شیر/پلاسمه او (انتربییو) برآد آه انه (کاغ صای) الک آ (تقطی) داز نند ا ساقه (کمباین) - آب نمک (جوشاندن و میعان) - آب و روغن (قیف جداکننده)	
۵	۱ الکترون از دست داده و تبدیل به یون ۱ بار مثبت شده و کاتیون می شود عدد اتمی = پروتون = الکترون = ۱۱ و نوترون = ۱۲	
۶	هیدروژن با عدد اتمی ۱ و اعداد جرمی ۱ و ۲ و ۳ ب م م = ۱ و ک م م = ۱*۲*۳ کربن با عدد اتمی ۶ و جرمی ۱۲ و ۱۳ و ۱۴ ب م م = ۱ و ک م م = ۸*۷*۱۳	
۷	به عهده دانش آموز	
۸	معقل ماندن جامد در مایع در محلول ناهمگن	
۹	هیدروکربن ها رشته هایی طولانا هیدروژن کره/ آ آه مللو کد ر ز م شو	
۱۰	۲۱٪ اتاق اکسیژن است یعنی ۲۱٪*۴*۱۵*۱۵٪ ازین عدد ۳۵٪ از بین رفته پس همین مقدار باید تزریق شود یعنی جواب برابر است با ۲۱٪*۴*۱۵*۱۵٪*۳۵٪	
۱۱	برداشتن فشار باعث شدن آزاد شدن مقدار بیش از حد و مازاد گاز حل شده در مایع می باشد.	
جمع بارم: ۲۳ نمره	نام و نام خانوادگی مصحح:	امضاء:



سال تحصیلی: ۹۷-۹۸

نام و نام خانوادگی:

نام پدر:

رشته تحصیلی: متوسطه اول

پایه تحصیلی: هشتم

اداره کل آموزش و پرورش استان یزد

مدیریت آموزش و پرورش ناحیه / منطقه / شهرستان میبد

اداره استعدادهای درخشان و دانش پژوهان

دبیرستان دوره اول شهید ذوالفقاری

نوبت: اول

سوالات درس ادبیات فارسی

تعداد صفحات: دو

تعداد سوالات:

مدت پاسخگویی: ۵۰ دقیقه

امضای دبیر:

نمره به حروف:

نمره به عدد:

نام و نام خانوادگی دبیر:

بارم	سؤال	ردیف
۶	<p>بیان معنی شعر و نثر            ابیات و عبارات زیر را به نثر ساده و روان بنویسید. (معنی کنید)            ۱- به نام خدایی که جان آفرید / سخن گفتن اندر زبان آفرید (۱ نمره)            ۲- گرت پایداری است در کارها / شود سهل پیش تو دشوارها (۱ نمره)            ۳- تو در این روزگار چشم و چراغ ایرانی. (۵/نمره)            ۴- مورچگان را چو بود اتفاق / شیر زیان را بدراند پوست (۱ نمره)            ۵- امیر را خاطر به آن شد تا در آن خانه چیست. (۵/نمره)            ۶- حد من نیست ثنایت گفتن (۵/نمره)            ۷- ده روزه مهر گردون، افسانه است و افسون. (۵/نمره)            ۸- به قدر فهم مستمعان می گویم (۵/نمره)            ۹- راست است که مرا تیز بر است (۵/نمره)</p>	الف
۲	<p>شناخت و معنی واژه ها            معنی واژه های مشخص شده را با توجه به جمله بنویسید. (هر مورد ۲۵/نمره)            ۱- کشور ما همواره سرزمین سبند فر و فروغ و فرزانی و فرهیختگی بوده است. (فروغ: )            ۲- حکیمی گفته: «افسوس که جوان نمی داند و پیر نمی تواند». (حکیم: )            ۳- شکم آکنده ز گند و مُردار. (آکنده: )            ۴- شکر گویم که مرا خوار نساخت. (خوار: )            ۵- تویی شیخ بغداد که مردم را ارشاد می کنی؟ (ارشاد: )            ۶- پرستار امرش همه چیز و کس (پرستار: )            ۷- خفّاش شب را چونان چراغی بر می گزیند تا در پرتو تاریکی آن، روزی خود را جست و جو کند (پرتو: )            ۸- کودالی را دید در آن خانه چنانکه جولاهاگان را باشد. (جولاهاگان: )</p>	ب
۴	<p>درک متن            ۱- مفهوم "عمر باختن" را با توجه به مصراع «عمر در خارکشی باخته ای» بنویسید؟ (۵/نمره)            ۲- در بیت "کیست آن صورتگر ماهر که بی تقلید غیر / این همه صورت برد بر صفحه هستی به کار؟" منظور شاعر از صورتگر ماهر کیست؟ (۵/نمره)            ۳- مفهوم کنایه مصراع "که نیم بر در تو بالین نه" بنویسید؟ (۵/نمره)            ۴- عبارت "به هم برآمده" در جمله یکی از صاحب‌دلان زور آزمایی را دید به هم برآمده. یعنی چه؟ (۵/نمره)</p>	پ

	<p>۵- در درس جوانه و سنگ، مرداب نماد چه انسان هایی است؟ (۵/نمره)</p> <p>۶- اگر بیت "آمد آن شکرگزارش به گوش / گفت گای پیر خرف گشته، خموش" به صورت نثر امروزی بنویسیم، ضمیر پیوسته «ش» بعد از کدام واژه قرار می گیرد؟ (۵/نمره)</p> <p>۷- در عبارت " خداوندش را بگوی که گرگ ببرد." واژه خداوند به چه معناست؟ (۵/نمره)</p> <p>۸- مفهوم کنایی عبارت "قلبش از درد فشرده شد" چیست؟ (۵/نمره)</p>
--	--

۳	<p>دانش های زبانی و ادبی</p> <p>۱- در گروه های اسمی مقابل هسته را مشخص کنید. (۵/نمره) الف) این گل خوشبوی زیبا: ب) خانه جدید محمد:</p> <p>۲- نویسنده هر کدام از کتاب ها را بنویسید. (۵/نمره) بهارستان: پریشان:</p> <p>۳- در مصراع "یکی را به سر بر نهد تاج بخت" مشبه و مشبه به را مشخص کنید. (۵/نمره) مشبه: مشبه به:</p> <p>۴- با توجه به عبارت "فرمانروایی فرزندان خود را پند می داد." جدول زیر را کامل کنید؟ (۵/نمره)</p> <table border="1" data-bbox="1023 842 1445 963"> <tr> <td>نهاد</td> <td>متمم</td> </tr> <tr> <td> </td> <td> </td> </tr> </table> <p>۵- بیت "زود می گفتند، این کار خداست / پرس و جو از کار او کاری خطاست" قافیه را مشخص کنید. (۵/نمره) قافیه:</p>	نهاد	متمم		
نهاد	متمم				

۳	<p>خودارزیابی و تمرین های کتاب</p> <p>۱- دو درسی که بهلول به جنید آموخت، چه بود؟ (۱نمره)</p> <p>۲- بن ماضی و بن مضارع مصدر آسودن را بنویسید. (۵/نمره) بن ماضی: بن مضارع:</p> <p>۴- با توجه به عبارت "اگر رنگ های برهای طاووس را به رویدنی های زمین تشبیه کنی، خواهی گفت: «دسته کلی است که از شکوفه های رنگارنگ گل های بهاری فراهم آمده است» موارد خواسته شده را بنویسید. (۱/۵ نمره)</p> <p>الف) نهاد جمله اول: ب) یک مشبه به: پ) یک ترکیب وصفی:</p> <p>ت) یک ترکیب اضافی: ث) دو هم خانواده کلمه تشبیه:</p>
---	--

۲	<p>حفظ شعر</p> <p>گفتا: تو خود حجابی، ورنه رخ عیان است</p> <p>.....گفتم: که از، که، پرسم، جانان نشان، کویت؟.....</p> <p>گفتا: که در ره ما غم نیز شادمان است</p> <p>.....گفتم: که سوخت، جانم، از آتش نهانم.....</p>
---	--

پرویز و  
سریند  
باشید

نام و نام خانوادگی :	باسمه تعالی	شماره سندلی :	تاریخ امتحان : ۷۹/۰۵/۵۰
نام درس : ادبیات	اداره کل آموزش و پرورش استان البرز	جای مهر آموزشگاه	ساعت امتحان : ۹ صبح
نوبت و سال تحصیلی : اول ۹۹-۹۹	مدیریت آموزش و پرورش ناحیه ۲ کرج		وقت امتحان : ۰۶ دقیقه
پایه : هشتم	دبیرستان غیردولتی پژوهان (متوسطه اول)		تعداد صفحه: ۲ صفحه: ۱
نمره به عدد :	نمره به حروف :	نام دبیر : آقای مایلی امضاء	نمره تجدید نظربه عدد و حروف : امضاء

۱- ابیات زیر را به فارسی روان بازگردانید. (۳)

الف عزت از خواری نشناخته‌های / عمر در خارکشی باخته‌های

ب ده روز مهر گردون افسانه است و افسون / نیکی به جای یاران فرصت شمار یارا

ج عقل‌ها حیران شود کز خاک تاریک نژند / چون بر آید این همه گل‌های نغز کامکار

د پرستار امرش همه چیز و کس / بن‌یادم و مرغ و مور و مگس

ه کیست آن صورتگر ماهر که بی تقلید غیر / این همه صورت برد بر صفحه هستی به کار

و میبش به عمر خود سحرخیز / از خواب سحرگهان بپرهیز

۲- کلمه‌ها و ترکیب‌های زیر را معنی کنید. (۳)

الف به قدر فهم مستمعان می‌گوییم.

ب کنم از جیب نظر تا دامن.

ج جولاهه‌ها ۱ به وزار رسید بود

د گفت آن که سوخت او را کی ناله یا فغان است؟

ه تو از آن آزاد اندیشانی هستی که پایدار و نستوه ، میکوشند.

و چون برآید این همه گل‌های نغز کامکار

۳- غلط‌های املا را بیابید حید آ نه ر روبرو یا بنویسید ( )

الف به مورچه و کوچکی جسّه آن بنگر

ب چون نپرسی کاین تماسیل از کجا آمد پدید؟

ج خاک تشنه تکانی خورد و زرات ریز آن جا به جا شدند.

د این خواستگاه بخردان و دانایان

ه کن نیک تعمل‌اند این باب

و جهان متّفع بر الهیتش

فیض کاشانی	جامع التمثیل
محمد جلیله‌رودی	بهارستان
قآنی	پریشان
جامی	شرح صحیفه سجادیه

۵- با توجه به جمله زیر به سوال پاسخ دهید: (۱)

«پره‌های طاووس، مانند دسته گل پر نقش و نگار، رنگارنگ است.»

\* ارکان تشبیه (مشبه و مشبه‌به، وجه شبه و ادات تشبیه) را در جمله بالا نا ببرید

۶- تعداد جمله های زیر را مشخص کنید و زیر فعلهای آن خط بکشید. (۲نمره)

الف شیخ در پی او روان شد و گفت: «مرا با او کار است.»

ب زنه‌ها! مگو سخن به جز راست.

ج گفتم مرا غم تو خوش تر ز شادمانی است.

د فرزندم! من میدانم و بی گمانم که تو ایران را از بن جان دوست میداری.

۷- آرایه‌های ابیات زیر را نام ببرید: (۲)

الف خیزید و خز آرید که هنگام خزان است / باد خنک از جانب خوارزم وزان است

ب آن یکی چون نیست با آخیار یار / لاجر شه هه‌ووُ جَا جا

ج سحر در در شاخسار بوستانی / چه خوش م گفتم مرغ نغمه خوانی

د ابر و باد و مه و خورشید و فلک در کارند / تا تو نانی به کف آری و به غفلت نخوری

۸- سوالا زیر را پاسخ دهید (نمر)

الف- نهاد و متمم را مشخص کنید:

حافظ از باد خزان در چمن دهر

مرنج



ردیف	شرح سئوالات	بارم
۱	معنای کلمات زیر را بنویسید. الف) نذیر: ..... ب) بحر: ..... ج) معرض: ..... د) طیر: ..... ه) لغو: ..... ح) وارثین: .....	۱/۵
۲	جواب صحیح را با علامت × مشخص کنید ۱- نَجْعَلُ : الف) قرار می دهیم <input type="checkbox"/> ب) می خواهیم <input type="checkbox"/> ۲- نَبَأٌ : الف) پیامبر <input type="checkbox"/> ب) خبر <input type="checkbox"/>	۰/۵
۳	با توجه به الگوی داده شده و تغییر جزئی که در معنای فعل پیش می آید ترکیب هار کامل کنید. <div style="border: 1px solid black; padding: 5px; margin: 10px auto; width: fit-content;"> <p>ان + اَعْبُدُ : که + عبادت می کنم ← ان اَعْبُدُ : که عبادت کنم                      لِي + يَعْلَمُونَ : تا + می دانند ← لِيَعْلَمُوا : تا بدانند</p> </div> <p>ان + اَتَلُوا : ... + تلاوت می کنم ← ان اَتَلُوا : ...                      لِقَوْمٍ يَشْكُرُونَ : برای نومی که ... ← لِعَلَّهُمْ يَشْكُرُونَ : تا آنها ...</p>	۱
۴	معنای ترکیب های زیر را بنویسید. الف) أ حَسِبَ النَّاسُ : ..... ب) و أَطِيعُونَ : ..... ج) نَتَلُوا عَلَيْكَ : ..... د) مَاءٌ طَهُورًا : .....	۲
۵	آیات قرآنی زیر را ترجمه کنید. الف) تَبَارَكَ الَّذِي نَزَّلَ الْفُرْقَانَ ..... ب) تعالی الله عما يُشْرِكُونَ ..... ج) و أحسن كما أحسن الله إليك ..... د) لو كانوا يعلمون .....	۴
۶	این ترکیبها را مانند نمونه کامل نمایید نَفْسَ + ه = نَفْسَهُ : خودش نَفْسَ + ي = ..... : ..... أَنْفُسَ + هُمْ = أَنْفُسَهُمْ : خودشان أَنْفُسَ + كُمْ = ..... : .....	۱

نام درس : قرآن		بسمه تعالی	
طراح سوال : محمدی رازی		وزارت آموزش و پرورش	
نام دبیر :		کارشناسی سنجش و ارزشیابی تحصیلی متوسطه	
نام و نام خانوادگی :		مدیریت آموزش و پرورش خراسان شمالی	
تعداد سوالات		دبیرستان غیر دولتی دخترانه علوم	
تاریخ امتحان : ۸۹/۰۱ / ۰۱		مدت پاسخگویی : ۰۱ دقیقه	
پایه و رشته تحصیلی : هشتم		تعداد صفحات : ۰	
مهر مدرسه :			
ردیف	سوالا	نمره	
۱	معنای کلمات زیر را بنویسید؟ ۱. ماء : ۲. فاعل : ۳. مُرْسِلین : ۴. اُنْبِتْنَا	۱	
۲	ستون الف را به ستون ب وصل کنید . الف _____ ب _____ اولیاء                      O امامان أَحْسَنَ                      O دریا بَحْر                              O نیکی کرد أُمَّةً                            O سرپرستان	۱	
۳	ترکیبات قرآنی زیر را معنا کنید؟ ۱. شریکٌ فی الملک                      ۲. وَمَنْ يُرْسِلِ الرِّيحَ ۳. مِنْ لَدُنْكَ زَجْرٌ یَمْ                  ۴. لَأُولَئِكَ نَزَبَتْ	۲	
۴	کدام گزینه صحیح است؟ الف نَزَّ الرررا                      ۱. ناز رر رر آ ر                      ۲. ناز م ن ن رر آ ر ب أءلءع الله                      ۱. آیا جز خدامعبوداتی هستند                      ۲. آیا همراه خدامعبودی است	۱	
۵	آیات زیر را ترجمه کنید. الف: نَتْلُو عَلَیْكَ مِنْ نَبَا مُوسَى وَفِرْعَوْنَ بِالْحَقِّ ب: وَالذِّیْنِ هُمْ عَلَیْهِ الْأُ و مُعْرِضُونَ	۲	
۶	جای خالی را پر کنید. الف: و ما اسئلكم علیه من أجر ب: وابتغ فیماء انك الله الاالا ر	۲	و در خواست ندارم از شما .... آن هیچ ... را وللا ن د آنه داد ات ب ت دماذ ر
۷	باتوجه به الگوهای ساده قرآنی کامل کنید؟ الف: اَنْفُسَ : هم ← اَنْفُسَهُمْ : خودشان ب: ترجمه کنید : فاعبدون : .....	۱	کم ← ..... : .....                      نا ← ..... : .....
موفق باشید		جمع نمرات ۱۰	

ردیف	شرح سئوالات	بارم
۱	معنای کلمات زیر را بنویسید. الف) نذیر: ..... ب) بحر: ..... ج) معرض: ..... د) طیر: ..... ه) لغو: ..... ح) وارثین: .....	۱/۵
۲	جواب صحیح را با علامت × مشخص کنید ۱- نَجْعَلُ : الف) قرار می دهیم <input type="checkbox"/> ب) می خواهیم <input type="checkbox"/> ۲- نَبَأٌ: الف) پیامبر <input type="checkbox"/> ب) خبر <input type="checkbox"/>	۰/۵
۳	با توجه به الگوی داده شده و تغییر جزئی که در معنای فعل پیش می آید ترکیب هار کامل کنید. <div style="border: 1px solid black; padding: 5px; margin: 10px auto; width: fit-content;"> <p>ان + اَعْبُدُ : که + عبادت می کنم ← ان اَعْبُدُ : که عبادت کنم                      لِي + يَعْلَمُونَ : تا + می دانند ← لِيَعْلَمُوا : تا بدانند</p> </div> <p>ان + اَتَلُوا : ... + تلاوت می کنم ← ان اَتَلُوا : ...                      لِقَوْمٍ يَشْكُرُونَ : برای نومی که ... ← لِعَلَّهُمْ يَشْكُرُونَ : تا آنها ...</p>	۱
۴	معنای ترکیب های زیر را بنویسید. الف) أ حَسِبَ النَّاسُ : ..... ب) و أَطِيعُونَ : ..... ج) نَتَلُوا عَلَيْكَ : ..... د) مَاءٌ طَهُورًا : .....	۲
۵	آیات قرآنی زیر را ترجمه کنید. الف) تَبَارَكَ الَّذِي نَزَّلَ الْفُرْقَانَ ..... ب) تعالی الله عما يُشْرِكُونَ ..... ج) و أحسن كما أحسن الله إليك ..... د) لو كانوا يعلمون .....	۴
۶	این ترکیبها را مانند نمونه کامل نمایید نَفْسَ + ه = نَفْسَهُ : خودش نَفْسَ + ي = ..... : ..... أَنْفُسَ + هُمْ = أَنْفُسَهُمْ : خودشان أَنْفُسَ + كُمْ = ..... : .....	۱

نام، به نام، خانواده، نام خانوادگی:  
مقطع و رشته: هشتم  
..... نام، پدر:  
..... شماره، دلخواه:  
تعداد صفحه سؤال: ۳  
صفحه

جمهوری اسلام ایران  
اداره ی کل آموزش و پرورش شهر تهران  
اداره ی آموزش و پرورش شهر تهران منطقه ۴ تهران  
دبیرستان غیردولتی دخترانه سرای دانش واحد رسالت  
آزمون پایان ترم نوبت اول سال تحصیلی ۹۹-۱۳۹۸

نام درس: مطالعات اجتماعی  
نام دبیر: نگار اسلامیا  
ساعت امتحان: ۰۸:۰۰ صبح / عصر  
مدت امتحان: ۶۰ دقیقه

نام مدیر	نمره به عدد:	نمره به حروف:	نمره به عدد:	نمره به حروف:
	نام دبیر:	تاریخ و امضاء:	نام دبیر:	تاریخ و امضاء:
نام	سؤال	نمره	نام	نمره
۱	جاهای خالی زیر را با کلمات مناسب کامل کنید. الف) ریاست، قوم. ب) رسول خدا، به، مدت. ج) پس از رحلت پیامبر تعدادی از انصار و مهاجر در محلی، به، نام. د) یکی از خاندان های مشهور ایرانی که در زمان خلافت هارو الرشید مناصب وزارت را به عهده داشت...اند. ل) یکی از نویسندگان و مترجمان ایرانی، به، نام. م) موسس سلسله صفاریان، نام داشت که با خلافت عباسی رابطه صمیمانه داشت.	۳		
۲	با توجه به جملات زیری را د گزینه دال برانتا نمایند الف) پس از آنکه رئیس جمهور را مردم انتخاب کردند و حکم او توسط قوه قضائیه بر مبنای قانون اساسی صادر شد. ب) ننیم لایحه در باره امور مختلف جمع از وظایف ( دولت - حقوق ضمیمه) است ج) رئیس قوه قضائیه از سوی رهبر و به مدت ( ۴سال - ۵سال) انتخاب می شود. د) غصب عنوان و فحاشی جز دعوی و اختلال ( ققو - بیبر) مسووم شو مجازا زندان دارد ل) رستم فرخزاد فرمانده سپاه ایران در نبرد ( قادسیه - نهاوند) توسط اعراب کشته شد و تیسفون پایتخت ایران فتح شد. م) ایرانیان مسلمان به رهبری ابومسلم خراسانی علیه حکومت ( امویان - عباسیان) قیام کردند و آنها را شکست دادند.	۳		
۳	درستی یا نادرستی عبارات زیر را مشخص کنید. الف) پدر و مادر حق قانونی دارند تا زمانی که فرزندان مستقل نشده اند بر فعالیت آنها نظارت دقیق داشته باشند. ب) پیامبر پیمان برادری را به منظور ایجاد محبت بین مسلمانان و یهودیان بست. ج) در عربستان در مناطقی که از آب برخوردار بودند مانند یمن و یثرب، کشاورزی رونق داشت. د) عثمان خلیفه سوم توسط شورایی که ابوبکر تعیین کرده بود به خلافت رسید ل) حکومت علویان طبرستان مانند آل بویه پیرو مذهب سنی بودند. م) پس از ورود اسلا به ایران ررما نام ها ادار به زبا عرب نوشته شد	۳		
صفحه ی ۱ از ۳				

۲	<p>۴ واژگان و اصطلاحات زیر توضیح دهید</p> <p>الف) مالیات:</p> <p>ب) بلوغ:</p> <p>ج) باز خورد:</p> <p>د) انصار:</p>	۴
۲	<p>۵ با توجه به جملات زیر، نام مناسب را در دایره‌های خالی درج کنید. (عمر - یاسر - ابوبکر - ممالک - لشکر - مسلمانان - نعلین - سلمه - فارس - یاسر - بله - زیاد - عمر - مروان - ص)</p> <p>الف) در چند گزینش قبلی، پیلیمبر پیشنهاد کند که چند چیز را بپوشد. دفاعش هر را داد.</p> <p>ب) فتوحات از زمان اواخر خلافت آغاز شد.</p> <p>ج) او یکی از نخستین شهدای راه اسلام است.</p> <p>د) امام حسین برای بررسی اوضاع کوفه او را به عنوان نماینده خود به کوفه فرستاد.</p>	۵
۱	<p>۶ تعاون و همکاری به چه شکل‌هایی می‌توان انجام داد؟ ۴ مورد را نام ببرید.</p>	۶
۱	<p>۷ انفاق به چه معناست؟</p>	۷
۰/۵	<p>۸ شرکت‌های تعاونی با شرکت‌های غیر تعاونی در تصمیم‌گیری و رایگیری چه تفاوت‌هایی دارند؟</p>	۸
۱	<p>۹ ۴ مورد از وظایف شهروندان در مقابل دولت را نام ببرید.</p>	۹
صفحه ۲ از ۳		

۰/۵	۲ مورد از علل گرایش افراد به مواد مخدر را بیان کنید.	۱۰
۱	دانش آموزان هنگام استفاده از اینترنت باید به چه مواردی توجه کند؟ ۴ مورد را بنویسید.	۱۱
۱	۴ مورد از اقداماتی را که امام علی(ع) در زمان خلافت ۳ میلیه او انجام میدادند ر ذر ننید	۱۲
۱	۴ مورد از علل و عواملی که سبب ضعف و سقوط حکومت ساسانیان شد را بیان کنید.	۱۳
صفحه ی ۳ از ۳		



اداره ی کل آموزش و پرورش شهر تهران  
 اداره ی آموزش و پرورش شهر تهران منطقه ۴ تهران  
**دبیرستان غیر دولتی دخترانه سرای دانش واحد رسالت**  
**کلید** سؤالا ۱۱۱۱ تر نوبت او سا تمیلا ۹-۹۸

نام درس: مطالعات اجتماعی هشتم  
 نام دبیر: نگار اسلامیا  
 ساعت امتحان: ۸:۰۰ صبح / عصر  
 مدت امتحان: ۶۰ دقیقه

ردیف	راهنمای تصحیح	محل مهر یا امضاء مدیر
۱	الف) مجریه ل) روزه ایرانی ب) ۳ سال م) یعقوب لیث صفاری	د) برمکیان
۲	الف) تنفیذ ل) قادسیه ب) دولت م) امویان	د) کیفری
۳	الف) صحیح ل) غلط ب) غلط م) صحیح	د) غلط
۴	الف) مالیات پولی است که افراد بر طبق قانون به دولت می دهند تا در جهت اداره کشور هزینه شود. ب) در دوره سنی ۱۲ تا ۱۸ سال نوجوانان دچار تغییرات جسمانی و روحی می شوند که به آن دوره بلوغ می گویند. ج) اگر گیرنده به فرستنده پیامی را بفرستد و او را متوجه کند که معنی پیام را دریافت کرده است به این عمل بازخورد می گویند. د) به گروهی از مردم مدینه که با پیامبر پیمان بستند تا آن حضرت را یاری کنند انصار می گویند.	
۵	الف) سلمان فارسی ب) ابوبکر ج) یاسر د) مسلم بن عقیل	
۶	اظهار دوستی و محبت، همدلی و خوشحال کردن، هدیه دادن، قرض دادن...و.	
۷	هرگاه کسی از وقت و دانش و توانایی و مال خود به دیگری کمک کند به این کار انفاق می گویند.	
۸	در شرکت تعاونی همه افراد با هم برابر هستند یعنی هرکس با هر مقدرا سهم حق یک رای دارد و در شرکت غیرتعاونی هرکس سهمش بیشتر قدرت بیشتری در تصمیم گیری ها دارد.	
۹	به قوانین احترام بگذارد، با دولت همکاری صمیمانه داشته باشد، هنگام جنگ از کشور دفاع کند، مالیات بپردازد.	
۱۰	بعضی برای فرار از مشکلا ب ای مم ششید م شوند بری جرا مهار ن گتت ر ندارن رریم وورن بری ا روی کنجکاو ی و خودنمایی و اینکه نشان دهند دیگر بزرگ شده اند روی به مواد مخدر می آورند.	
۱۱	همه اطلاعات ه د اینترن و جو دار صیه نیتتند عس ییل امانوادگ وو ر هرگ وار اینترن نننیم.رم عبو بانی وو را فاش نکنیم و اعتیاد به بازی رایانه و اینترنت پیدا نکنیم و فقط ساعت مشخصی به این کار اختصاص دهیم.	
۱۲	تربیت شاگردان، تفسیر قرآن، احداث نخلستان، عمران و آبادانی شهرها و...	
۱۳	شیوع وبا و طاعون، طغیان دجله و فرات، شورش فرماندهان، مالیات های سنگین شورش فرماندهان	
جمع بارم : ۲۰ نمره		نام و نام خانوادگی مصحح : نگار اسلامیا
		املاء



باسوه تعالی  
 جوهوری اسلام ایرا  
 هدیریت آهوزش و پرورش ناحیه ۱ کرج  
 اداره کل آهوزش و پرورش استان البرز ناحیه ۱ کرج  
 اهتحنات نوبت اول هجنوع آهوزشی سلاسا تصیلا ۸۹-۹۸



نام و نام خانوادگی:	آزهون در س: ۴: ۵/۱۱/۸۹	نور ه به عدد:
نام دبیر: سرکار خانم سوادکوهی	تاریخ آزهون: ۵/۱۱/۸۹	نوره به حروف:
کلاس هفته	هد آزهو ۹ دیبه	تعداد صفحات: صفحه
شوار نندلی		صفحه

۰/۵	الف) کسی نه درست را اذتخب کنید و علا ه ژی سیید		
۰/۵	۱- وظیفی که هر یک از هب ثرعهده دارین و انتظبر هی رود آن هب را اندیم دهین چیست؟		
۰/۵	الف) نقش	ب) حق	ج) هستولیت
۰/۵	د) فعلیت		
۰/۵	۲- شش نفر فقی ه شورای نگهبین از عرف چه کسی اذتخب هی شوند؟		
۰/۵	الف) رئیس جوهور	ب) نویبندگین هدلس	ج) رهجر
۰/۵	د) قوه قضیبی ه		
۰/۵	۳- هدف از تولید چیست؟		
۰/۵	ب) ثبلا ثرد رفب ( رف ییب ز ا و ااست ا ) ( ثر ر ثردار ا هابث ) ادا ه ییب زدگگ		
۰/۵	۴- ایران در کدام جهت قبره آسیب قرار دارد؟		
۰/۵	الف) جنوب شرقی	ب) جنوب غرثی	ج) شوب ل شرقی
۰/۵	د) شوبل غرثی		
۰/۵	۵- در کدام هنطقه زیر آب و هوای شرحی دیده نوی شود؟		
۰/۵	الف) کنبره خلیج فبرس	ب) جلگه خوزستین	ج) ثیبشین لوت
۰/۵	د) ثندر چبتهبر		
۰/۵	۶- کدام یک از فعلیت هبی زیر ثیبی تولید کننده و هصرف کننده راطنه ثرقرار هی کنند؟		
۰/۵	الف) تولید	ب) توزیع	ج) هصرف
۰/۵	د) سرهبی ه		
۰/۵	ب) در جبی هبی خبلی کلوه ی هنبست ثنویسید.		
۰/۵	۷- هر گبه هقررات شه وسیله یک نهبد دارای صلا یید هث هدا تولید ود اب ..... ث ود ه گیرد ۸- پس از پیروزی انقلا اسلام ه ..... ی ثر ی شتن ی ن بن اسبی هوری ی اسلام ایاش تطیل ۹- شهرنطینبن ثبید هر سبل هجلگی شه ..... نوان ..... شه ثپرداری ثپردند.		
۰/۵	۱۰- هستول اجرای قوازیی و هقررات هحیط زیست دریک هنطقه ..... هی ثبشد.		
۰/۵	۱۱- از ههن تربی عواهلی که هوجت گونگونوی یب تنوع زیستگبه هب در کطور هب شده است ..... است. ۱۲- هصرف گرایب شه. هی اندیهد.		
۰/۷۵	ج- در عجبرت هبی زیر درستوی و نبدرستی را ثب علا ه هطص نبید		
۰/۷۵	۱۳- ههن تربی حق هوه انسبن هب حق ثرخورداری از وسبیل تفریحی است		
۰/۷۵	۱۴- کوهیبی ه یعنی زهیبی هیبی که از یک سو شه کوه هب و از سوی دیگر شه دریهب		





باسمه تعالی  
 جمهوری اسلامی ایران  
 مدیریت آموزش و پرورش ناحیه ۱ کرج  
 اداره کل آموزش و پرورش استان البرز ناحیه ۱ کرج  
 امتحانات نوبت اول مجتمع آموزشی سلاله سال تحصیلی ۹۸-۹۷



نام و نام خانوادگی:	آزمون درس : مطالعات اجتماعی	نمره به عدد:
نام دبیر: سرکار خانم سوادکوهی	تاریخ آزمون : ۹۷/۱۰/۵	نمره به حروف:
کلاس: هفتم	مدت آزمون : ۷۰ دقیقه	تعداد صفحات: صفحه
شماره صدلی:		

۲- هفته آینده جطی تولد فریج است شوب دو راه حل بیطنهید کنید تب کبلا هیبه آ ا ترا ای هراس تی تی ه نند ت هیبه زیسآسیت نرسبند.

- ۱
- ۲

۲۱- ستبره هی خواهد شکل واقعی ایران و کطورهی هوسبی ه اش را هطبهده کند او از کدام وسیله جغرافیایی هی تواند استفاده کند.

۲۲- علی در شهر هطهد زندگی هی کند حصول ههن کطورهی آن هب زعفران است . دو کبر که او ثرای فروش ثیطره حصول خود هی تواند اندیم دهد را ثنویسید.

- ۱
- ۲

۲۳- زیستگبه را تعریف کنید.

۴۲- یک جهبنگرد ثرای سفر ته کطوره هورد علاوه ا اعلا تبی در ث بی هیعت ت رارافیوع ع و ه ا - - تاد دعوت ت ز زده هر آن ثور ته دست آورده است هطخص کنید کدام یک از اعلا ب ث دس آهه ( ) ییوگگ عجیی د ا ا ی ییوگگ اسس بی اس

۱-ویژگی

عجیی

۲-ویژگی

انسبئی -

۲۵- دو هنطقه ی حفبظت شده در ایران را نیم ثجرید.

۲- جوعیت هلا امو د ررایابد ه وع فابلی ایی اجده ه دد؟

۲۷- یک هورد از وظبیف شهرداری در هر یک از زهی نه هی زیر را ثنویسید

الف) اوقبت فراغت  
 هردم



باسمه تعالی

جمهوری اسلامی ایران

مدیریت آموزش و پرورش ناحیه اکرج

اداره کل آموزش و پرورش استان البرز ناحیه اکرج

امتحانات نوبت اول مجتمع آموزشی سلاله سال تحصیلی ۹۸-۹۷



نام و نام خانوادگی:	آزمون درس : مطالعات اجتماعی	نمره به عدد:
نام دبیر: سرکار خانم سواد کوهی	تاریخ آزمون : ۹۷/۱۰/۵	نمره به حروف:
کلاس: هفتم	مدت آزمون : ۷۰ دقیقه	تعداد صفحات: صفحه
شماره صندلی:		صفحه

در سبیل ۱۳۹۰ انتخابت هدلس شورای اسلا ه اجدد موبید گب هردت هدار اییا ردد ظییف آ ل د زهی ه ا زیر چیست؟

الف) ثرای هدت چند سبل انتخاب هی شوند

ب) ثرای شروع کبر خود اتندا چه هی کنند؟

.....

۳۰- دانه هی شوبلی و جنوشی رسته کوه الجزر را از نظر ثبرندگی ثب هن هقیبسه کنید.

.....

۳۱- چرا از زیستگبه هب حفیظت هی کنین؟ (۲ هورد ثنویسید

.....

۳۲- عواهل تولید را نیم تجرید و ثرای هر کدام یک هتبل ثنویسید.

دختران گلن هوفق ثبشید