

📖 کانال های تلگرامی رسمی متوسطه دوم 📖

⊘ بدون هیچگونه تبلیغ آزار دهنده ⊘

برای عضویت در همین صفحه
روی لینک کانال کلیک کنید

کانال تلگرامی پایه ده-10م : 

ID @DAHOM_CH


کانال تلگرامی پایه یازده-11م : 

ID @YAZDAHO

کانال تلگرامی پایه دوازده-12م : 

ID @davazdahom_1403

کانال های فوق فاقد آگهی های
تبلیغاتی هستند صرفا برای پیشرفت شما
فعالیت میکنند 



۴۴ سوال کنکور

سراسری در اقتصاد

پایه دهم

رشته علوم انسانی

دبیرستان صلاح الدین

ایوبی شهرستان ثلاث

باباجانی





به نام

خالق

زیبایی ها



تعداد سوالات: ۴۴

شاد :

نوع سوالات: کنکوری

پایه تحصیلی : دهم

تاریخ برگزاری ۱۴۰۲/۱۲/۰۱

رشته : ادبیات و علوم انسانی

عنوان آزمون : اقتصاد دهم

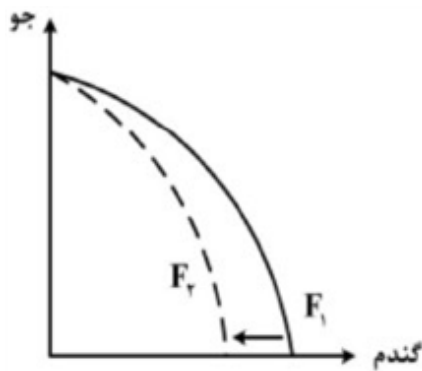


بارم	لطفا پاسخ سوالات را روی همین برگ بنویسید		ردیف																	
	اقتصاد دهم																			
	سوال ۴۴																			
	<p>با توجه به اطلاعات وضعیت توزیع درآمد برای کشورهای A، B و C در جدول زیر، پاسخ پرسش‌های زیر کدام است؟</p> <table border="1"> <thead> <tr> <th>کشور</th> <th>سهام دهک اول</th> <th>سهام دهک ششم</th> <th>سهام دهک دهم</th> </tr> </thead> <tbody> <tr> <td>A</td> <td>۴</td> <td>۹</td> <td>۲۸</td> </tr> <tr> <td>B</td> <td>۵</td> <td>۸</td> <td>۴ برابر دهک ششم</td> </tr> <tr> <td>C</td> <td>۱۰ درصد دهک دهم</td> <td>۹</td> <td>۳۰</td> </tr> </tbody> </table> <p>الف) توزیع درآمد در کدام کشور مناسب‌تر است؟ ب) کدام گروه، کمترین درصد درآمد ملی را دارد؟ ج) توزیع درآمد در کدام جامعه، نامناسب‌تر است؟</p> <p>۱) B - دهک اول کشور C - A ۲) B - دهک اول کشور C - C ۳) A - دهک اول کشور B - A ۴) A - دهک اول کشور B - A</p>			کشور	سهام دهک اول	سهام دهک ششم	سهام دهک دهم	A	۴	۹	۲۸	B	۵	۸	۴ برابر دهک ششم	C	۱۰ درصد دهک دهم	۹	۳۰	
کشور	سهام دهک اول	سهام دهک ششم	سهام دهک دهم																	
A	۴	۹	۲۸																	
B	۵	۸	۴ برابر دهک ششم																	
C	۱۰ درصد دهک دهم	۹	۳۰																	
	سراسری-انسانی-۱۴۰۲ تیرماه																			

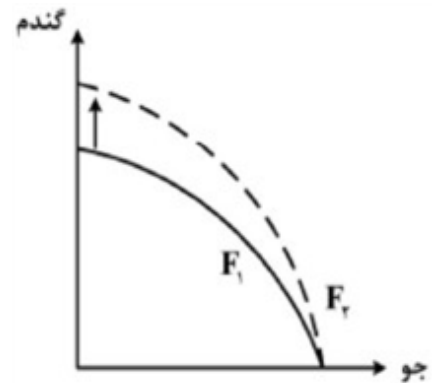
Telegram : @DAHOM_CH



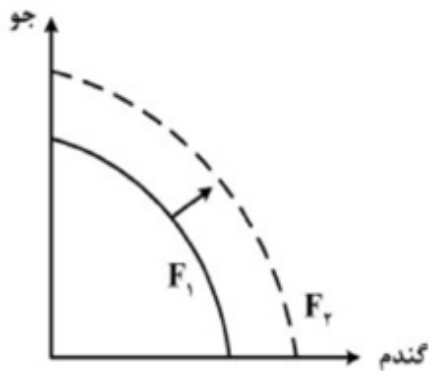
پژوهشگران مرکز تحقیقات ژنتیک ایران اعلام کردند: «نوع جدیدی از بذر گندم و جو تولید و به بازار عرضه کردند که تعداد محصول در هر خوشه را از ۱۰ عدد به ۳۰ عدد افزایش می‌دهد.» با توجه به رابطه رشد و پیشرفت علمی و اقتصادی و تأثیر آن بر منحنی امکانات تولید، کدام شکل صحیح است؟



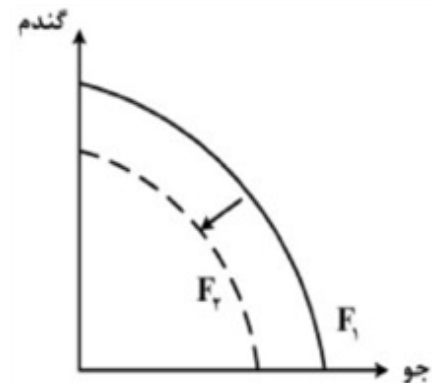
۲



۱



۴



۳

سراسری-انسانی-۱۴۰۲- تیرماه

۲

هریک از موارد زیر، به ترتیب مربوط به کدام بخش از تاریخ معاصر ایران است؟
 - بهبود خدمات پستی و انتقال وجوه بین شهرها
 - اقتصاد یکپارچه و مستقل هماهنگ با لایه‌های دینی و اجتماعی و فرهنگی کشور
 - نظام نوین در مالیات‌ستانی
 - تأسیس شرکت اسلامی

۱ قاجار - حکومت صفویه - پهلوی - قاجار

۳

۲ پهلوی - قاجار - نیمه دوم حکومت صفویه - قاجار

۳ قاجار - حکومت صفویه - پهلوی - دوران شکوفایی تمدن اسلامی

۴ پهلوی - قاجار - نیمه دوم حکومت صفویه - دوران شکوفایی تمدن اسلامی

سراسری-انسانی-۱۴۰۲- تیرماه

Telegram : @DAHOM_CH



- کدام مورد، در بردارنده پاسخ درست برای پرسش‌های زیر است؟
- کدام روش را کشورها برای کنترل تورم و تنظیم نقدینگی در گردش به کار می‌گیرند؟
- در حالت رکود اقتصادی کدام سیاست اعمال می‌شود؟
- کدام یک از سیاست‌های پولی برای مدیریت حجم نقدینگی و حفظ ارزش پول اعمال می‌شود؟
- ۱ افزایش تعرفه‌های گمرکی بر واردات - فروش اوراق مشارکت - سیاست مالی انقباضی
- ۲ افزایش تعرفه‌های گمرکی بر واردات - خرید اوراق مشارکت - سیاست مالی انبساطی
- ۳ سیاست بازار باز - خرید اوراق مشارکت - سیاست پولی انقباضی
- ۴ سیاست بازار باز - فروش اوراق مشارکت - سیاست پولی انبساطی

۴

سراسری-انسانی-۱۴۰۲ تیرماه

- کدام یک از پول‌های زیر، خصوصیتی اعتباری دارند؟
- ۱ تهاتری - ثبتي - الكترونيكي
- ۲ فلزی - تحریری - اسکناس
- ۳ کاغذی - تحریری - الكترونيكي
- ۴ تهاتری - ثبتي - اسکناس

۵

سراسری-انسانی-۱۴۰۲ تیرماه

- نقش اصلی پول در مبادلات چیست و با افزایش سطح عمومی قیمت‌ها، کدام وظیفه پول به درستی تحقق نمی‌یابد؟
- ۱ وظیفه سنجش ارزش - وسیله پرداخت آتی
- ۲ وظیفه سنجش ارزش - وسیله پرداخت در مبادله
- ۳ وظیفه تسهیل مبادلات - وسیله پرداخت در مبادلات
- ۴ وظیفه تسهیل مبادله - وظیفه پس‌انداز و حفظ ارزش پول

۶

سراسری-انسانی-۱۴۰۲ تیرماه

اطلاعات یک جامعه فرضی مطابق جدول زیر است. اگر یک درصد از جمعیت شاغلین، به امید یافتن شغل بهتر، کار خود را ترک کنند، دچار چه نوع بیکاری شده‌اند و جمعیت شاغلین در این حالت چقدر است؟

جمعیت کل	جمعیت پایین‌تر از ۱۵	جمعیت غیرفعال	جمعیت بیکار
۱۰,۰۰۰,۰۰۰	۱۵٪ جمعیت کل	۳۰٪ جمعیت بالای ۱۵	۲,۰۰۰,۰۰۰

۷

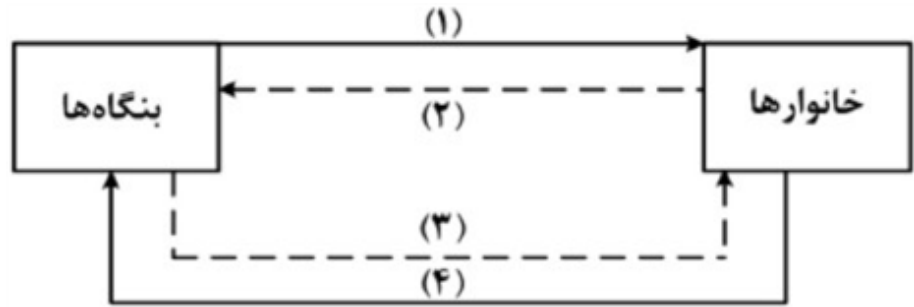
- ۱ اصطکاکي - ۳,۹۵۰,۰۰۰
- ۲ اصطکاکي - ۳,۹۱۰,۵۰۰
- ۳ ساختاري - ۳,۹۵۰,۰۰۰
- ۴ ساختاري - ۴,۹۱۰,۵۰۰

سراسری-انسانی-۱۴۰۲ تیرماه

Telegram : @DAHOM_CH



شکل زیر جریان چرخه اقتصادی بین خانوارها و بنگاه‌ها را نشان می‌دهد. کدام مورد درست است؟



- ۱ جریان ۲ و ۴ بیانگر عرضه و تقاضای بازار کالا است.
- ۲ رابطه شماره ۱ و ۴ به ترتیب بازار عوامل تولید و کالا و خدمات را بیان می‌کند.
- ۳ رابطه بنگاه‌ها و خانوارها در شماره ۳ و ۴ به ترتیب جریان درآمد و عوامل تولید را نشان می‌دهد.
- ۴ جریان شماره ۲ و ۴ به ترتیب، مجموعه خریداران و فروشندگان کالاها و خدمات را نشان می‌دهد.

سراسری-انسانی-۱۴۰۲ تیرماه

عبارت‌های زیر به ترتیب به کدام اشتباه‌های رایج در تصمیم‌گیری اشاره دارد؟
 - وقتی کتابی را که خریده‌ایم آن را دوست نداریم اما به خاطر پولی که داده‌ایم تا آخرش می‌خوانیم.
 - شخصی برای تکمیل نورپردازی باغچه‌ی منزل خود، زیر بار سنگین پرداخت اقساط آن می‌رود.
 - لباس فروشی که حاضر نیست پیشنهاد شریک خود را برای فروش از طریق شبکه‌های اجتماعی بپذیرد.

- ۱ بی‌توجهی به هزینه‌های دررفته - بی‌صبری زیاد - چسبیدن به وضعیت فعلی
- ۲ اعتماد به نفس بیش از حد - بی‌صبری زیاد - چسبیدن به وضعیت فعلی
- ۳ اعتماد به نفس بیش از حد - خودرأی بودن - توجه به هزینه‌های دررفته
- ۴ بی‌صبری زیاد - خودرأی بودن - توجه به هزینه‌های دررفته

سراسری-انسانی-۱۴۰۲ تیرماه

کدام مورد در رابطه با قرارداد «گات» درست است؟

- ۱ کشورهای آلمان و اروپای شرقی و ایالات متحده در جهت تقویت و حمایت از صنایع داخلی خود، تعرفه‌های حمایتی متعددی بر کالاهای وارداتی وضع کردند.
- ۲ کنگره آمریکا، تعرفه‌های گمرکی را تا ۵۲ درصد افزایش داد و سایر کشورها به تلافی این اقدام، تجارت خود را با آمریکا کاهش دادند و قرارداد تجارت آزاد، مشهور به «گات» را امضا کردند.
- ۳ سیاست‌های حمایت‌گرایانه ایالات متحده و برخی کشورهای اروپایی باعث به وجود آمدن مشکلاتی شده بود که کنفرانس پولی و مالی سازمان ملل به نام گات در سال ۱۹۴۴ تشکیل شد.
- ۴ بیست و سه کشور برای جلوگیری از اقدامات حمایت‌گرایانه کشورهای علیه یکدیگر و حفظ روابط تجاری بین خودشان قراردادی غیررسمی را امضا کردند که بعدها به سازمان دائمی تجارت جهانی تبدیل شد.

سراسری-انسانی-۱۴۰۲ تیرماه

Telegram : @DAHOM_CH

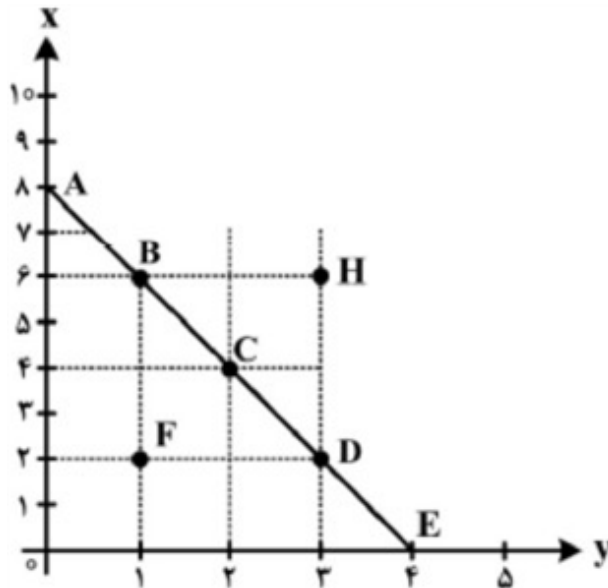


	<p>با توجه به اثر هریک از روش‌های درآمدزایی دولت، کدام‌یک از موارد زیر درست نیست؟</p> <p>۱) درآمد ناشی از فروش دارایی‌های تجدیدناپذیر به دلیل نوسان قیمت و وابستگی به قیمت بازارهای بین‌المللی، درآمد قابل اطمینانی نیست.</p> <p>۲) ایجاد بدهی از طریق قرض از مردم در هنگام سرمایه‌گذاری عمرانی با فروش اوراق مشارکت، یک نوع درآمد پایدار و مؤثر در اقتصاد کشور است.</p> <p>۳) اگر درآمد حاصل از فروش دارایی‌ها به خلق دارایی جدید منجر نشود، حتماً نسل‌های آینده متضرر می‌شوند.</p> <p>۴) درآمد حاصل از مالیات‌ها فراتر از کسب درآمد است زیرا رفتار مصرف‌کنندگان را اصلاح می‌کند.</p> <p>سراسری-انسانی-۱۴۰۲- تیرماه</p>	۱۱
	<p>یک دامدار، شیر تولیدی خود را به کارگاه تولید محصولات لبنی ۲ میلیون تومان می‌فروشد. کارگاه خامه تولید شده از شیر را به شیرینی‌پزی به قیمت ۳ میلیون تومان می‌فروشد و شیرینی‌پز یک کیگ درست شده از خامه را به مغازه‌دار ۴ میلیون تومان می‌فروشد و مغازه‌دار آن کیگ را به قیمت ۵ میلیون تومان به مشتری می‌فروشد. اگر نرخ VAT، ده درصد باشد، مجموع مالیات بر ارزش افزوده جمع‌آوری شده و مالیات بر ارزش افزوده خالص جمع‌آوری شده توسط مغازه‌دار به ترتیب چند هزار تومان است؟</p> <p>۱) پانصد - صد</p> <p>۲) چهارصد - صد</p> <p>۳) نهصد - چهارصد</p> <p>۴) یک میلیون و چهارصد - چهارصد</p> <p>سراسری-انسانی-۱۴۰۲- تیرماه</p>	۱۲
	<p>کدام مورد، هزینه فرصت اجتماعی «کمک‌های بلاعوض به فقرا» را تبیین می‌کند؟</p> <p>۱) کمک به افراد کم‌توان مالی، انتظار آنها را افزایش می‌دهد و به عدم فعالیت اقتصادی تشویق می‌کند.</p> <p>۲) دولت باید از همه مردم مالیات بیشتر بگیرد که در بیشتر اوقات امکان‌پذیر نیست.</p> <p>۳) کمک دولت به افراد نیازمند، سبب افزایش اشتغال در جامعه می‌شود.</p> <p>۴) با اختصاص منابع به این نوع کمک‌ها، سرمایه برای فعالیت‌های مولد کاهش می‌یابد.</p> <p>سراسری-انسانی-۱۴۰۲- تیرماه</p>	۱۳

Telegram : @DAHOM_CH



مرز امکانات بودجه (قید بودجه) خانواده‌ای برای خرید دو گروه کالا (X) و خدمات (Y) به شکل مقابل ترسیم شده است. اگر قیمت کالا معادل ۵ واحد پولی ($P(x) = 5$) و قیمت خدمات معادل ۱۰ واحد ($P(y) = 10$) باشد، با توجه به نقاط روی خط قید بودجه، کدام مورد درست نیست؟



- ۱) قید بودجه برای این خانواده با هر ترکیبی از X و Y، یکسان است.
- ۲) برای به دست آوردن یک واحد Y بیشتر، باید یک واحد X از دست بدهد.
- ۳) برای به دست آوردن یک واحد بیشتر از X مستلزم از دست دادن Y بیشتر است.
- ۴) حرکت از بالا به پایین خط بودجه (A, B, C, D و E) به معنی از دست دادن کالای X است.

سراسری-انسانی-۱۴۰۲ تیرماه

یک واحد تولید کفش با ۱۰ نیروی کار، به شرح زیر فعالیت می‌کند. با توجه به درآمد و هزینه‌های آن، سود واقعی این واحد تولیدی چقدر است؟

الف) خرید مواد اولیه در هر ماه $\frac{1}{8}$ سرمایه فیزیکی

ب) دستمزد ماهیانه هر کارگر ۴ میلیون تومان

ج) هزینه آب، برق، گاز و اجاره ماهیانه، معادل ۲۵ درصد دستمزد کارگران در سال

د) سرمایه فیزیکی (تجهیزات تولید) معادل ۸۰۰ میلیون تومان

هـ) ماهیانه ۱۵۰۰ جفت کفش تولید و با قیمت ۶۰۰ هزار تومان فروخته می‌شود.

و) هزینه فرصت (هزینه پنهان) کارفرما برای شاغل شدن در یک شرکت مهندسی، ماهیانه ۲۰ میلیون تومان است.

- ۱) ۶,۶۴۰,۰۰۰,۰۰۰ ۲) ۷,۱۲۰,۰۰۰,۰۰۰ ۳) ۶,۸۸۰,۰۰۰,۰۰۰ ۴) ۶,۴۰۰,۰۰۰,۰۰۰

سراسری-انسانی-۱۴۰۲ تیرماه

Telegram : @DAHOM_CH



در جدول مقابل اطلاعات کشوری برای ۴ سال متوالی ارائه شده است. پاسخ پرسش‌های الف و ب کدام است؟
الف: توزیع درآمد آن کشور در چه سالی نامناسب‌تر است؟
ب: در آن جامعه در کدام سال توزیع درآمد عادلانه‌تر است؟

سال	دهک دهم	دهک اول
۱۳۸۶	۲۰	۴
۱۳۸۷	۲۷/۵	۵
۱۳۸۸	۳۲	۸
۱۳۸۹	۲۱	۶

- ۱) ۱۳۸۷، ۱۳۸۹ ۲) ۱۳۸۷، ۱۳۸۸ ۳) ۱۳۸۹، ۱۳۸۷ ۴) ۱۳۸۶، ۱۳۸۹

۱۶

سراسری-انسانی-دی ۱۴۰۱

با توجه به اطلاعات ارائه شده پیرامون سطح عمومی قیمت‌ها در یک سال مشخص برای سه کشور A، B و C، سطح عمومی قیمت‌ها در انتهای سال برای کشور A و ابتدای سال برای کشور B، به ترتیب چند واحد پولی است؟

کشور	قیمت	ابتدای سال (واحد پولی)	انتهای سال (واحد پولی)	نرخ تورم (درصد)
A	۴۰۰	؟	$\frac{1}{2}C$	
B	؟	۴۴۸	سه برابر A	
C	۲۰۰	۲۸۰	۴۰	

- ۱) ۲۸۰، ۴۸۰ ۲) ۳۲۵، ۴۸۰ ۳) ۲۸۰، ۵۲۰ ۴) ۳۲۵، ۵۲۰

۱۷

سراسری-انسانی-دی ۱۴۰۱

اگر کارخانه‌ای به دلیل کاهش فروش، مجبور شود به طور موقت تعدادی از کارگرها را بیکار کند، با توجه به جدول زیر، این کارخانه از کدام نوع بیکاری برخوردار است و نرخ بیکاری چند درصد است؟

جمعیت کل (نفر)	جمعیت زیر ۱۵ سال (نفر)	جمعیت غیرفعال (نفر)	جمعیت شاغل (نفر)
۳,۸۰۰,۰۰۰	۹۰۰,۰۰۰	۴۰۰,۰۰۰	۲,۰۰۰,۰۰۰

- ۱) دوره‌ای - ۲۰ ۲) اصطکاکی - ۲۰ ۳) اصطکاکی - ۳۰ ۴) دوره‌ای - ۳۰

۱۸

سراسری-انسانی-دی ۱۴۰۱

کشور الف و ب فقط دو محصول برنج و چای تولید می‌کنند. کشور الف به ازای هر کیلو چای که تولید می‌کند از تولید ۵ کیلو برنج صرف‌نظر می‌کند. کشور ب به ازای هر کیلو چای که تولید می‌کند از تولید ۸ کیلو برنج صرف‌نظر می‌کند. با توجه به اطلاعات ارائه شده، کشور الف دارای کدام مزیت است؟

- ۱) مزیت نسبی در تولید برنج ۲) مزیت نسبی در تولید چای
۳) مزیت مطلق در تولید برنج ۴) مزیت مطلق در تولید چای

۱۹

سراسری-انسانی-دی ۱۴۰۱



Telegram : @DAHOM_CH

کدام مورد به ترتیب «منشأ رشد اقتصادی» و «مؤلفه اندازه‌گیری پیشرفت اقتصادی» را ارائه می‌دهد؟

- ۱ آموزش نیروی انسانی - افزایش عرضه نیروی کار
 ۲ آموزش نیروی انسانی - میانگین سال‌های تحصیل
 ۳ سرانه درآمد ناخالص داخلی - افزایش عرضه نیروی کار
 ۴ سرانه درآمد خالص داخلی - میانگین سال‌های تحصیل

۲۰

سراسری-انسانی-دی ۱۴۰۱

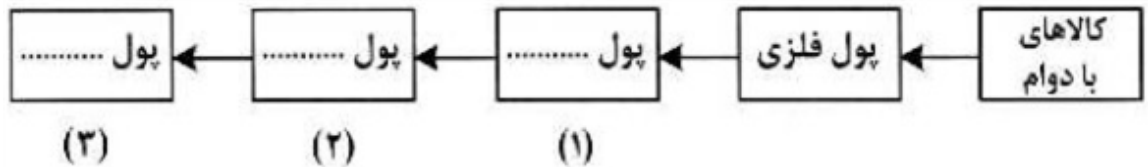
کدام سیاست اقتصادی، جهت مقابله با تحریم‌های تجاری مناسب است؟

- ۱ افزایش درآمد سرانه
 ۲ افزایش ارزش پولی صادرات و واردات
 ۳ کاهش حجم نقدینگی و حفظ ارزش پول ملی
 ۴ افزایش نسبت صادرات غیرنفتی به تولید کل

۲۱

سراسری-انسانی-دی ۱۴۰۱

با توجه به سرگذشت پول، کدام مورد مسیر تکاملی پول را به درستی تکمیل می‌کند؟



۲۲

- ۱ تحریری - ثبتي - دیجیتالی
 ۲ اسکناس - تحریری - ثبتي
 ۳ تحریری - الکترونیکی - بیت کوین
 ۴ کاغذی - تحریری - الکترونیکی

سراسری-انسانی-دی ۱۴۰۱

با توجه به جدول میزان مالیات پرداختی در یک جامعه برای موارد الف و ب به ترتیب، چند میلیون تومان است؟
 الف) مجموع میزان مالیات مستقیم پرداختی
 ب) مجموع میزان مالیات غیرمستقیم پرداختی

تعارف‌های گمرکی	۱۸۰ میلیون تومان
مالیات بر درآمد اشخاص	$\frac{1}{5}$ مالیات بر دارایی
مالیات بر دارایی	۲۴۰ میلیون تومان
عوارض خودرو	۳۵ میلیون تومان
مالیات شکر	۱۵ میلیون تومان

۲۳

- ۱ ۲۸۸ و ۲۱۵
 ۲ ۲۸۸ و ۲۳۰
 ۳ ۳۰۴ و ۲۱۵
 ۴ ۳۰۴ و ۲۳۰

سراسری-انسانی-دی ۱۴۰۱



Telegram : @DAHOM_CH

	<p>جهت مقاوم‌سازی اقتصاد کشوری که با مشکلات «تورم»، «فقر» و «تحریم» روبرو است، به ترتیب چه راهکارهایی مناسب است؟</p> <p>۱ سیاست پولی انبساطی - بهبود فضای کسب و کار - خودکفایی</p> <p>۲ سیاست پولی انقباضی - بهبود توزیع درآمد - تنوع شرکای تجاری</p> <p>۳ سیاست پولی انبساطی - سیاست افزایش نقدینگی - خلق مزیت اقتصادی</p> <p>۴ سیاست پولی انقباضی - کاهش وابستگی به اقتصاد تک‌محصولی - خلق مزیت اقتصادی</p>	۲۴
سراسری-انسانی-دی ۱۴۰۱	<p>در هنگام عدم تعادل، در وضعیت کمبود تقاضا در بازار، دولت از ابزار مالیات‌گیری جهت بهبود عملکرد بازار استفاده می‌کند، از کدام نوع مالیات و با چه هدفی، مالیات گرفته می‌شود؟</p> <p>۱ مالیات مستقیم - کسب درآمد</p> <p>۲ مالیات مستقیم - کاهش مصرف</p> <p>۳ مالیات غیرمستقیم - حمایت از مصرف‌کننده</p> <p>۴ مالیات غیرمستقیم - کاهش مصرف</p>	۲۵
سراسری-انسانی-دی ۱۴۰۱	<p>در جریان چرخه فعالیت‌های اقتصادی، کدام مورد بیان مناسبی در رابطه با تعاملات بین بازیگران کلیدی است؟</p> <p>۱ خانوارها با درآمدی که از فروش عوامل تولید کسب کرده‌اند، خدمات موردنیاز خود را از بنگاه خریداری می‌کنند.</p> <p>۲ خانوارها باید منابع را از کارخانه‌های تولیدی خریداری کنند و نیروی کار را به بنگاه‌ها اجاره دهند.</p> <p>۳ بازار فقط شامل مجموعه خریداران و فروشندگان چیزی در مکان خاصی می‌باشد.</p> <p>۴ بنگاه‌ها در مبادلات خود با خانوارها باید به صورت حقیقی در بازار حضور یابند.</p>	۲۶
سراسری-انسانی-دی ۱۴۰۱	<p>هر کدام از موارد زیر، به ترتیب مربوط به کدام ویژگی مشترک کارآفرینان موفق می‌باشند؟</p> <p>الف) ایده‌ها را به محصولات جدید و یا کسب‌وکار جدید تبدیل می‌کنند.</p> <p>ب) کارآفرینان واقع‌بین هستند اما مطمئن و دلگرم به موفقیت اقتصادی هستند.</p> <p>ج) کارآفرینان موفق، خود را با شرایط بازار وفق می‌دهند.</p> <p>د) نظم، پایداری، انضباط، اشتیاق و توانایی حل مسئله را دارند.</p> <p>۱ تیزبین - خوش‌بین - ریسک‌پذیر - سازمان‌دهنده</p> <p>۲ تیزبین - پرانگیزه - یادگیرنده - سازمان‌دهنده</p> <p>۳ نوآور - پرانگیزه - ریسک‌پذیر - سازمان‌دهنده</p> <p>۴ نوآور - خوش‌بین - یادگیرنده - پرانگیزه</p>	۲۷
سراسری-انسانی-دی ۱۴۰۱		



۲۸

با توجه به اطلاعات مربوط به یک کارگاه تولیدی، نتیجه عملکرد این کارگاه در طی یک سال گذشته چگونه بوده است؟
 الف) اجاره کارگاه ۳۰ میلیون ریال در سال
 ب) خرید ماشین‌آلات ده برابر اجاره کارگاه
 ج) خرید ماشین‌فرزند مدیر کارخانه ۲۰ میلیون ریال
 د) خرید ماده اولیه دو برابر اجاره کارگاه
 هـ) درآمد حاصل از فروش محصولات ده برابر خرید مواد اولیه
 و) پرداخت حقوق ۱۵۰ میلیون ریال در سال

۱) ۶۰ میلیون ریال سود ۲) ۸۰ میلیون ریال سود ۳) ۶۰ میلیون ریال ضرر ۴) ۸۰ میلیون ریال ضرر

سراسری-انسانی-دی ۱۴۰۱

۲۹

با توجه به الگوی مرز امکانات تولید، کدام مورد درک بهتری در استفاده از منابع کمیاب ارائه می‌دهد؟

- ۱) تولید در خارج از مرز امکانات، قابل دستیابی است به شرط آن که منابع کمیاب موجود با مدیریت صحیح به تولید کالا اختصاص یابد.
- ۲) تولید کالا باید درون مرز امکانات تولید، انجام پذیرد به شرط آن که منابع کمیاب موجود با مدیریت صحیح به تولید کالا اختصاص یابد.
- ۳) یک تولیدکننده بهتر است بر روی مرز امکانات، تولید کند و هر نقطه روی آن نشان می‌دهد که منابع کمیاب بین تولید دو کالای موردنظر تقسیم شده است.
- ۴) یک تولیدکننده بهتر است درون مرز امکانات، تولید کند و هر نقطه در این محدوده نشان می‌دهد که منابع کمیاب بین تولید دو کالای موردنظر تقسیم شده است.

سراسری-انسانی-دی ۱۴۰۱

۳۰

تصمیمات زیر به ترتیب مصداق مناسبی برای کدام اشتباه‌های رایج در تصمیم‌گیری است؟
 - زیبا به جشن تولد دوستش دعوت شده است، همچنین برای کاهش وزن و بیماری دیابت خود رژیم غذایی خاصی است اما مقداری از کیک تولد را می‌خورد.
 - مجتبی پیراهن ۴۵۰ هزار تومانی که ۵۰٪ تخفیف دارد را بر پیراهن ۱۶۵ هزار تومانی ترجیح می‌دهد.
 - پدر مریم اخیراً علی‌رغم نبود مشتری کافی برای میوه آناناس تصمیم گرفته است زمین بیشتری به این محصول اختصاص دهد.

- ۱) بی‌صبری زیاد - اثرگذاری حقه‌های فروش - خودرأی بودن و اعتماد به نفس زیاد
- ۲) بی‌صبری زیاد - عدم استفاده از معیار هزینه فرصت - چسبیدن به وضعیت فعلی
- ۳) اعتماد به نفس بیش از حد - صرفه‌جویی بیش از حد - چسبیدن به وضعیت فعلی
- ۴) اعتماد به نفس بیش از حد - توجه به هزینه‌های دررفته - خودرأی بودن و اعتماد به نفس زیاد

سراسری-انسانی-دی ۱۴۰۱



Telegram : @DAHOM_CH

جدول اطلاعاتی زیر مربوط به شاخص‌های اقتصادی و انسانی کشورها است. گزینه‌ی کامل‌کننده اطلاعات، به ترتیب حروف، کدام است؟

ردیف	گروه کشورها	متوسط نرخ باسوادی بزرگسالان به درصد	مرگ‌ومیر نوزادان در هر ۱۰۰۰ تولد	زندگی در آغاز تولد به سال
الف	کشور با توسعه‌ی انسانی ضعیف	۵۷/۱	؟	؟
ب	کشور با توسعه‌ی انسانی زیاد	؟	۶	؟
ج	درآمد سرانه‌ی سالانه در کشور در حال توسعه فقیر از کم‌تر است درحالی‌که هیچ‌یک از کشور توسعه‌یافته درآمد سرانه سالیانه‌شان کم‌تر از نیست.			
د	در سال ۲۰۱۵ م. تولید ناخالص داخلی سرانه در کشور سوئیس: و در سودان بوده است.			

۳۱

۱ الف) ۴۹ - ۶۹/۲ - ۴۰/۵ (ب) ۴۳ - حدود ۸۰ - ۶۰/۵ (ج) ۵۰ - ۱۸۰۰ - ۲۰ کم‌تر از ۴۰,۰۰۰ دلار (د)

۵۶۷/۶۰ دلار - حدود ۳۳۲ دلار

۲ الف) ۴۹ - ۸۹/۴ - ۶۰/۵ (ب) ۴۳ - نزدیک به ۱۰۰ - ۶۰/۵ (ج) ۵۰ - ۱۸۰۰ - ۲۰ کم‌تر از ۶۰,۰۰۰ دلار (د)

۶۷۵/۸۰ دلار - حدود ۳۳۲ دلار

۳ الف) ۴۳ - ۶۹/۲ - ۴۰/۵ (ب) ۴۹ - حدود ۸۰ - ۸۰/۵ (ج) ۵۰ - ۱۶۰۰ - ۲۰ کم‌تر از ۶۰,۰۰۰ دلار (د)

۵۶۷/۶۰ دلار - حدود ۲۲۱ دلار

۴ الف) ۴۳ - ۸۹/۴ - ۶۰/۵ (ب) ۴۹ - نزدیک به ۱۰۰ - ۸۰/۵ (ج) ۵۰ - ۱۶۰۰ - ۲۰ کم‌تر از ۴۰,۰۰۰ دلار (د)

۶۷۵/۸۰ دلار - حدود ۲۲۱ دلار



با فرض جدول مالیاتی زیر:

الف) میزان مالیات سالانه تولیدکننده‌ای که در ماه ۱۵ میلیارد ریال درآمد دارد، کدام است؟

ب) میزان مانده خالص ماهیانه او چه قدر است؟

ج) این محاسبه مربوط به کدام یک از انواع نرخ مالیاتی: ثابت، تصاعدی کلی و تصاعدی طبقه‌ای است؟

د) کدام مورد، در رابطه با ویژگی نوع نرخ مالیاتی مورد محاسبه نادرست است؟

قابل توجه: ارقام به میلیون و میلیارد ریال است.

A	درآمدهای تا: ۱۵۰ میلیون ریال	معاف از مالیات
B	درآمدهای تا: ۲۵۰ میلیون ریال	با نرخ: ۱۵٪ نسبت به مازاد: ۱۵۰ میلیون ریال
C	درآمدهای تا: ۳۵۰ میلیون ریال	با نرخ: ۲۰٪ نسبت به مازاد: ۲۵۰ میلیون ریال
D	درآمدهای تا: ۴۵۰ میلیون ریال	با نرخ: ۲۵٪ نسبت به مازاد: ۳۵۰ میلیون ریال
E	درآمدهای تا: ۹۰۰ میلیون ریال	با نرخ: ۳۵٪ نسبت به مازاد: ۴۵۰ میلیون ریال
F	درآمدهای بالاتر از: ۹۰۰ میلیون ریال	با نرخ: ۴۵٪ نسبت به مازاد: ۹۰۰ میلیون ریال

۳۲

۱) الف) (۷۵۰، ۷۸ ب) (۵۰۰، ۴۳۷، ۸ ج) ثابت د) این نوع نرخ مالیاتی در تعدیل درآمد و ثروت افراد جامعه مؤثر است.

۲) الف) (۵۷۰، ۸۷ ب) (۵۰۰، ۴۳۸، ۷ ج) تصاعدی د) در این نظام مالیاتی نرخ مالیات با افزایش درآمد یا دارایی زیاد و به عکس با کاهش درآمد یا دارایی کم می‌شود.

۳) الف) (۷۵۰، ۷۸ ب) (۵۰۰، ۴۳۷، ۸ ج) تصاعدی طبقه‌ای د) در این نوع مالیات، میزان مالیات پرداختی افراد متناسب با تغییر در درآمد یا دارایی آن‌ها کم و زیاد می‌شود.

۴) الف) (۵۷۰، ۸۷ ب) (۵۰۰، ۴۳۸، ۷ ج) تصاعدی کلی د) در این نوع مالیات، افراد با درآمدهای بیش‌تر با نرخ بیش‌تر و افراد با درآمدهای پایین‌تر با نرخ کم‌تری مالیات می‌پردازند.



با توجه به نمودار زیر در رابطه با قدرت خرید پول:

الف) نتیجه‌ی کاهش قدرت خرید پول، کدام است؟

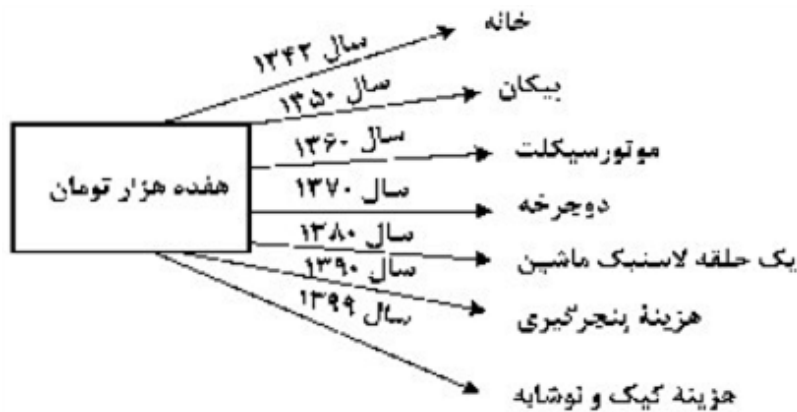
ب) پول در مقابل چه چیزی قدرت خرید خود را حفظ نکرده است؟

ج) یکی از دلایل مهم کاهش قدرت خرید پول جامعه، کدام است؟

د) رابطه‌ی پول با چه چیزی یک رابطه غیرمستقیم است؟

هـ) چرا گفته می‌شود قدرت خرید پول دستخوش تغییر است؟

و) قدرت خرید پول جامعه وابسته به چیست؟



۱) الف) تورّم ب) سطح عمومی قیمت‌ها ج) حجم زیاد پول نسبت به تولید جامعه د) سطح عمومی قیمت‌ها هـ) چون یک واحد پول نتوانسته ارزش خود را در طول زمان حفظ کند. و) سطح عمومی قیمت‌ها

۲) الف) تورّم رکودی ب) افزایش نقدینگی ج) نابرابری عرضه و تقاضای کل جامعه د) سطح عمومی قیمت‌ها هـ) چون ارزش پول متناسب با رونق و شکوفایی اقتصادی افزایش هماهنگ نداشته است و) سطح عمومی قیمت‌ها

۳) الف) تورّم رکودی ب) سطح عمومی قیمت‌ها ج) نابرابری عرضه و تقاضای کل جامعه د) حجم پول در گردش هـ) چون یک واحد پول نتوانسته ارزش خود را در طول زمان حفظ کند. و) قدرت موازنه‌ی پرداختی‌های خارجی آن است.

۴) الف) تورّم ب) افزایش نقدینگی ج) حجم زیاد پول نسبت به تولید جامعه د) حجم پول در گردش هـ) چون ارزش پول متناسب با رونق و شکوفایی اقتصادی افزایش هماهنگ نداشته است و) قدرت موازنه‌ی پرداختی‌های خارجی آن است.



پاسخ درست و کامل پرسش‌های زیر در کدام گزینه مطرح شده است؟

الف) به طور کلی سیاست‌های تثبیت اقتصادی به:

ب) دولت‌ها برای مدیریت کلان کشور:

ج) برای تداوم پیشرفت اقتصادی، علاوه بر ارتقای توان تولید، به عنوان عنصر اساسی پیشرفت، مقاوم‌سازی اقتصادی و آسیب‌پذیری آن از فشارها و تکانه‌های مختلف الزامی است. اقتصاددانان با اصطلاحاتی نظیر: مسئله‌ی مقاوم‌سازی اقتصاد را پیگیری و اجرا می‌کنند.

د) نفت خام است و همان‌طور که فروش فرش و اثاث خانه برای خانوار به شمار برود، صادرات و فروش نفت نیز محسوب

۱ الف) سیاست‌های انبساط پولی و سیاست‌های انقباض پولی طبقه‌بندی می‌شود. ب) علاوه بر سیاست‌های انبساط پولی از سیاست‌های انقباض مالی، نیز استفاده می‌کنند. ج) اقتصاد مقاومتی ضامن پیشرفت - درون‌زایی - برون‌گرایی و گسترش ارتباطات - اقتصاد دانش‌بنیان - اقتصاد مردمی د) ثروت عمومی - باید درآمد - درآمد - می‌شود.

۲ الف) سیاست‌های افزایش حجم پول در گردش و سیاست‌های کاهش حجم پول در گردش طبقه‌بندی می‌شود. ب) از سیاست‌های انبساط مالی برای تحریک تقاضای عمومی بهره می‌گیرند. ج) اقتصاد مردمی - اقتصاد مقاومتی ضامن پیشرفت - پایداری - مدیریت مصرف و بهره‌وری حداکثری - درون‌زایی د) یک کالای کانی و معدنی - باید درآمد - درآمد - می‌شود.

۳ الف) سیاست‌های انقباض مالی و سیاست‌های انبساط مالی تقسیم می‌شود. ب) سیاست‌های انقباض مالی را برای کاهش تقاضای کل اقتصاد در مواقع تورم به کار می‌گیرند. ج) استحکام اقتصادی - تاب‌آوری اقتصاد - توان تحریم‌شکنی - توزیع عادلانه ثروت و درآمد - اقتصاد دانش‌بنیان د) یک کالای کانی و معدنی - نباید درآمد - درآمد - نمی‌شود.

۴ الف) سیاست‌های پولی و سیاست‌های مالی تقسیم می‌شود. ب) علاوه بر سیاست‌های پولی از ابزارهای سیاست‌های مالی استفاده می‌کنند. ج) ثبات اقتصادی - استحکام اقتصادی - ضدشکنندگی - تاب‌آوری اقتصادی - پایداری د) ثروت عمومی - نباید درآمد - درآمد - نمی‌شود.

۳۴



جدول زیر، نمودار: «تقاضا، عرضه، قیمت» در یک جامعه بازاری فرضی است، به ترتیب کدام ردیف‌های جدول بیان‌گر:
 الف) برابری میان «تقاضا و عرضه» است و نام اصطلاح اقتصادی آن کدام است؟
 ب) کمبود عرضه است؟
 ج) مازاد عرضه است؟

ردیف	قیمت را به ریال	مقدار تقاضا به کیلو	مقدار عرضه به کیلو
۱	۱۰۰	۱۲۰۰	۰
۲	۱۵۰	۱۰۰۰	۲۰۰
۳	۲۰۰	۸۰۰	۴۰۰
۴	۲۵۰	۶۰۰	۶۰۰
۵	۳۰۰	۴۰۰	۸۰۰
۶	۳۵۰	۲۰۰	۱۰۰۰
۷	۴۰۰	۰	۱۲۰۰

- ۱ الف) ردیف: ۴ - مقدار و قیمت تعادلی ب) ردیف ۳ ج) ردیف ۵
- ۲ الف) ردیف: ۴ - مقدار تعادلی ب) ردیف ۵ ج) ردیف ۳
- ۳ الف) ردیف: ۷ - قیمت و مقدار تعادلی ب) ردیف ۵ ج) ردیف ۳
- ۴ الف) ردیف: ۷ - قیمت تعادلی ب) ردیف ۳ ج) ردیف ۵



کدام گزینه، بیان‌گر پاسخ درست و کامل سؤالات زیر است؟

- الف) کدام دو بانک اگر چه جزء بانک‌های تخصصی محسوب می‌شوند، ولی بیش‌تر نقش بانک تجاری را ایفا می‌کنند؟
ب) انسان محصول آماده‌ی طبیعت را مستقیماً بدون هیچ‌گونه انجام کاری روی آن برداشت می‌کند، سه نمونه از آن کدام است؟
و نتیجه، این اقدام و نام اصطلاح اسلامی آن کدام است؟
ج) گاهی توسعه‌یافتگی معادل غربی شدن تلقی شده است، دلیل آن کدام است؟
د) هرگاه اقتصاددانان برای به دست آوردن شکاف درآمدی، شکاف هزینه‌ای را محاسبه کنند، در این حالت:

۱ الف) مسکن و ملت ب) بهره‌برداری از معادن، زراعت، باغبانی - مالکیت عمومی - احیاء ج) در واقع الگوهای توسعه، با توجه به زمان توسعه یافتن کشورهای غربی در عصر کنونی، کاملاً تغییر یافته و متفاوت شده است د) درآمد خانوار، نماینده‌ای از هزینه‌ی آن است.

۲ الف) مسکن و کشاورزی ب) بهره‌برداری از علف و مراتع، چوب جنگل‌ها و معادن - مالکیت فردی - حیات ج) زیرا الگوهای توسعه به طور معمول به تفاوت‌های بومی و محلی کشورها و هم‌چنین به تاریخ، فرهنگ، باورها و ارزش‌های آن‌ها توجه لازم ندارد. د) هزینه‌ی خانوار، نماینده‌ای از درآمد آن است.

۳ الف) ملی و توسعه‌ی صادرات ب) بهره‌برداری از ماهی، دریاها، جنگل‌ها، کاشت گندم - مالکیت عمومی - حیات ج) چون این شاخص در زمان‌ها و مکان‌های متفاوت با الگوهای مختلفی باید مورد توجه اقتصاددانان قرار گیرد. د) شاخص دهک‌ها یکی از معیارهای تشخیص وضعیت «توزیع درآمد» تلقی می‌شود.

۴ الف) کشاورزی و صادرات ب) بهره‌برداری از چوب جنگل‌ها، معادن، پرورش ماهی، مالکیت فردی - احیاء ج) زیرا اقتصاددانان برای مقایسه‌ی بهتر کشورها و روند تغییرات آن‌ها علاوه بر شاخص‌های توسعه به شاخص‌های دیگر نیز توجه یافته‌اند. د) با محاسبه‌ی نسبت دهک دهم به دهک اول شاخصی مطمئن برای محاسبه به دست می‌آید.

۳۶



در یک جامعه‌ی فرضی، چنانچه کشاورزان یک کیلوگرم پنبه‌ی تولیدی خود را به ارزش ۶۵۰۰ ریال به کارگاه‌های ریسندگی بفروشند، کارگاه‌های ریسندگی نیز این مقدار پنبه را به مقداری نخ تبدیل کرده و به ارزش ۷۵۰۰ ریال به کارگاه‌های پارچه‌بافی بفروشند و در کارگاه‌های پارچه‌بافی، نخ به پارچه تبدیل شده و به مبلغ ۱۱,۰۰۰ ریال به کارگاه‌های تولید پوشاک فروخته شود و در این کارگاه‌ها پارچه به پوشاک تبدیل شده و به مبلغ ۱۹,۰۰۰ ریال به دست مصرف‌کنندگان می‌رسد. با توجه به این داده و ستاده‌ها:

الف) ارزش افزوده مرحله‌ی دوم و چهارم، کدام است؟

ب) به جز این روش چه روش‌های دیگری برای محاسبه‌ی تولیدات کلی وجود دارد و عناوین آن کدام است؟

ج) در کدام روش محاسبه‌ی «تولیدات کلی» نگران اندازه‌گیری «تولیدات واسطه‌ای و مواد اولیه» نیستیم چرا که ارزش پولی همه‌ی آن‌ها در محاسبه‌ی کالاها و خدمات نهایی خودبه‌خود اندازه‌گیری شده است. در ضمن روشی که در آن با جمع زدن همه‌ی اجزای سهمیم در روند تولید، عایدی همه‌ی بازگیران و فعالان اقتصادی داخلی یا ملی، «تولید کل» محاسبه شود، چه نام دارد؟

د) اقتصاددانان چه روشی را جهت اجتناب از اشتباه در محاسبه‌ی تولید کل ارائه می‌کنند؟

۱ الف) (۸۰۰۰ - ۱۰۰۰ ب) روش هزینه‌ای - روش تولید ج) روش درآمدی - روش هزینه‌ای د) دو روش را به کار می‌گیرند و میانگین آن‌ها را منظور می‌دارند.

۲ الف) (۳۵۰۰ - ۶۵۰۰ ب) روش درآمدی - روش تولید ج) روش هزینه‌ای - روش درآمدی د) هر سه روش را به کار می‌گیرند و میانگین آن‌ها را منظور می‌دارند.

۳ الف) (۸۰۰۰ - ۱۰۰۰ ب) روش درآمدی - روش هزینه‌ای ج) روش هزینه‌ای د) حداقل دو روش را به کار می‌گیرند و نتایج را با هم مقایسه می‌کنند.

۴ الف) (۳۵۰۰ - ۶۵۰۰ ب) روش هزینه‌ای - روش درآمدی ج) روش درآمدی د) هر سه روش مورد استفاده قرار می‌گیرد، هر کدام بیش‌تر بود آن منظور می‌شود.



با توجه به نمودار زیر:

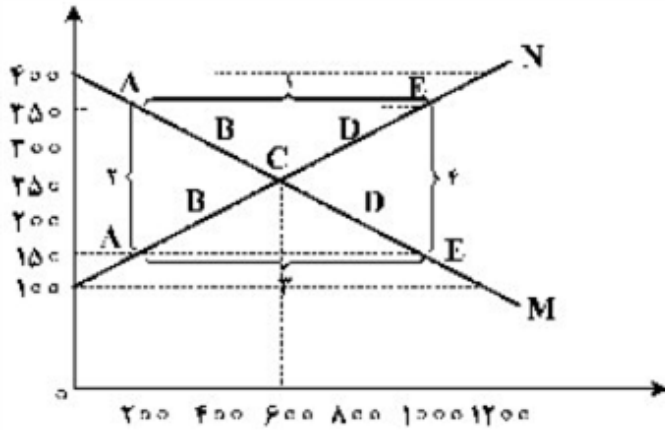
الف) کدام شماره، بیان گر مازاد عرضه است؟

ب) کدام دو نقطه، به ترتیب بیان گر قیمت و مقدار و مفهوم تعادلی است؟

ج) کدام شماره، مبین مفهوم کمبود عرضه است؟

د) کدام حروف به ترتیب، بیان گر منحنی تقاضا و عرضه است؟

هـ) کدام دو عدد بیان گر «عرضه صفر» است؟ و کدام دو عدد مبین «تقاضای صفر» است؟



۱) الف) ۱ (ب) C - ۲۵۰ - ۶۰۰ (ج) ۳ (د) N و M (هـ) ۱۲۰۰, ۴۰۰ و ۱۲۰۰, ۱۰۰

۲) الف) ۱ (ب) B - ۲۵۰ - ۶۰۰ (ج) ۴ (د) N و M (هـ) ۴۰۰, ۱۲۰۰ و ۱۲۰۰, ۱۰۰

۳) الف) ۳ (ب) B - ۶۰۰ - ۲۵۰ (ج) ۲ (د) N و M (هـ) ۴۰۰, ۱۲۰۰ و ۱۰۰, ۱۲۰۰

۴) الف) ۳ (ب) C - ۶۰۰ - ۲۵۰ (ج) ۱ (د) N و M (هـ) ۱۲۰۰, ۴۰۰ و ۱۰۰, ۱۲۰۰

سراسری-انسانی-۱۴۰۰

کدام گزینه، بیان گر پاسخ درست و کامل سؤالات زیر است؟

الف) به تمامی مراحل ، اطلاق می شود.

ب) کالاها و خدماتی را که تولید آنها بدون توجه به میزان: سود، هزینه و بازار انجام می شود، می نامند.

ج) همه فعالیت های تولیدی در محاسبه ی تولید کل جامعه مورد سنجش قرار می گیرند، به جز:

۱) الف) کارآفرینی - ایجاد ارزش افزوده (ب) محصولات تاکتیکی (ج) فعالیت زنان در کارگاه های قالی بافی

۲) الف) کارآفرینی - زنجیره خلق ارزش (ب) محصولات حیازت شده (ج) کاشت میوه و سبزیجات گلخانه ای

۳) الف) زنجیره خلق ارزش - ایجاد ارزش افزوده (ب) محصولات نرم (ج) فعالیت تولیدی زنان در خانه و تربیت فرزندان

۴) الف) ایجاد ارزش افزوده - زنجیره خلق ارزش (ب) محصولات راهبردی (ج) کاشت سبزیجات در منزل برای مصرف خانگی

سراسری-انسانی-۱۴۰۰



مندرجات جدول زیر، مربوط به یک جامعه‌ی فرضی است. چنانچه مجموع ارزش اقلام: موادغذایی، پوشاک و ماشین‌آلات ۱۴۵ میلیارد ریال باشد، در این صورت:

الف) تولید خالص ملی

ب) تولید ناخالص داخلی

ج) تولید خالص داخلی سرانه

در این جامعه، کدام است؟

۱	هزینه‌ی استهلاک	$\frac{1}{4}$ ارزش خدمات ارائه شده
۲	جمعیت کل کشور	۲۵ میلیون نفر
۳	ارزش تولید خارجیان مقیم کشور	۳۳ میلیارد ریال
۴	ارزش تولید مردم کشور که در خارج اقامت دارند.	$\frac{1}{3}$ ارزش تولید خارجیان مقیم کشور
۵	ارزش خدمات ارائه شده	۴۴ میلیارد ریال

۲ الف) ۱۸۹ ب) ۲۲۲ ج) ۸/۴۴

۱ الف) ۱۸۹ ب) ۲۱۱ ج) ۷/۳۳

۴ الف) ۲۰۰ ب) ۲۲۲ ج) ۸/۴۴

۳ الف) ۲۰۰ ب) ۲۱۱ ج) ۷/۳۳



پاسخ درست و کامل سؤالات زیر در کدام گزینه، مطرح شده است؟

الف) مطلب زیر مربوط به کدام مورد است؟

«در تحکیم بنیان‌های اقتصادی اصل، رفع نیازهای انسان در جریان رشد و تکامل اوست نه هم‌چون دیگر نظام‌های اقتصادی، تمرکز و تکاثر ثروت و سودجویی، زیرا در مکاتب مادی، اقتصاد عامل تخریب و فساد و تباهی می‌شود در اسلام است و از آن جزء کارآیی بهتر در راه وصول به مقصد و منظور مطلوب انتظار دیگری نمی‌توان داشت.»

ب) بانک مستقر در جده بوده و بانک محسوب می‌شود.

ج) مطلب زیر مربوط به کدام مورد است؟

«هر کشوری در پی جذب سرمایه‌گذاری خارجی برای کشور خود است. تا بدین ترتیب نه تنها پس‌اندازهای داخلی بلکه پس‌اندازهای کشورهای دیگر را نیز در جهت رشد و افزایش کارخانه‌ها و بخش‌های تولید داخل به کار گیرد.»

د) علاوه بر خرید حضوری روش دیگر برای سرمایه‌گذاری در بورس، کدام است؟

۱ الف) اصل ۴۴ قانون اساسی - اقتصاد وسیله است نه هدف ب) توسعه‌ی اسلامی - وابسته به سازمان ممالک اسلامی حوزه‌ی خلیج فارس - تعاونی اسلامی ج) جابه‌جایی عوامل تولید - سرمایه‌گذاری‌های استعماری در ممالک جهان سوم د) اشخاص می‌توانند از طریق اینترنت به خرید سهام در بورس، اقدام کرده و تأیید عضویت خود را از سامانه‌ی معاملاتی بورس تقاضا نمایند.

۴۱

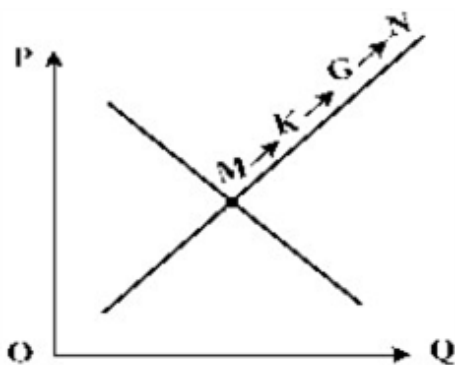
۲ الف) مقدمه‌ی قانون اساسی - اقتصاد وسیله است نه هدف ب) توسعه‌ی اسلامی - وابسته به سازمان کنفرانس اسلامی - توسعه‌ی ج) مبادلات بین‌المللی در بازارهای نیروی کار و سرمایه - حرکت سرمایه د) اشخاص می‌توانند از طریق اینترنت نیز خرید اقدام کنند و پس از عملیات، نمونه‌ی چاپی آن را به عنوان رسید دریافت نمایند.

۳ الف) مقدمه‌ی قانون اساسی - اقتصاد هدف است، نه وسیله ب) توسعه‌ی تعاونی جهان اسلام - وابسته به سازمان ممالک اسلامی حوزه‌ی خلیج فارس - توسعه‌ی ج) مبادلات بین‌المللی در بازارهای نیروی کار و سرمایه - مصادره‌ی سرمایه‌های خارجی د) با ثبت نام در اینترنت تأیید عضویت خود را از سامانه‌ی معاملاتی بورس، درخواست نمایند.

۴ الف) اصل ۴۳ قانون اساسی - اقتصاد هدف است، نه وسیله ب) توسعه‌ی تعاونی جهان اسلام - وابسته به سازمان کنفرانس اسلامی - تعاونی اسلامی ج) جابه‌جایی عوامل تولید - فرار سرمایه‌ها به خارج د) از طریق اینترنت ثبت نام کرده و رسید واریز مبلغ سرمایه‌گذاری را به کارگزاری مربوطه ارسال نمایند.

سراسری-انسانی-۱۴۰۰

با توجه به نمودار منحنی علت حرکت از نقطه‌ی M به N، کدام است؟



۴۲

- ۱ عرضه - قیمت بالاتر و عرضه‌ی کمتر
۲ تقاضا - قیمت پایین‌تر و تولید بیشتر
۳ عرضه - قیمت بیشتر و عرضه‌ی بیشتر
۴ تقاضا - توانایی تولید کم‌تر و قیمت بالاتر

سراسری-انسانی-۱۴۰۰



در یک جامعه‌ی فرضی، یک دستگاه کالای سرمایه‌ای را به قیمت: ۷۲ میلیارد ریال خریداری کرده‌ایم و عمر مفید آن ۱۲ سال است. در این صورت:

الف) هر سال چه میزان سرمایه به عنوان هزینه‌ی استهلاکی باید کنار گذاشته شود؟

ب) چنانچه در سه سال آخر عمر مفید این کالای سرمایه‌ای، ۵٪ کاهش بها یافته باشد، مجموع هزینه‌ی استهلاکی سه سال آخر چه مقدار خواهد بود؟

ج) قیمت جدید کالای سرمایه‌ای کدام است؟

توجه: ارقام به میلیون و میلیارد ریال است.

۴۳

۱ الف (۶ ب) ۱۷, ۱۰۰ ج) ۶۸, ۴۰۰, ۰۰۰ ۲ الف (۶ ب) ۱۷, ۱۰۱ ج) ۶۴, ۸۰۰, ۰۰۰

۳ الف (۷ ب) ۱۷, ۱۰۰ ج) ۶۴, ۸۰۰, ۰۰۰ ۴ الف (۷ ب) ۱۷, ۱۰۱ ج) ۶۸, ۴۰۰, ۰۰۰

سراسری-انسانی-۱۴۰۰

پاسخ درست و کامل پرسش‌های زیر در کدام گزینه مطرح شده است؟

الف) همه‌ی گزینه‌ها بیان‌گر مفهوم کالاهای سرمایه‌ای است، به‌جز:

ب) از نظر اقتصاددانان، معنا و مفهوم اصطلاح «کمیایی» کدام است؟

ج) کدام گزینه، به‌ترتیب بیان‌گر: نمونه کالاهای ضروری - نمونه کالاهای سرمایه‌ای - نمونه کالاهای لوکس و تجملی است.

۱ الف) در فرایند «تولید» خدمات آن‌ها مورد استفاده می‌گیرد. ب) منابع و امکانات موجود امکان مصارف متعدد دارند - با

روش‌های مختلفی می‌توان از منابع و امکانات در دسترس استفاده کرد. ج) دارو - مسکن - ماشین‌آلات

۲ الف) شامل ابزار تولید و تجهیزاتی است که به وسیله‌ی بنگاه‌های تولیدی به کار گرفته می‌شود. ب) منابع و امکانات و

ثروت‌های طبیعی محدود است - روش‌های استفاده از منابع و امکانات متنوع است. ج) نمک - پوشاک - داروهای

ویتامینه

۴۴

۳ الف) در طول زمان بادوام هستند و تولیدکننده به وسیله‌ی آن‌ها ارزش افزوده ایجاد می‌کند. ب) انسان در بهره‌برداری

هم‌زمان از منابع و امکانات محدودیت دارد - منابع و ثروت‌های طبیعی کاربردهای گوناگون دارند ج) نمک - فرش‌های

گران‌قیمت - ابزار تولید

۴ الف) با تبدیل به «عوامل تولید» به فرایند تولید کمک می‌کند. ب) انسان در بهره‌برداری از منابع و امکانات موجود

محدودیت دارد - منابع و امکانات موجود محدود است. ج) دارو - یخچال در مغازه‌ی بستنی‌فروشی - لوستر نورافشان

سراسری-انسانی-۱۴۰۰



$$A \text{ شاخص دهک‌ها در کشور} = \frac{\text{سهم دهک دهم}}{\text{سهم دهک اول}} = \frac{۲۸}{۴} = ۷$$

$$B \text{ شاخص دهک‌ها در کشور} = \frac{\text{سهم دهک دهم}}{\text{سهم دهک اول}} = \frac{۴ \times ۸}{۵} = ۶/۴$$

$$C \text{ شاخص دهک‌ها در کشور} = \frac{\text{سهم دهک دهم}}{\text{سهم دهک اول}} = \frac{۳۰}{۳۰ \times \frac{۱۰}{۱۰۰}} = \frac{۳۰}{۳} = ۱۰$$

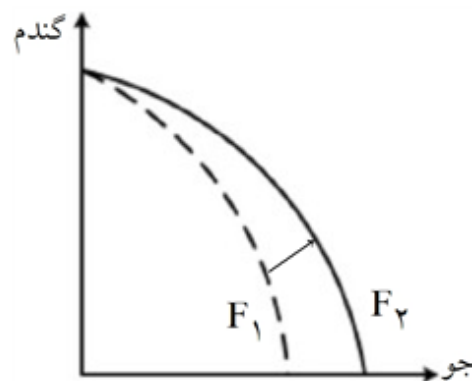
هر چه شاخص وضعیت توزیع درآمد (شاخص دهک‌ها - نسبت سهم دهک دهم به سهم دهک اول) بیشتر باشد؛ توزیع درآمد در آن جامعه نامناسب‌تر است و بالعکس. در نتیجه:

- وضعیت توزیع درآمد در کشور C با شاخص دهک‌های ۱۰، مناسب‌تر از وضعیت توزیع درآمد در سایر کشورها است.
- وضعیت توزیع درآمد در کشور B با شاخص دهک‌های ۶/۴، عادلانه‌تر از وضعیت توزیع درآمد در سایر کشورها است.
- دهک اول کشور C که برابر با ۳ درصد است در مقایسه با سایر دهک‌ها کمتر است و کمترین درصد درآمد ملی را دارد.

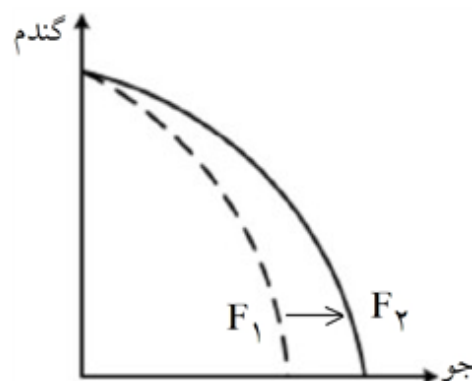
گزینه ۴ پاسخ صحیح است. عوامل مؤثر بر انتقال منحنی مرز امکانات تولید به خارج:

- هر عاملی که میزان مواد اولیه و منابع تولید یک کارخانه را افزایش دهد مانند افزایش مواد اولیه، افزایش نیروی کار استخدامی، افزایش سرمایه‌های فیزیکی (ماشین‌آلات و ...) و سرمایه‌های مالی و یا پیدایش یک تکنولوژی و پیشرفت که امکان تولید بیشتر کالاها و خدمات را فراهم می‌آورد، منجر به انتقال منحنی مرز امکانات تولید به خارج می‌شود. این انتقال منحنی مرز امکانات تولید به خارج سه حالت دارد:

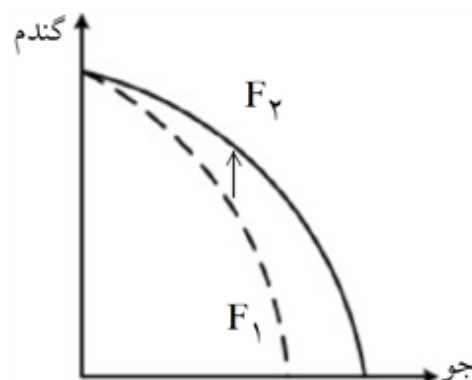
حالت اول: اگر منابع برای تولید هر دو کالا افزایش یابد منحنی به صورت زیر جابه‌جا می‌شود: (که در این سؤال نیز منابع برای تولید هر دو کالا افزایش یافته است).



حالت دوم: اگر تنها منابع برای تولید یک کالا (در این جا مثلاً کالای جو) افزایش یابد و میزان تولید کالای دیگر ثابت بماند منحنی به صورت زیر جابه‌جا می‌شود:



حالت سوم: اگر تنها منابع برای تولید یک کالا (در این جا مثلاً کالای گندم) افزایش یابد و میزان تولید کالای دیگر ثابت بماند منحنی به صورت زیر جابه‌جا می‌شود:



گزینه ۱ پاسخ صحیح است.

- بهبود خدمات پستی و انتقال وجوه بین شهرها: دوره قاجار
- اقتصاد یکپارچه و مستقل هماهنگ با لایه‌های دینی و اجتماعی و فرهنگی کشور: نیمه اول حکومت صفویه
- نظام نوین در مالیات‌ستانی: دوره پهلوی
- تأسیس شرکت اسلامی: دوره قاجار



گزینه ۳ پاسخ صحیح است. به سیاست‌هایی که دولت از طریق بانک مرکزی برای «مدیریت حجم نقدینگی» و «حفظ ارزش پول» اعمال می‌کند، «سیاست‌های پولی» می‌گویند.

انواع سیاست‌های پولی:

۱) کاهش نقدینگی در گردش (سیاست پولی انقباضی): مانند: فروش اوراق مشارکت به مردم

۲) افزایش نقدینگی در گردش (سیاست پولی انبساطی): مانند: خرید اوراق مشارکت در دست مردم

انواع سیاست‌های پولی	در چه شرایطی این سیاست توسط بانک مرکزی به کار گرفته می‌شود؟	یکی از روش‌های اعمال این سیاست: (سیاست بازار باز (فروش یا خرید اوراق مشارکت))
کاهش نقدینگی در گردش (سیاست پولی انقباضی)	زمانی که اقتصاد کشور دچار تورم می‌شود، برای پیشگیری از افزایش قیمت‌ها یا کاهش سرعت آن	بانک مرکزی می‌تواند با فروش اوراق مشارکت، به مردم به طور مستقیم از مقدار پول در دست مردم بکاهد و تورم را کنترل و نقدینگی در گردش را کاهش دهد.
افزایش نقدینگی در گردش (سیاست پولی انبساطی)	در حالت رکود اقتصادی که سطح تولید کاهش و بیکاری افزایش می‌یابد.	بانک مرکزی می‌تواند با خرید اوراق مشارکت در دست مردم به طور مستقیم نقدینگی بیشتری را به جامعه تزریق کند.

گزینه ۳ پاسخ صحیح است. پول‌های کاغذی، تحریری یا الکترونیکی، خصوصیتی اعتباری دارند.

گزینه ۴ پاسخ صحیح است. نقش اصلی پول در مبادلات، تسهیل مبادله است.

یکی از وظایف پول، وسیله‌ی پس‌انداز و حفظ ارزش است. افراد پول‌هایی را که نزد خود پس‌انداز کرده‌اند، به عنوان وسیله‌ی حفظ ارزش در زمان لازم مورد استفاده قرار می‌دهند. این وظیفه زمانی تحقق می‌یابد که پول بتواند در مقابل سطح عمومی قیمت‌ها ارزش خود را حفظ کند.



گزینه ۲ پاسخ صحیح است. بیکاری اصطلاحی:

- این نوع بیکاری شامل کسانی می‌شود که شغل قبلی خود را به دلایلی رها کرده و به امید یافتن شغلی بهتر در جست‌وجو هستند.
- همچنین شامل کسانی است که به تازگی در حال ورود به بازار کار هستند.
- این نوع بیکاری کوتاه‌مدت است و در همه کشورهای وجود دارد.

جمعیت زیر ۱۵ سال - جمعیت کل = جمعیت ۱۵ سال و بالاتر

$$= 10,000,000 - \left(10,000,000 \times \frac{15}{100} \right) = 10,000,000 - 1,500,000 = 8,500,000 \text{ نفر}$$

جمعیت غیرفعال - جمعیت ۱۵ سال و بالاتر = جمعیت فعال

$$\text{جمعیت فعال} = 8,500,000 - \left(8,500,000 \times \frac{30}{100} \right) = 8,500,000 - 2,550,000 = 5,950,000 \text{ نفر}$$

جمعیت بیکار - جمعیت فعال = جمعیت شاغل

$$\text{جمعیت شاغل} = 5,950,000 - 2,000,000 = 3,950,000 \text{ نفر}$$

یک درصد از جمعیت شاغل به امید پیدا کردن شغل بهتر، کار خود را ترک کرده‌اند، در نتیجه ۹۹ درصد آن‌ها همچنان شاغل هستند و خواهیم داشت:

$$\text{جمعیت شاغل جدید} = 3,950,000 \times \frac{99}{100} = 3,910,500 \text{ نفر}$$

گزینه ۳ پاسخ صحیح است.

- نیمه بالایی نمودار، تبادل تولیدات را در بازار کالاها و خدمات (بازار محصولات) نشان می‌دهد.
- در بازار کالاها و خدمات، خانوارها خریدار و بنگاه‌ها فروشنده‌اند.
- مسیر شماره ۱: جریان کالاها و خدمات را از بنگاه‌ها به خانوارها را نشان می‌دهد.
- مسیر شماره ۲: پرداخت پول بابت کالا و خدمات خریداری شده در جهت مخالف جریان کالا و خدمات را نشان می‌دهد.
- پولی که خانوارها بابت خرید کالاها و خدمات پرداخت می‌کنند، با عبور از بازار محصولات به عنوان درآمد بنگاه دریافت می‌شود. نکات مربوط به نیمه پایینی نمودار:
- تبادل عوامل تولید (زمین، نیروی کار، سرمایه و کارآفرینی) در بازار عوامل تولید را نشان می‌دهد.
- در بازار عوامل تولید، خانوارها فروشنده و بنگاه‌ها خریدار هستند.
- مسیر شماره ۳: پول بابت عوامل تولید خریداری شده (درآمد خانوارها) در جهت مخالف جریان عوامل تولید را نشان می‌دهد. پولی که بنگاه‌ها بابت خرید عوامل تولید می‌پردازند، با عبور از بازار عوامل تولید، به عنوان درآمد خانوارها دریافت می‌شود.
- درآمد خانوارها در بازار عوامل تولید: پرداخت‌هایی که بابت خرید منابع تولید به خانوارها پرداخت می‌شود.
- مسیر شماره ۴: جریان عوامل تولید را از خانوارها به بنگاه‌ها را نشان می‌دهد.



گزینه ۱ پاسخ صحیح است. اشتباهات رایج در تصمیم‌گیری (عوامل رفتارهای غیرمنطقی):

عدم توجه به هزینه‌های در رفته:

- خوردن کامل غذایی که سفارش داده‌اید ولی آن را دوست ندارید، صرفاً به دلیل پرداخت شده بابت آن غذا
 - رفتن به کلاس بی کیفیت، صرفاً به دلیل پرداخت کامل شهریه آن
 - (وقتی کتابی را خریده‌ایم آن را دوست نداریم اما به خاطر پولی که داده‌ایم تا آخرش می‌خوانیم).
- بی‌صبری زیاد:

- سراغ کارهای کم‌ارزش آنی رفتن، به جای صبر در تحصیل، یادگیری و بهره‌مندی از منافع آنی
 - برای تأمین هزینه‌های مصرفی فعلی، زیر بار سنگین انواع بدهی‌ها رفتن
 - (شخصی برای تکمیل نورپردازی باغچه منزل خود، زیر بار سنگین پرداخت اقساط آن می‌رود).
- چسبیدن به وضعیت فعلی:

- چسبیدن به وضعیت فعلی و پرهیز از بررسی گزینه‌های جدید با رویکرد منطقی هزینه - فایده
- (لباس فروشی که حاضر نیست پیشنهاد شریک خود را برای فروش از طریق شبکه‌های اجتماعی بپذیرد).

گزینه ۴ پاسخ صحیح است. ۲۳ کشور قراردادی غیررسمی به نام قرارداد گات را امضا کردند. (برای جلوگیری از اقدامات حمایت‌گرایانه کشورهای علیه یکدیگر و حفظ روابط تجاری بین خودشان) بعدها این قرارداد به سازمان دائمی تجارت جهانی تبدیل شد.

گزینه ۲ پاسخ صحیح است. دولت سالیانه بخشی از درآمد موردنیاز خود را از طریق ایجاد بدهی (یعنی قرض گرفتن از مردم یا شریک کردن آن‌ها در طرح‌های عمرانی و سرمایه‌گذاری‌های دولت و تقسیم سود بین آن‌ها) تأمین می‌کند. (این درآمد نیز تا ابد نمی‌تواند پایدار باشد).



گزینه ۱ پاسخ صحیح است. برای حل مسائل مالیات بر ارزش افزوده باید جدول زیر را به خاطر بسپارید.

مراحل	توضیحات
قیمت فروش با مالیات بر ارزش افزوده	(نرخ مالیات بر ارزش افزوده \times قیمت کالا در آن مرحله) + قیمت کالا در آن مرحله
مالیات بر ارزش افزوده جمع آوری شده توسط فروشنده	نرخ مالیات بر ارزش افزوده \times قیمت کالا در آن مرحله
اعتبار مالیات بر ارزش افزوده‌هایی که در مرحله قبل پرداخت شده	برابر است با مالیات بر ارزش افزوده جمع آوری شده توسط فروشنده در مرحله قبل
مالیات بر ارزش افزوده خالص جمع آوری شده	مالیات بر ارزش افزوده جمع آوری شده توسط فروشنده در مرحله قبل - مالیات بر ارزش افزوده جمع آوری شده توسط فروشنده در آن مرحله یا نرخ مالیات بر ارزش افزوده \times میزان ارزش افزوده آن مرحله
مجموع مالیات بر ارزش افزوده جمع آوری شده	مجموع مالیات بر ارزش افزوده خالص جمع آوری شده تمامی مراحل یا مالیات بر ارزش افزوده جمع آوری شده توسط فروشنده در مرحله آخر

در نتیجه خواهیم داشت:

= مجموع مالیات بر ارزش افزوده جمع آوری شده

$$\text{هزار تومان } ۵۰۰ = ۵,۰۰۰ \times \frac{۱۰}{۱۰۰}$$

راه حل اول:

= مالیات بر ارزش افزوده خالص جمع آوری شده توسط مغازه دار

نرخ مالیات بر ارزش افزوده \times میزان ارزش افزوده آن مرحله

$$\text{هزار تومان } ۱۰۰ = ۱,۰۰۰ \times \frac{۱۰}{۱۰۰} = (۵,۰۰۰ - ۴,۰۰۰) \times \frac{۱۰}{۱۰۰}$$

راه حل دوم:

= مالیات بر ارزش افزوده خالص جمع آوری شده توسط مغازه دار

مالیات بر ارزش افزوده جمع آوری شده توسط فروشنده در مرحله قبل - مالیات بر ارزش افزوده جمع آوری شده توسط فروشنده در آن مرحله

$$\text{هزار تومان } ۱۰۰ = ۵۰۰ - ۴۰۰ = \left(۵,۰۰۰ \times \frac{۱۰}{۱۰۰}\right) - \left(۴,۰۰۰ \times \frac{۱۰}{۱۰۰}\right)$$

گزینه ۴ پاسخ صحیح است. هزینه فرصت بیانگر چیزی است که از آن صرف نظر می کنیم. در این سؤال با اختصاص منابع به کمک های

بلاعوض به فقرا، از اختصاص این سرمایه ها به فعالیت های مولد صرف نظر می کنیم.



۱۴

گزینه ۲ پاسخ صحیح است. برای به دست آوردن یک واحد Y بیشتر، باید دو واحد X از دست داد. به عنوان مثال در نقطه D ، ۲ واحد کالای X و ۳ واحد کالای Y می‌توان خریداری کرد. در نقطه C ، ۴ واحد کالای X و ۲ واحد کالای Y می‌توان خریداری کرد. در نتیجه برای حرکت از نقطه D به C (جهت به دست آوردن یک واحد Y بیشتر) باید از دو واحد X صرف‌نظر کرد.

۱۵

گزینه ۱ پاسخ صحیح است.

$$\text{میلیون تومان } 1200 = 12 \times 800 \times \frac{1}{8} = 12 \times \left(\text{اجاره سالانه کارگاه} \frac{1}{8} \right) = \text{هزینه خرید سالانه ماده اولیه}$$

$$\text{میلیون تومان } 480 = 4 \times 10 \times 12 = \text{دستمزد سالانه مجموع کارگران}$$

$$12 \times \left(\text{دستمزد کارگران در سال} \frac{25}{100} \right) = \text{هزینه آب، برق، گاز و اجاره سالانه}$$

$$\text{میلیون تومان } 1440 = \frac{25}{100} \times 480 \times 12 =$$

$$\text{میلیون تومان } 800 = \text{سرمایه فیزیکی}$$

$$\text{تومان } 10800 = 10,800,000,000 \times 12 = \text{درآمد سالانه حاصل از فروش محصولات}$$

$$\text{میلیون تومان } 240 = 20 \times 12 = \text{هزینه فرصت سالانه}$$

$$= \text{مجموع هزینه‌های کارگاه تولید کف با احتساب هزینه فرصت}$$

$$\text{میلیون تومان } 4160 = 1200 + 480 + 1440 + 800 + 240 =$$

چون میزان درآمد از هزینه‌ها بیشتر است، تولیدکننده از فعالیت خود سود برده است.

$$= \text{مجموع هزینه‌های تولید (هزینه‌های مستقیم و هزینه فرصت) - درآمد} = \text{سود واقعی}$$

$$\text{تومان } 6,640,000,000 = 6,640,000,000 = \text{میلیون تومان } 6640 = 10800 - 4160 =$$

۱۶

گزینه ۳ پاسخ صحیح است.

$$\frac{\text{سهم دهک دهم}}{\text{سهم دهک اول}} = \frac{20}{4} = 5 = \text{شاخص دهک‌ها در سال } 1386$$

$$\frac{\text{سهم دهک دهم}}{\text{سهم دهک اول}} = \frac{27/5}{5} = 5/5 = \text{شاخص دهک‌ها در سال } 1387$$

$$\frac{\text{سهم دهک دهم}}{\text{سهم دهک اول}} = \frac{32}{8} = 4 = \text{شاخص دهک‌ها در سال } 1388$$

$$\frac{\text{سهم دهک دهم}}{\text{سهم دهک اول}} = \frac{21}{6} = 3/5 = \text{شاخص دهک‌ها در سال } 1389$$

هر چه شاخص وضعیت توزیع درآمد (شاخص دهک‌ها - نسبت سهم دهک دهم به سهم دهک اول) بیشتر باشد؛ توزیع درآمد در آن جامعه نامناسب‌تر است و بالعکس. در نتیجه:

- وضعیت توزیع درآمد در سال ۱۳۸۷ با شاخص دهک‌های ۵/۵، نامناسب‌تر از وضعیت توزیع درآمد در سایر کشورها است.

- وضعیت توزیع درآمد در سال ۱۳۸۹ با شاخص دهک‌های ۳/۵، عادلانه‌تر از وضعیت توزیع درآمد در سایر کشورها است.



$$\text{تورم} = \frac{\text{سطح عمومی قیمت ها در ابتدای سال} - \text{سطح عمومی قیمت ها در انتهای سال}}{\text{سطح عمومی قیمت ها در ابتدای سال}} \times 100$$

$$\text{تورم کشور C} = \frac{280 - 200}{200} \times 100 = 40 \text{ درصد}$$

$$\text{تورم کشور A} = \frac{1}{4} \text{ تورم کشور C} = \frac{1}{4} \times 40 = 10 \text{ درصد}$$

$$\text{برای کشور A} \Rightarrow \frac{20}{100} = \frac{x - 400}{400} \Rightarrow 0.2 \times 400 = x - 400 \Rightarrow x = 400 + 80 = 480$$

$$\text{تورم کشور B} = 3 \times \text{تورم کشور A} = 3 \times 10 = 30 \text{ درصد}$$

$$\text{برای کشور B} \Rightarrow \frac{60}{100} = \frac{448 - y}{y} \Rightarrow 0.6y = 448 - y \Rightarrow 1.6y = 448 \Rightarrow y = \frac{448}{1.6} = 280$$

راه حل میان بر:

تو سؤال های این شکلی که نرخ تورم رو به ما داده و قیمت سال قبل و یا سال جدید رو از ما می خواهد، می شود خیلی راحت به جواب رسید: اول باید عدد تورم را به صورت اعشاری بنویسیم، و بعد آن را با عدد ۱ جمع کنیم:

حالا دو تا حالت پیش می آید:

حالت اول (مانند کشور A):

قیمت سال قبل رو داریم و باید قیمت سال جدید را به دست بیاوریم. در نتیجه باید عدد به دست آمده (۱/۲۰) را در قیمت سال قبل ضرب کنیم.

$$1/20 \times 400 = 480$$

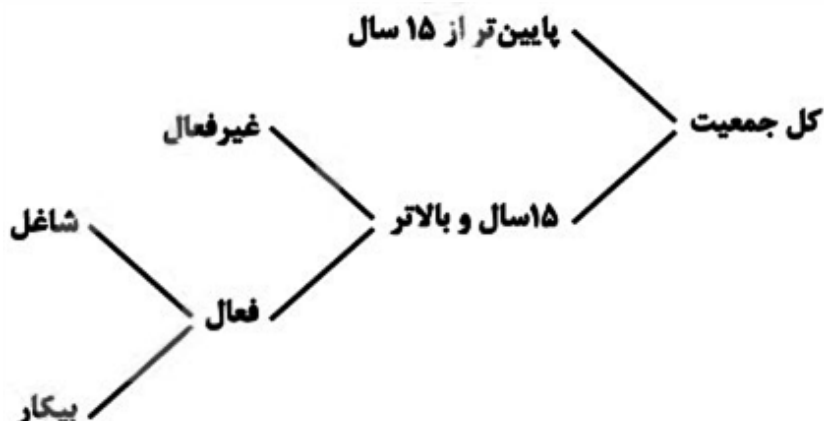
حالت دوم (مانند کشور B):

قیمت سال جدید را داریم و باید قیمت سال قبل را به دست بیاوریم. پس باید قیمت سال جدید را بر عدد به دست آمده (۱/۶۰) تقسیم کنیم.

$$\frac{448}{1.6} = 280$$



<p>- بیکاری ای که هنگام رکود اقتصادی رخ می دهد. - در دوره رکود، تولید کاهش می یابد و به همین دلیل شرکت ها استخدام خود را متوقف می کنند یا بخشی از نیروهای خود را بیکار می کنند.</p>	<p>بیکاری دوره ای</p>
---	-----------------------



جمعیت زیر ۱۵ سال - جمعیت کل = جمعیت ۱۵ سال و بالاتر

نفر $۲,۹۰۰,۰۰۰ = ۳,۸۰۰,۰۰۰ - ۹۰۰,۰۰۰$ = جمعیت ۱۵ سال و بالاتر

جمعیت غیرفعال - جمعیت ۱۵ سال و بالاتر = جمعیت فعال

نفر $۲,۵۰۰,۰۰۰ = ۲,۹۰۰,۰۰۰ - ۴۰۰,۰۰۰$ = جمعیت فعال \Rightarrow

جمعیت شاغل - جمعیت فعال = جمعیت بیکار

نفر $۵۰۰,۰۰۰ = ۲,۵۰۰,۰۰۰ - ۲,۰۰۰,۰۰۰$ = جمعیت بیکار \Rightarrow

$$\text{نرخ بیکاری} = \frac{\text{جمعیت بیکار}}{\text{جمعیت فعال}} \times ۱۰۰ = \frac{۵۰۰,۰۰۰}{۲,۵۰۰,۰۰۰} \times ۱۰۰ = ۲۰ \text{ درصد}$$

گزینه ۲ پاسخ صحیح است. هزینه فرصت تولید چای در کشور الف کمتر از هزینه فرصت تولید چای در کشور ب است و همین امر باعث می شود تا کشور الف منابع کمیاب خود را بیشتر به تولید چای اختصاص دهد. بنابراین کشور الف در تولید چای مزیت نسبی دارد.

گزینه ۲ پاسخ صحیح است. یک منشأ رشد اقتصادی، افزایش در منابع (جمعیت، سرمایه های فیزیکی، سرمایه انسانی) است.

- جمعیت در طول زمان رشد می کند، در نتیجه عرضه نیروی کار هم افزایش می یابد -
- سرمایه های فیزیکی هم می توانند با سرمایه گذاری در کارخانه ها، ساختمان ادارات - ماشینآلات و مغازه ها افزایش یابد
- سرمایه انسانی با آموزش افزایش می یابد -

مؤلفه های پیشرفت اقتصادی:

- رشد اقتصادی
- شاخص های توسعه انسانی (نظیر بهداشت، سواد) میانگین سالهای تحصیل (و امید زندگی)
- شاخص توزیع عادلانه درآمد



انواع تحریم‌های اقتصادی	تحریم تجاری (مانع‌تراشی در مقابل صادرات و واردات کالا، خدمات و عوامل تولید مثل سرمایه) تحریم مالی (مانع‌تراشی در مقابل مبادلات مالی، بانک‌ها و بیمه‌ها)
-------------------------	--

لذا افزایش نسبت صادرات غیرنفتی به تولید کل جهت مقابله با تحریم‌های تجاری مناسب است.

مسیر تکامل پول: کالاهای بادوام ← پول فلزی ← پول تحریری ← پول الکترونیکی

گزینه ۲ پاسخ صحیح است. انواع مالیات مستقیم: مالیات بر دارایی و مالیات بر درآمد

انواع مالیات غیرمستقیم: عوارض گمرکی و خدماتی، مالیات بر مصرف، مالیات بر ارزش افزوده

$$\text{الف) میلیون تومان } ۴۸ = \frac{۱}{۵} \times ۲۴۰ = \text{مالیات بر دارایی} \times \frac{۱}{۵} = \text{مالیات بر درآمد اشخاص}$$

مالیات بر دارایی + مالیات بر درآمد اشخاص = مجموع میزان مالیات مستقیم پرداختی

$$= ۴۸ + ۲۴۰ = ۲۸۸ \text{ میلیون تومان}$$

عوارض خودرو + تعرفه‌های گمرکی = مجموع میزان مالیات غیرمستقیم پرداختی (ب)

$$+ \text{میلیون تومان } ۲۳۰ = ۱۵ + ۳۵ + ۱۸۰ = \text{مالیات بر شکر (مالیات بر مصرف)}$$

گزینه ۲ پاسخ صحیح است. برای مقابله با تورم، سیاست پولی انقباضی مناسب است. / برای مقابله با فقر، بهبود توزیع درآمد مناسب است. / برای مقابله با تحریم، تنوع شرکای تجاری مناسب است.

گزینه ۳ پاسخ صحیح است. در سطوح قیمت بالاتر از قیمت تعادلی، مصرف‌کنندگان به دلیل قیمت بالا، مایل به خرید تعداد واحد

کم‌تری از کالا هستند. در این حالت در بازار این کالا، مازاد عرضه یا کمبود تقاضا وجود دارد. زیرا گروهی از تولیدکنندگان برای محصولات خود خریدار پیدا نمی‌کنند. در این حالت به دلیل گران بودن کالا، تولیدکنندگان که به دنبال کسب سود بیش‌تری هستند، به تولید بیش‌تر می‌پردازند در حالی که مصرف‌کنندگان به خرید و مصرف این کالای گران تمایل نشان نمی‌دهند.

حال اگر دولت جهت بهبود عملکرد بازار از ابزار مالیات بخواهد استفاده کند، از مالیات غیرمستقیم (مالیات بر مصرف) و با هدف حمایت از مصرف‌کننده (به دلیل بالا بودن قیمت کالاها) استفاده خواهد کرد.

در نتیجه قیمت پایین خواهد آمد. در این حالت از یک سو، مصرف‌کنندگان با پایین آمدن قیمت، مقدار خرید خود را افزایش می‌دهند و از سوی دیگر، تولیدکنندگان از مقدار تولید خود می‌کاهند. این کاهش قیمت تا رسیدن به سطح قیمت تعادلی و از بین رفتن فاصله بین عرضه و تقاضا ادامه می‌یابد.

گزینه ۱ پاسخ صحیح است. بررسی سایر گزینه‌ها:

گزینه ۲: نادرست است؛ در بازار عوامل تولید داریم:

- تبادل عوامل تولید (زمین، نیروی کار، سرمایه و کارآفرینی) در بازار عوامل تولید را نشان می‌دهد.

- در بازار عوامل تولید، خانوارها فروشنده و بنگاه‌ها خریدار هستند.

- پولی که بنگاه‌ها بابت خرید عوامل تولید می‌پردازند، با عبور از بازار عوامل تولید، به عنوان درآمد خانوارها دریافت می‌شود. درآمد خانوارها در بازار عوامل تولید: پرداخت‌هایی که بابت خرید منابع تولید به خانوارها پرداخت می‌شود.

گزینه ۳: نادرست است؛ بازار معنای خاصی در اقتصاد دارد. بازار به مجموعه خریداران و فروشندگان چیزی در هر جای ممکن اطلاق می‌شود.

گزینه ۴: نادرست است؛ مبادلات در بازار ممکن است حضوری و حقیقی نباشد و به صورت مجازی در اینترنت صورت گیرد.



گزینه ۴ پاسخ صحیح است. ویژگی‌های مشترک کارآفرینان موفق:

نوآور	ایده‌ها را به محصولات جدید، فرایندها و یا کسب‌وکارهای جدید تبدیل می‌کنند.
خوش‌بین	کارآفرینان واقع‌بین هستند اما مطمئن و دلگرم به موفقیت اقتصادی هستند.
یادگیرنده	از کارشناسان، همکاران و مشتریان می‌آموزند و خود را با شرایط بازار وفق می‌دهند.
پرانگیزه	نظم، انضباط، پایداری، اشتیاق و توانایی حل مسئله را دارند.

گزینه ۱ پاسخ صحیح است.

میلیون ریال ۳۰ = اجاره سالانه کارگاه

میلیون ریال ۳۰۰ = ۱۰×۳۰ = اجاره سالانه کارگاه ۱۰×۱۰ = هزینه خرید ماشین‌آلات

میلیون ریال ۶۰ = ۲×۳۰ = اجاره سالانه کارگاه ۲×۱۰ = هزینه خرید ماده اولیه

میلیون ریال ۱۵۰ = هزینه پرداخت حقوق سالانه

میلیون ریال ۶۰۰ = ۱۰×۶۰ = هزینه خرید ماده اولیه ۱۰×۱۰ = درآمد حاصل از فروش محصولات

میلیون ریال ۵۴۰ = $۳۰ + ۳۰۰ + ۶۰ + ۱۵۰$ = مجموع هزینه‌های تولید کارگاه

چون میزان درآمد از هزینه‌ها بیش‌تر است، تولیدکننده از فعالیت خود سود برده است.

میلیون ریال ۶۰ = $۶۰۰ - ۵۴۰$ = هزینه‌های تولید - درآمد = سود

توجه: خرید ماشین‌فرزند مدیر کارخانه جزو هزینه‌های تولید کارگاه تولیدی نیست.

گزینه ۳ پاسخ صحیح است. به طور کلی بهتر است یک شرکت، به جای تولید در درون مرز امکانات تولید، بر روی مرز امکانات تولید

کند و هر نقطه روی منحنی مرز امکانات تولید نشان می‌دهد که منابع کمیاب بین تولید دو کالای موردنظر تقسیم شده است.



مثال	اشتباهات رایج در تصمیم‌گیری (عوامل رفتارهای غیرمنطقی)
- ترجیح دادن کالایی ۱۶۰ هزار تومانی که ۵۰ درصد تخفیف دارد بر کالایی با قیمت ۸۰ هزار تومان - خرید صرفاً به دلیل حراج یا فروش ویژه (مرتضی پیراهن ۴۵۰ هزار تومانی که ۵۰ درصد تخفیف دارد را بر پیراهن ۱۶۵ هزار تومانی ترجیح می‌دهد.)	اثرگذاری حقه‌های فروش بر تصمیم‌گیری‌ها
- سراغ کارهای کم‌ارزش آنی رفتن، به جای صبر در تحصیل، یادگیری و بهره‌مندی از منافع آتی - برای تأمین هزینه‌های مصرف فعلی، زیر بار سنگین انواع بدهی‌ها رفتن (زیبا به جشن تولد دوستش دعوت شده است، همچنین برای کاهش زن و بیماری دیابت خود تحت رژیم غذایی خاصی است اما مقداری از کیک تولد را می‌خورد.)	بی‌صبری زیاد
- خوش‌بینی زیاد درباره درآمد آینده و پس‌انداز کمتر برای نیازهای آتی - سرمایه‌گذاری در زمینه‌های پرخطر، بدون آمادگی لازم (پدر مریم اخیراً علی‌رغم نبود مشتری کافی برای میوه آناناس تصمیم گرفته است زمین بیشتری به این محصول اختصاص دهد.)	اعتماد به نفس بیش از حد یا خودرأی بودن

گروه کشورها	متوسط درصد نرخ باسوادی بزرگسالان (به طور متوسط)	متوسط نرخ مرگ‌ومیر نوزادان (در هر ۱۰۰۰ نفر)	متوسط امید به زندگی در آغاز تولد
۴۳ کشور با توسعه‌ی انسانی ضعیف	۵۷/۱	۸۹/۴	۶۰/۵ سال
۴۹ کشور با توسعه‌ی انسانی زیاد	نزدیک به ۱۰۰٪	۶	۸۰/۵ سال

درآمد سرانه‌ی سالانه در بیش از ۵۰ کشور در حال توسعه‌ی فقیر از ۱۶۰۰ دلار کمتر است در حالی که هیچ‌یک از ۲۰ کشور توسعه‌یافته‌ی دنیا درآمد سرانه‌ی سالانه کم‌تر از ۴۰,۰۰۰ دلار در سال ندارند. در سال ۲۰۱۵ میلادی تولید ناخالص داخلی سرانه در کشور سوئیس بیش از ۸۰۶۷۵ دلار و در سودان حدود ۲۲۱ دلار بوده است.



گزینه ۳ پاسخ صحیح است. با توجه به عبارت نسبت به مازاد، نرخ مالیاتی مورد محاسبه تصاعدی طبقه‌ای است، در این نرخ مالیاتی با جزئی افزایش یا کاهش درآمد مالیات فرد به شدت تغییر نمی‌کند.

$$(250 - 150) \times \frac{15}{100} = 15 \text{ میلیون ریال}$$

$$(350 - 250) \times \frac{20}{100} = 20 \text{ میلیون ریال}$$

$$(450 - 350) \times \frac{25}{100} = 25 \text{ میلیون ریال}$$

$$(900 - 450) \times \frac{35}{100} = 157.5 \text{ میلیون ریال}$$

$$(15,000 - 900) \times \frac{45}{100} = 6,345 \text{ میلیون ریال}$$

میلیون ریال $15 + 20 + 25 + 157.5 + 6,345 = 6562.5$

میلیون ریال $6562.5 \times 12 = 78,750$

ریال $15,000,000,000 - 6,562,500,000 = 8,437,500,000$ مانده خالص ماهانه

گزینه ۱ پاسخ صحیح است.

(الف) کاهش قدرت خرید پول در جامعه نتیجه‌ی وجود تورم در آن جامعه است.

(ب) پول در مقابل «سطح عمومی قیمت‌ها» ارزش خود را حفظ نکرده است.

(ج) یکی از دلایل کاهش قدرت خرید پول، حجم زیاد پول نسبت به تولید در یک جامعه است.

(د) رابطه‌ی قدرت خرید پول با «سطح عمومی قیمت‌ها» یک رابطه‌ی معکوس است. هر چه سطح عمومی قیمت‌ها افزایش یابد، قدرت

خرید پول کاهش می‌یابد و برعکس، با پایین رفتن سطح عمومی قیمت‌ها، قدرت خرید پول افزایش می‌یابد.

(ه) چون یک واحد پول نتوانسته است در طول زمان ارزش خود را حفظ کند، می‌گوییم قدرت خرید آن دستخوش تغییر است.

(و) قدرت خرید پول به «سطح عمومی قیمت‌ها» در جامعه بستگی دارد.

گزینه ۴ پاسخ صحیح است.

(الف) به طور کلی سیاست‌های تثبیت اقتصادی به دو دسته سیاست‌های پولی و سیاست‌های مالی تقسیم می‌شود.

(ب) دولت‌ها برای مدیریت کلان کشور، علاوه بر سیاست‌های پولی، از ابزارها و سیاست‌های مالی استفاده می‌کنند.

(ج) برای تداوم پیشرفت اقتصادی، علاوه بر ارتقای توان تولید (به عنوان عنصر اساسی پیشرفت)، مقاوم‌سازی اقتصاد و آسیب‌ناپذیری

اقتصاد از فشارها و تکانه‌های مختلف الزامی است. اقتصاددانان با اصلاحاتی مانند ثبات اقتصادی، استحکام اقتصادی، ضدشکنندگی،

تاب‌آوری اقتصاد و پایداری مسئله‌ی مقاوم‌سازی اقتصاد را پیگیری و اجرا می‌کنند.

(د) نفت خام، ثروت عمومی است و همان‌طور که فروش فرس و اثاث خانه، نباید، برای خانوار درآمد به شمار رود، منابع حاصل از

صادرات و فروش نفت نیز درآمد محسوب نمی‌شود.

گزینه ۱ پاسخ صحیح است.

(الف) در سطح قیمت ۲۵۰ ریال که به ازای آن مقدار عرضه و تقاضا با هم برابرند، بازار به تعادل می‌رسد و در آن کمبود یا مازاد مشاهده

نمی‌شود. بنابراین در ردیف ۴ برابری میان عرضه و تقاضا را داریم که به آن «قیمت و مقدار تعادلی» می‌گویند.

(ب) در سطح قیمت‌های پایین‌تر از ۲۵۰ ریال (ردیف‌های ۱، ۲ و ۳) در بازار با «کمبود عرضه» روبه‌رو می‌شویم.

(ج) در سطح قیمت‌های بالاتر از ۲۵۰ ریال (ردیف‌های ۵، ۶ و ۷) در بازار با «مازاد عرضه» روبه‌رو می‌شویم.



الف) بانک‌های مسکن یا کشاورزی بانک‌های تخصصی هستند که در ایران بیش‌تر نقش بانک تجاری را ایفا می‌کنند.
 ب) حیات: برداشت مستقیم محصول آماده‌ی طبیعت و مالکیت آن (بدون این‌که کاری روی آن انجام شود). مثال: بهره‌برداری از علف مراتع، چوب جنگل‌ها، معادن و یا ماهی دریاها
 ج) برخی کشورها و سازمان‌های بین‌المللی از معیارها و شاخص‌های توسعه برای تحمیل الگوهای غربی سوءاستفاده می‌کنند، به طوری که گاهی توسعه‌یافتگی معادل غربی شدن تلقی شده است. از سوی دیگر الگوهای توسعه به طور معمول به تفاوت‌های بومی و محلی کشورها و هم‌چنین به تاریخ، فرهنگ، باورها و ارزش‌های اجتماعی آن‌ها توجه لازم را ندارد.
 د) درآمدها گاهی قابل ثبت نیست، به همین دلیل اقتصاددانان برای به دست آوردن شکاف درآمدی، شکاف هزینه‌ای را محاسبه می‌کنند. در این حالت هزینه‌ی خانوار نماینده‌ای از درآمد آن است.

ارزش محصول در مرحله‌ی قبل - ارزش محصول در مرحله = ارزش افزوده محصول در هر مرحله

ریال $1000 = 6500 - 7500 =$ ارزش افزوده‌ی مرحله‌ی دوم

ارزش مرحله در مرحله‌ی سوم - ارزش محصول در مرحله‌ی چهارم = ارزش افزوده‌ی مرحله‌ی چهارم

ریال $800 = 1100 - 1900 =$ ارزش افزوده‌ی مرحله‌ی چهارم

ب) روش‌های محاسبه‌ی تولید کل جامعه:

- ۱- روش هزینه‌ای: جمع ارزش پولی تولیدات نهایی که به خانوارها فروخته می‌شود. (چه به دست فروشنده نگاه کنیم و چه به دست مصرف‌کننده) در این روش ارزش پولی تولیدات نهایی را محاسبه می‌کنیم و بدیهی است که همه‌ی تولیدات واسطه‌ای و مواد اولیه در محاسبه‌ی کالاها و خدمات نهایی خودبه‌خود اندازه‌گیری شده است و نیازی به محاسبه‌ی مجدد آن‌ها نداریم.
 - ۲- روش درآمدی: حاصل جمع درآمد تقسیم شده بین عوامل تولید (به صورت مزد، سود و اجاره) حاصل جمع درآمد همه‌ی بازیگران و فعالان اقتصادی داخلی یا ملی
 - ۳- روش ارزش افزوده: مجموع ارزش‌های اضافه شده در هر مرحله‌ی تولیدی
- ج) اقتصاددانان برای جلوگیری از اشتباه، حداقل دو روش را برای محاسبه به کار می‌گیرند و جواب‌ها را مقایسه می‌کنند.

الف) در سطوح قیمت بالاتر از قیمت تعادلی، (ناحیه‌ی ۱) مصرف‌کنندگان به دلیل قیمت بالا، مایل به خرید تعداد واحد کم‌تری از کالا هستند. در این حالت در بازار این کالا، مازاد عرضه یا کمبود تقاضا وجود دارد. زیرا گروهی از تولیدکنندگان برای محصولات خود خریدار پیدا نمی‌کنند.

ب) نقطه‌ی برخورد دو منحنی عرضه و تقاضا، نقطه‌ی تعادل در بازار را نشان می‌دهد که قیمت متناظر با آن، قیمت تعادلی و مقدار متناظر با آن را مقدار تعادلی در بازار می‌گویند. نقطه‌ی برخورد دو منحنی عرضه و تقاضا، نقطه‌ی تعادل در بازار را نشان می‌دهد که قیمت متناظر با آن، قیمت تعادلی و مقدار متناظر با آن را مقدار تعادلی در بازار می‌گویند. نقطه‌ی C نقطه‌ی تعادلی است:

مقدار تعادلی = ۶۰۰ کیلو (مقدار عرضه = مقدار تقاضا)

قیمت تعادلی = ۲۵۰ ریال (قیمت ارائه شده از سوی عرضه‌کنندگان = قیمت ارائه شده از سوی تقاضاکنندگان)

ج) در سطوح قیمت پایین‌تر از قیمت تعادلی، (ناحیه‌ی ۳) مصرف‌کنندگان به دلیل ارزان بودن کالا، مایل به خرید تعداد واحد بیش‌تری از کالا هستند. در این حالت در بازار این کالا، کمبود عرضه یا مازاد تقاضا وجود دارد. زیرا به دلیل ارزان بودن کالا، تقاضا برای آن زیاد است. در حالی که تولیدکنندگان برای تولید آن کالا به آن مقدار، انگیزه‌ی کافی ندارند؛ در نتیجه تولید و عرضه‌ی آن کم می‌شود.

د) منحنی تقاضا M نزولی و منحنی عرضه N صعودی است.

ه) در سطح قیمت ۱۰۰ ریال (به دلیل ارزان بودن کالا و به صرفه نبودن تولید برای تولیدکنندگان) میزان عرضه‌ی کالا صفر است. هم‌چنین در سطح قیمت ۴۰۰ ریال به دلیل گران بودن کالا میزان تقاضای کالا صفر است.



الف) زنجیره‌ی خلق ارزش به تمامی مراحل ایجاد ارزش افزوده می‌گویند.

ب) محصولات راهبردی: کالاها و خدماتی را که تولید آن‌ها بدون توجه به میزان سود، هزینه و بازار و ... انجام می‌شود.

ج) در حسابداری ملی فقط آن دسته از فعالیت‌های تولیدی (اعم از تولید کالاها یا خدمات) در محاسبه و سنجش منظور می‌شود که دارای شروط زیر باشند:

۱) از بازار عبور کند: یعنی تولیدکننده در مقابل دریافت پول، آن کالا یا خدمت را به مصرف‌کننده تحویل دهد.

- فعالیت تولیدی زنان در مزرعه‌ها (فعالیت تولیدی زنان در خانه و تولید کالاها و خدماتی به صورت غذا، بهداشت و تربیت فرزندان و یا کاشت سبزیجات در منزل برای مصرف خانگی در حسابداری ملی منظور نمی‌شود).

۲) فعالیت‌هایی که به تولید کالا یا خدمات نهایی منتهی شود.

۳) قانون و مجاز باشند.

ارزش ماشین‌آلات + ارزش موادغذایی + ارزش پوشاک = تولید ناخالص داخلی

تولید خارجیان مقیم کشور + ارزش خدمات ارائه شده +

میلیارد ریال $222 = 145 + 44 + 33$ = تولید ناخالص داخلی

میلیارد ریال $11 = \frac{1}{4} \times 44 =$ (ارزش خدمات ارائه شده) $\times \frac{1}{4}$ = هزینه استهلاک

(ارزش تولید خارجیان مقیم کشور) $\times \frac{1}{3} =$ ارزش تولید مردم کشور که در خارج اقامت دارند

میلیارد ریال $11 = \frac{1}{3} \times 33 =$

تولید مردم کشور که در خارج اقامت دارند + هزینه‌ی استهلاک - تولید ناخالص داخل = تولید خالص ملی

میلیارد ریال $189 = 222 - 11 + 11 - 33 =$ تولید خالص ملی \Rightarrow تولید خارجیان مقیم کشور -

هزینه استهلاک - تولید ناخالص داخلی = تولید خالص داخلی

میلیارد ریال $211 = 222 - 11 =$ تولید خالص داخلی \Rightarrow

هزار ریال $\frac{211}{25} = \frac{8}{44} =$ $\frac{211}{25}$ = تولید خالص داخلی سرانه
جمعیت کشور



الف) در مقدمه‌ی قانون اساسی آمده است:

«در تحکیم بنیان‌های اقتصادی، اصل، رفع نیازهای انسان در جریان رشد و تکامل اوست، نه هم‌چون دیگر نظام‌های اقتصادی تمرکز و تکاثر ثروت و سودجویی، زیرا که در مکاتب مادی، اقتصاد خود هدف است و بدین جهت در مراحل رشد، اقتصاد عامل تخریب و فساد و تباهی می‌شود ولی در اسلام، اقتصاد وسیله است و از وسیله انتظاری جز کارایی بهتر در راه وصول به هدف نمی‌توان داشت.»

ب) بانک توسعه اسلامی مستقر در جده (وابسته به سازمان کنفرانس اسلامی)، نیز بانک توسعه‌ای است.

ج) مبادلات بین‌المللی در بازارهای کار و سرمایه:

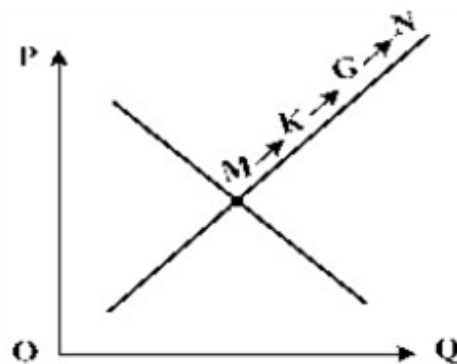
- روابط اقتصادی در فضای بین‌المللی تنها به مبادله‌ی کالاها و خدمات محدود نمی‌شود بلکه به حرکت نیروی کار و سرمایه از نقطه‌ای به نقطه‌ی دیگر که شرایط بهتری دارد، گسترش می‌یابد.

- هر کشوری به دنبال جذب سرمایه‌گذاری‌های خارجی برای کشور خود است تا علاوه بر پس‌اندازهای داخلی خود، پس‌اندازهای کشورهای دیگر را نیز در رشد و افزایش کارخانه‌ها و بخش‌های تولیدی داخلی به کار گیرد.

د) علاوه بر خرید حضوری، اشخاص می‌توانند از طریق اینترنت نیز به خرید اقدام کنند و پس از عملیات، نمونه‌ی چاپی آن‌را به عنوان رسید دریافت نمایند.

گزینه ۳ پاسخ صحیح است.

نقاط بر روی خط صعودی قرار دارند، بنابراین این خط بیان‌گر منحنی عرضه است. (در منحنی عرضه با افزایش قیمت، مقدار عرضه‌ی کالا افزایش خواهد یافت و در مقابل با کاهش قیمت، عرضه‌ی آن نیز کاهش می‌یابد). بنابراین علت حرکت از نقطه‌ی M به نقطه‌ی N قیمت بالاتر و عرضه‌ی بیش‌تر است.



گزینه ۱ پاسخ صحیح است.

$$\text{میلیارد ریال } 6 = \frac{72}{12} = \text{هزینه‌ی استهلاک سالانه}$$

$$\text{میلیارد ریال } \frac{3}{6} = 72 \times \frac{5}{100} = \text{میزان کاهش بها}$$

$$\text{میلیون ریال } 48,400,000 = 68,400,000 = \text{میلیارد ریال } \frac{68}{4} = 72 - \frac{3}{6} = \text{بهای جدید کالا}$$

$$\text{میلیارد ریال } \frac{5}{7} = \frac{68/4}{12} = \text{هزینه‌ی استهلاک سالانه‌ی جدید}$$

$$\text{میلیارد ریال } \frac{17}{1} = 5/7 \times 3 = \text{مجموع هزینه‌ی استهلاک سه سال آخر کالا با احتساب قیمت جدید}$$

$$= 17,100 \text{ میلیون ریال}$$



الف) کالای سرمایه‌ای: به کالاهای بادوامی که در فرایند تولید از سوی نیروی انسانی به کار گرفته می‌شود، کالای سرمایه‌ای گویند. یخچال در منزل کالای بادوام مصرفی و یخچال در مغازه‌ی بستنی‌فروشی کالای سرمایه‌ای است. تراکتور، ماشین‌آلات کارخانه‌ها و ابزار تولیدی، مثال‌های دیگر کالای سرمایه‌ای است.

ب) انسان در بهره‌برداری از منابع و امکانات موجود محدودیت دارد و منابع و امکانات محدود نیز محدود است (کمیابی).

ج) نمونه کالاهای ضروری: خوراک، پوشاک، مسکن، نمک، دارو

نمونه کالاهای سرمایه‌ای: یخچال در مغازه‌ی بستنی‌فروشی، تراکتور و ماشین‌آلات کارخانه‌ها و ابزار تولیدی

نمونه کالاهای لوکس و تجملی: نورافشان، فرش‌های گران قیمت



پاسخنامه کلیدی

۱	۱	۲	۳	۴
۲	۱	۲	۳	۴
۳	۱	۲	۳	۴
۴	۱	۲	۳	۴
۵	۱	۲	۳	۴
۶	۱	۲	۳	۴
۷	۱	۲	۳	۴
۸	۱	۲	۳	۴
۹	۱	۲	۳	۴
۱۰	۱	۲	۳	۴
۱۱	۱	۲	۳	۴
۱۲	۱	۲	۳	۴
۱۳	۱	۲	۳	۴
۱۴	۱	۲	۳	۴
۱۵	۱	۲	۳	۴
۱۶	۱	۲	۳	۴
۱۷	۱	۲	۳	۴
۱۸	۱	۲	۳	۴
۱۹	۱	۲	۳	۴
۲۰	۱	۲	۳	۴
۲۱	۱	۲	۳	۴
۲۲	۱	۲	۳	۴
۲۳	۱	۲	۳	۴
۲۴	۱	۲	۳	۴
۲۵	۱	۲	۳	۴
۲۶	۱	۲	۳	۴
۲۷	۱	۲	۳	۴
۲۸	۱	۲	۳	۴
۲۹	۱	۲	۳	۴
۳۰	۱	۲	۳	۴
۳۱	۱	۲	۳	۴
۳۲	۱	۲	۳	۴

۳۳	۱	۲	۳	۴
۳۴	۱	۲	۳	۴
۳۵	۱	۲	۳	۴
۳۶	۱	۲	۳	۴
۳۷	۱	۲	۳	۴
۳۸	۱	۲	۳	۴
۳۹	۱	۲	۳	۴
۴۰	۱	۲	۳	۴
۴۱	۱	۲	۳	۴
۴۲	۱	۲	۳	۴
۴۳	۱	۲	۳	۴
۴۴	۱	۲	۳	۴