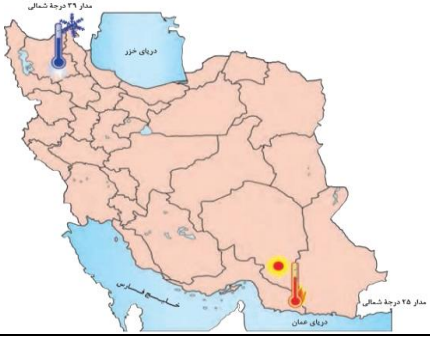
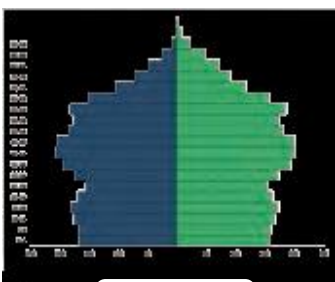
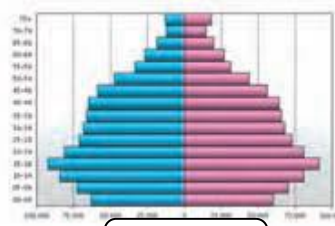


نام و نام خانوادگی :		 وزارت آموزش پرورش اداره کل آموزش و پرورش استان کردستان آموزش و پرورش منطقه سریش آباد آموزشگاه : دخترانه قصلان	سال تحصیلی : ۹۶-۹۷	نام دبیر : الهه قبادی
نام پدر :			تاریخ امتحان : ۹۷/۳/	زمان امتحان : ۶۰ دقیقه
پایه : دهم	رشته : انسانی		تعداد سوال : ۳۴	نوبت : دوم
نام درس : جغرافیا عمومی و استان شناسی			ساعت شروع : ۸ صبح	جمع بارم : ۲۰ نمره
ردیف	کل سوالات در ۳ صفحه تایپ شده است. نیاز به پاسخ نامه دارد.		بارم	

	بخش اختیاری : دانش آموزان عزیز لطفا در این بخش فقط یکی از مجموعه سوالات الف یا ب را انتخاب کنید و پاسخ دهید.		
۱	مجموعه سوالات الف (دروس اول تا چهارم)	محل دقیق هر پدیده یا مکان، با توجه به طول و عرض جغرافیایی، موقعیت نسبی آن محل است. صحیح <input type="checkbox"/> غلط <input type="checkbox"/>	۰/۲۵
۲	واژه جغرافیا اولین بار توسط دانشمند یونانی، ارائه شد.		۰/۲۵
۳	گزینه های سمت راست را به سمت چپ متصل کنید. (یک گزینه اضافی است)	۱- در هر پژوهش، نقش راهنما را دارد و به فعالیت‌هایی جهت می دهد. ۲- برای پاسخگویی به سوالات خود از روش کتابخانه و میدانی استفاده می کند. ۳- حذف اطلاعات غیرضروری و حفظ اطلاعات مرتبط با پژوهش را انجام می دهد. ۴- پژوهشگر با تجزیه و تحلیل اطلاعات، پاسخ مسئله پژوهش را می یابد.	الف) نتیجه گیری و ارائه پیشنهادها ب) طرح سؤال و بیان مسئله ج) تدوین فرضیه د) جمع آوری اطلاعات پ) پردازش اطلاعات
۴	کدامیک از سوالات کلیدی در جغرافیا «سیر تکوین و تحول پدیده» را بررسی می کند؟	الف) چرا <input type="checkbox"/> ب) چطور <input type="checkbox"/> ج) کجا <input type="checkbox"/> د) چه کسی <input type="checkbox"/>	۰/۲۵
۵	با توجه به نقشه مقابل موقعیت رشته کوه البرز را بیان کنید.		
۶	گزینه مناسب را مشخص کنید.	الف) شکل امروزی ناهمواریهای ایران مربوط به دوره (کواترنر - سنوزویک) است. ب) جلگه ها بهترین مکانهای (کشاورزی - صیدماهی) در کشورمان است.	۰/۵
۷	در ایجاد و گسترش کدام عامل طبیعی تغییر دهنده زاگرس در حال حاضر هم طبیعت و هم انسان مؤثر است؟	الف) طغیان رودها <input type="checkbox"/> ب) گسترش شهرها <input type="checkbox"/> ج) توفان های گرد و غبار <input type="checkbox"/> د) ایجاد سدها <input type="checkbox"/>	۰/۲۵
۸	علت تشکیل گل فشان ها چیست ؟		۰/۵
۹	تنگه هرمز کدام آب ها را به هم متصل می کند ؟		۱
مجموعه سوالات ب (دروس پنجم و ششم)			
۱	به مکان هایی در مناطق کوهستانی که آب بخش هایی از رودها را تأمین می کنند، حوزه آبریز گفته می شود. صحیح <input type="checkbox"/> غلط <input type="checkbox"/>		۰/۲۵
۲	محدوده جغرافیایی بحرانی پدیده ریز گردها شامل کدام یک از کشورهای زیر نمی شود ؟	الف) ایران <input type="checkbox"/> ب) عراق <input type="checkbox"/> ج) قزاقستان <input type="checkbox"/> د) ترکیه <input type="checkbox"/>	۰/۲۵

۰/۲۵	۳	تنها دریای آزاد ایران، که از طریق آن می توان به آب های همه دریاهای جهان دسترسی داشت، است.										
۱/۵	۴	با توجه به نقشه زیر شرح دهید که چرا بندر جاسک گرم تر از شهر ماکو است ؟ 										
۰/۵	۵	نام های دیگر دریاچه ارومیه را بنویسید .										
۱	۶	جدول زیر را کامل کنید . <table border="1" data-bbox="183 750 1460 862"> <thead> <tr> <th>نام توده هوا</th> <th>جهت نفوذ به کشور</th> <th>زمان ورود به کشور</th> <th>منشأ</th> <th>اثر آب و هوایی</th> </tr> </thead> <tbody> <tr> <td>.....</td> <td>شمال غرب ایران</td> <td>.....</td> <td>اقیانوس اطلس و</td> <td>.....</td> </tr> </tbody> </table>	نام توده هوا	جهت نفوذ به کشور	زمان ورود به کشور	منشأ	اثر آب و هوایی	شمال غرب ایران	اقیانوس اطلس و
نام توده هوا	جهت نفوذ به کشور	زمان ورود به کشور	منشأ	اثر آب و هوایی								
.....	شمال غرب ایران	اقیانوس اطلس و								
۰/۲۵	۷	به دریاچه های قله سبلان و دماوند دریاچه می گویند.										
۱	۸	کانون آبگیر دائمی چه ویژگی های دارد؟ دانش آموزان گرامی پاسخ دادن به تمام سوالات این بسته اجباری است. (دروس ۱۰-۷)										
۰/۵	۱	جملات صحیح و غلط را مشخص کنید . الف (سابقه تقسیمات کشوری در ایران به زمان داریوش اول، پادشاه هخامنشی برمی گردد. ب (استان تهران بیشترین شاغلان بخش معدن کشور را دارند.										
۰/۵	۲	جاهای خالی را با کلمات مناسب کامل کن. الف (مهاجرت از عوامل مهم در جمعیت به شمار می رود. ب (بزرگ ترین بخش صنعتی بعد از نفت و گاز، کشور به شمار می رود.										
۰/۵	۳	گزینه درست را با علامت (×) مشخص کنید . ۱- کدام عامل زیر از عوامل انسانی اثرگذار بر پراکندگی جمعیت نمی باشد؟ الف) پیشینه و سابقه تاریخی <input type="checkbox"/> ب) سرمایه و فناوری <input type="checkbox"/> ج) منابع نفتی و معدنی <input type="checkbox"/> د) حمل و نقل و ارتباطات <input type="checkbox"/> ۲- تقسیمات ایران به سرزمین (ایالت)، حوزه (استان)، قسوق (شهرستان) و رستاک (دهستان) مربوط به چه دوره ی است ؟ الف (ماد) <input type="checkbox"/> ب (هخامنشیان) <input type="checkbox"/> ج (اشکانیان) <input type="checkbox"/> د (ساسانیان) <input type="checkbox"/>										
۱	۴	گزینه های سمت راست را به سمت چپ متصل کنید. (یک گزینه اضافی است) ۱- از به هم پیوستن چند شهرستان هم جوار تشکیل می شود. ۲- از به هم پیوستن چند بخش هم جوار تشکیل می شود. ۳- از به هم پیوستن چند دهستان هم جوار تشکیل می شود. ۴- از به هم پیوستن چند روستا هم جوار تشکیل می شود. الف (پایتخت ب (دهستان ج (استان د) شهرستان پ (بخش										
۱	۵	کوتاه پاسخ دهید . الف (نام دیگر پدیده شهرگریزی را بنویسید . ب (مهم ترین اقلام صادراتی کشور در بخش کشاورزی مربوط به کدام فعالیت است؟										

۰/۷۵	عوامل مهم در شکل گیری و تغییر سکونتگاه ها را نام ببرید .	۶												
۰/۷۵	تفاوت این دو نوع سکونتگاه را با توجه به اطلاعات داده شده، در جدول زیر بنویسید.	۷												
	<table border="1"> <thead> <tr> <th>نوع زندگی</th> <th>جمعیت</th> <th>معیشت</th> </tr> </thead> <tbody> <tr> <td>شهری</td> <td>.....</td> <td>خدمات و صنعت</td> </tr> <tr> <td>روستایی</td> <td>کم</td> <td>.....</td> </tr> <tr> <td>عشایری</td> <td>.....</td> <td>دامداری</td> </tr> </tbody> </table>	نوع زندگی	جمعیت	معیشت	شهری	خدمات و صنعت	روستایی	کم	عشایری	دامداری	
نوع زندگی	جمعیت	معیشت												
شهری	خدمات و صنعت												
روستایی	کم												
عشایری	دامداری												
۱	اگر میزان مولید ایران در سال ۱۳۹۵ بیش از ۲۰۰۰۰۰۰۰ نفر و مرگ و میر آن ۴۲۰۱۰۰ نفر باشد ، میزان رشد طبیعی ایران چند درصد است؟ (میزان کل جمعیت ۸۰۰۰۰۰۰۰ نفر فرض شود)	۸												
۱	با کمک هرم های سنی زیر، به سؤالات پاسخ دهید.	۹												
	  <div style="display: flex; justify-content: space-around; margin-top: 10px;"> <div style="border: 1px solid black; border-radius: 10px; padding: 5px; text-align: center;">دانمارک</div> <div style="border: 1px solid black; border-radius: 10px; padding: 5px; text-align: center;">اندونزی</div> </div> <div style="border: 1px solid black; border-radius: 15px; padding: 10px; margin-top: 10px; width: fit-content; margin-left: auto; margin-right: auto;"> <p>الف (میزان رشد مولید در کدام کشور بیشتر است؟</p> <p>ب) کدام کشور ، افراد سالمند بیشتری دارد ؟</p> </div>													
۱	کدام عوامل موجب افزایش جمعیت شهر نشینی در کشور شده است ؟	۱۰												
۱	چرا ایران یکی از قدرت های برتر معدنی جهان است ؟	۱۱												
۱	در چه صورتی همه مناطق کشور متناسب با امکان های طبیعی و انسانی خود توسعه می یابند ؟	۱۲												
	جغرافیای استان کردستان													
۱	جاهای خالی را با کلمات مناسب تکمیل کنید . الف) زبان مردم کردستان ، کردی و یکی از شاخه های زبان است . ب) رسیدن به مراحل بالای رشد و توسعه بدون تخریب محیط زیست را می نامند .	۱												
۱	الف) در دوره ی پهلوی اول که کشور به ۱۰ استان تقسیم شد ، استان کردستان جزئی از استان محسوب می شد . <input type="checkbox"/> ۱- چهارم <input type="checkbox"/> ۲- پنجم <input type="checkbox"/> ۳- ششم <input type="checkbox"/> ۴- هفتم ب) گردشگری از بعد برای استان بسیار سودمند است . <input type="checkbox"/> ۱- تجاری <input type="checkbox"/> ۲- اجتماعی <input type="checkbox"/> ۳- سیاسی <input type="checkbox"/> ۴- اقتصادی	۲												
۱	مهم ترین جاذبه های طبیعی گردشگری استان کردستان را نام ببرید . (۴ مورد)	۳												
۱	منظور از فعالیت های عمرانی شهر یا روستا چیست ؟	۴												
۱	چه عواملی شرایط مناسبی را برای گسترش حمل و نقل و استفاده از آن به عنوان یکی از مزیت های استان کردستان فراهم آورده است ؟	۵												
۲۰	موفق باشید													

بسمه تعالی

اداره آموزش و پرورش منطقه سریش آباد

درس : جغرافیا پایه : هم سال : ۹۶-۹۷ نوبت : دوم متوسطه دوم : قصلان

۱	غلط است ۰/۲۵	۲- اراتوستن ۰/۲۵
۳	۱- تدوین فرضیه ۲- جمع آوری اطلاعات ۳- پردازش اطلاعات ۴- نتیجه گیری و ارائه پیشنهادها هر مورد ۰/۲۵ جمعا ۱نمره	
۴	گزینه ۲ چطور ۰/۲۵	
۵	کوه های البرز از تنگه منجیل شروع شده و در امتداد غربی شرقی تا کوه های شاه کوه در نزدیکی شاهرود و تنگه خوش بیلاق ادامه دارند.	
۶	الف : سنوزویک (۰/۲۵) ب : کشاورزی (۰/۲۵) جمعا ۰/۵ نمره	
۷	ج) توفان های گرد و غبار (۰/۲۵)	
۸	علت تشکیل این چشمه های جوشان ، فعالیت های زمین ساختی است . (۰/۵)	
۹	تنگه هرمز، آبراهه هلالی شکلی است که آب های آزاد اقیانوس هند و دریای عمان را به خلیج فارس متصل می کند.	
۱	غلط است . ۰/۲۵	۲- ۳- دریای عمان ۰/۲۵
۴	در مناطق جنوبی کشور، که در عرض های کم جغرافیایی قرار دارند(به خط استوا نزدیک ترند)،(۰/۲۵) زاویه تابش خورشید هنگام ظهر، نزدیک به عمود است ومقدار تابش خورشید بیشتر (۰/۲۵) و هوا گرم تر است . (۰/۲۵) ولی در مناطق شمالی کشور که در عرض های بالای جغرافیایی قرار دارند(۰/۲۵) و زاویه تابش خورشید مایل تر است، (۰/۲۵) مقدار تابش کمتر و هوا سردتر است(۰/۲۵)	
۵	چیچست و کبودان(۰/۵)	
۶	نام توده هوا : مرطوب غربی جهت نفوذ به کشور : شمال غرب ایران زمان ورود به کشور : سرما منشا : دزیای مدیترانه و اقیانوس اطلس اثرات آب و هوایی : همراه آوردن برف و باران هر مورد ۰/۲۵ جمعا ۱نمره	
۷	آتشفشانی ۰/۲۵	
۸	کانون های آبیگری که بیش از 500 میلی متر بارش داشته باشند(۰/۵) و حداقل در هشت ماه از سال، این بارش ها اتفاق بیفتد، به آنها کانون های دائمی می گویند(۰/۵)	
۱	الف : ص : ب : غ : جمعا ۰/۵ نمره	۲- الف) تغییرات ب) صنایع پتروشیمی جمعا ۰/۵ نمره
۳	۱- ج) منابع نفتی و معدنی ۲- د) ساسانیان جمعا ۰/۵ نمره	
۴	۱- استان ۲- شهرستان ۳- بخش ۴- دهستان هر مورد ۰/۲۵ جمعا ۱نمره	
۵	الف : مهاجرت معکوس ۰/۵ نمره ب : باغداری ۰/۵ نمره	
۶	آب - خاک - شیب زمین ۰/۷۵	
۷	جمعیت شهری : زیاد معیشت روستایی : کشاورزی جمعیت عشایری : کم ۰/۷۵	
۸	$\text{نرخ رشد طبیعی} = \frac{200000 - 420100}{8000000} \times 100 = 1.974$	
۹	الف : در اندونزی زیرا پایه هرم بهن است (۰/۵) . ب : دردانمارک (۰/۵) جمعا ۱ نمره	
۱۰	۱- رشد سریع جمعیت و افزایش جمعیت شهرها ۲- تبدیل نقاط روستایی به شهر (تاسیس شهردار) و افزایش تعدلد نقاط شهری هر مورد ۰/۵ جمعا ۱نمره	

۱۱	ایران یکی از کهن ترین تمدن های جهانی در کشف معدن است و امروزه با وجود بیش از 70 نوع ماده معدنی، یکی از قدرت های برتر معدنی جهان است. جمعا ۱ نمره
۱۲	اگر در استفاده از منابع طبیعی، ویژگی ها و توان محیطی آن منطقه مورد بررسی قرار گیرد. جمعا ۱ نمره
۴	الف: مادی ب: توسعه پایدار
۲	الف: پنجم ب: بعد اقتصادی
۳	دریاچه های آب شیرین کوه ها و مسیرهای کوه نوردی مناطق سرسبز و پوشیده از جنگل آبشارها و رودخانه های خروشان شکار گاه ها و غارهای طبیعی ذکر چهار مورد کفایت. ۱ نمره
۴	انجام پروژه های مهمی مانند شبکه آبرسانی یا گاز رسانی که باعث پیشرفت و رونق بسیاری از شهر و روستاهای استان شود.
۵	استقرار بر محور شمال غربی - جنوب غربی کشور و هم مرزی با کشور عراق
	مصحح: الهه قبادی موفق باشید.