

فصل اول : مولکول های اطلاعاتی (ار نوت ردا ما ۲۵ نمر

سال طرح سوال	گفتار	متن سوال
*	*	درستی یا نادرستی هر یک از عبارات های زیر را بدون ذکر دلیل مشخص کنید.
دی ماه ۹۷	۱	الف. ویلکینز و فرانکلین با استفاده از پرتو ایکس ابعاد مولکول دنا را تشخیص دادند. <u>درست</u>
خرداد ماه ۹۸	۱	الف. مکمل بودن بازهای آلی نتایج آزمایش های چارگاف را تأیید می کند. <u>درست</u>
خرداد ماه ۹۸	۳	ب. نمونه ای از پروتئین ها با ساختار نهایی چهارم، میوگلوبین است. <u>نادرست</u>
شهریور ماه ۹۸	۱	الف. از نتایج آزمایش های گریفیت مشخص شد که ماده وراثتی می تواند از یاخته ای به یاخته دیگر منتقل شود. <u>درست</u>
خرداد ماه ۹۸ (خ)	۱	الف. دنوکسی ریبوز یک اکسیژن بیشتر از ریبوز دارد. <u>نادرست</u>
خرداد ماه ۹۸ (خ)	۱	ب. هر رشته دنا (DNA) و رنای (RNA) خطی همیشه دو سر متفاوت دارد. <u>درست</u>
خرداد ماه ۹۸ (خ)	۲	ج. در هر چرخه یاخته ای، یک بار همانندسازی و رونویسی انجام می شود. <u>نادرست</u>
شهریور ماه ۹۸ (خ)	۱	الف. در دنا (DNA) به جای تیمین، باز پوراسیل وجود دارد. <u>نادرست</u>
خرداد ماه ۹۹	۱	الف. در نوکلئیک اسیدهای خطی گروه فسفات در یک انتها و گروه هیدروکسیل در انتهای دیگر آزاد است. <u>درست</u>
خرداد ماه ۹۹	۳	ب. پروتئین ها از یک یا چند زنجیره بلند و انشعاب دار از پلی پپتیدها ساخته شده اند. <u>نادرست</u>
خرداد ماه ۹۹ (خ)	۱	الف. در زمان ایوری بسیاری از دانشمندان بر این باور بودند که پروتئین ها ماده وراثتی هستند. <u>درست</u>
خرداد ماه ۹۹ (خ)	۳	ب. هموگلوبین نمونه ای از پروتئین ها با ساختار نهایی سوم است. <u>نادرست</u>
شهریور ماه ۹۹	۱	الف. گریفیت عامل بیماری آنفولانز ر نوع باکتر بنا استرپتوکوکو نومونیه دانست <u>درست</u>
دی ماه ۹۹	۲	الف. در هر دو راهی همانندسازی، یک هلیکاز و یک دنابسپاراز DNA پلی مراز دیده می شود. <u>نادرست</u>
دی ماه ۹۹ (خ)	۱	الف. پیوندهای هیدروژنی بین بازها، دو رشته دنا را در مقابل هم نگه می دارد. <u>درست</u>
*	*	در هر یک از عبارات های زیر جای خالی را با کلمات مناسب پر کنید.
دی ماه ۹۷	۲	الف. آنزیم دنابسپاراز در فعالیت بسپارازی (پلیمرازی)..... پیوندد. <u>فسفودی استر</u> را تشکیل می دهد.
خرداد ماه ۹۸	۳	الف. بعضی آنزیم ها برای فعالیت به یون های فلزی مانند آهن، مس و یا مواد آلی مثل ویتامین ها نیاز دارند که به..... این مواد می گویند. <u>کوآنزیم (کمک کننده به آنزیم)</u>
شهریور ماه ۹۸	۱	الف. باز آلی نیتروژن دار..... می تواندند. باشد که ساختار دو حلقه ای دارد؛ شامل آدنین (A) و گوانین (G) <u>پورین</u>
دی ماه ۹۸	۳	الف. اولین پروتئینی که ساختار آن شناسایی..... شد. بود. <u>میوگلوبین</u>
خرداد ماه ۹۸ (خ)	۲	الف. در همانندسازی دنا، آنزیم دنابسپاراز..... فعالیت. دارد که در آن پیوند فسفودی استر را تشکیل می دهد. <u>بسپارازی (پلیمرازی)</u>
شهریور ماه ۹۸ (خ)	۳	الف. بخش اختصاصی در آنزیم که پیش ماده در آن قرار..... می گیرد. نام دارد. <u>جایگاه فعال</u>
خرداد ماه ۹۹	۲	الف. در همانندسازی دنا، شکستن پیوند فسفودی استر توسط..... آنزیم. انجام می شود. <u>دنا بسپاراز</u>
خرداد ماه ۹۹ (خ)	۱	الف. نتایج آزمایش ایوری و همکارانش نشان داد که عامل موثر در انتقال صفات..... مولکول. است. <u>دنا</u>
خرداد ماه ۹۹ (خ)	۳	ب..... پیوندهای..... منشاء تشکیل ساختار دوم در پروتئین ها هستند. <u>هیدروژنی</u>
خرداد ماه ۹۹ (خ)	۳	الف. در بافت..... پیوندی. پروتئینی است که باعث استحکام این بافت می شود. <u>کلاژ</u>
شهریور ماه ۹۹	۱	الف. نوکلئوتیدها با نوعی پیوند اشتراکی..... به نام. به هم متصل می شوند و رشته پلی نوکلئوتیدی را می سازند. <u>فسفودی استر</u>
دی ماه ۹۹	۱	الف. ژن بخشی از مولکول دنا است که بیان آن می تواند به تولید..... یل. بینجامد. <u>رنا - پلی پپتید</u>
دی ماه ۹۹ (خ)	۳	الف. ترکیباتی که آنزیم روی آنها عمل..... می کند. خوانده می شوند. <u>پیش ماده</u>
*	*	در هر یک از عبارات های زیر، جواب صحیح را از بین کلمات داخل پرانتز انتخاب کنید و در بر گه پاسخ نامه بنویسید.
خرداد ماه ۹۸	۲	الف. آنزیم (هلیکاز - دنابسپاراز یا DNA پلی مراز) فعالیت نوکلنازی دارد. <u>دنا بسپاراز DNA پلی مراز</u>
شهریور ماه ۹۸	۲	الف. در گریزانیه میزان حرکت مواد در محلول بر اساس چگالی است و مواد سنگین تر کندتر - تندتر حرکت می کنند. <u>تندتر</u>
دی ماه ۹۸	۱	الف. دو انتهای رشته های پلی نوکلئوتید می توانند با پیوند فسفودی استر به هم متصل شوند و نوکلئیک اسید (حلقوی - خطی) را ایجاد کنند. <u>حلقوی</u>
دی ماه ۹۸	۳	ب. شکل آنزیم در جایگاه فعال با شکل پیش ماده یا بخشی از آن (مشابه - مکمل) یکدیگرند. <u>مکمل</u>

۳	خرداد ماه ۹۸ (خ)	الف. در تشکیل ساختار دوم پروتئین ها، پیوندهای (هیدروژنی - آب گریز) برقرار می شود. <u>هیدروژنی</u>
۱	شهریور ماه ۹۸ (خ)	الف. کیفیت مشاهده کرد تریزیک باکتری های (پوشینه دار - بدون پوشینه) به موش باعث بروز علامت بیمار مرد آنها می شود <u>پوشینه دا</u>
۱	خرداد ماه ۹۹	الف. دنوکسی ریبوز یک اکسیژن (کمتر - بیشتر) از ریبوز دارد. <u>کمتر</u>
۲	خرداد ماه ۹۹ (خ)	الف. به طور معمول هر دیسک (پلازمیا) دارا () ی (چن) جایگا آغا همانندساز است <u>ی</u>
۲	خرداد ماه ۹۹ (خ)	الف. دنای (DNA) سیئوپلاسمه حال () خط (حلقو) دارد <u>حلقو</u>
۱	شهریور ماه ۹۹	الف. در مدل پیشنهادی واتسون و کریک، پله های این نردبان را (قند و فسفات - بازهای آلی) تشکیل می دهند. <u>بازهای آلی</u>
۱	دی ماه ۹۹	الف. در دو رشته دنا، بین C و G نسبت به A و T پیوند هیدروژنی (بیشتری - کمتری) تشکیل می شود. <u>بیشتری</u>
۱	دی ماه ۹۹ (خ)	الف. دو انتهای رشته های پلی نوکلئوتید می توانند با پیوند فسفودی استر به هم متصل شوند و نوکلئیک اسید (حلقوی - خطی) را ایجاد کنند. <u>حلقوی</u>
*	*	در پرسش های چهار گزینه ای زیر، گزینه درست را انتخاب کنید.
۲	خرداد ماه ۹۹ (خ)	الف. در آزمایش مزلسون و استال، پس از انتقال باکتری های دارای ^{15}N به محیط کشت دارای ^{14}N ، بعد از ۲۰ دقیقه، دنای استخراج شده کدام چگالی را نشان داد؟ ۱. سبک ۲. متوسط ۳. نیمی سنگین و نیمی متوسط ۴. سنگین
*	*	علت هر یک از موارد زیر را بنویسید.
۱	خرداد ماه ۹۹	الف. در یوکاریوت ها، آغاز همانندسازی در چندین نقطه در هر فام تن (کروموزوم) انجام می شود. <u>اگر فقط یک جایگاه آغاز همانندسازی در هر فام تن داشته باشند مدت زمان زیادی برای همانندسازی لازم است</u>
۳	خرداد ماه ۹۹	ب. مواد سمی مانند سیانید یا آرسنیک، مانع فعالیت آنزیم می شوند. <u>سیانید و آرسنیک میتواند با قرار گرفتن در جایگاه فعال آنزیم، مانع فعالیت آن شود.</u>
۳	دی ماه ۹۹	الف. یاخته ها به مقدار کم به آنزیم نیاز دارند. <u>در پایان واکنش ها دست نخورده باقی می مانند بنابراین بدن می تواند بارها از آنها استفاده کند.</u>
*	*	به پرسش های زیر پاسخ کوتاه دهید.
۳	خرداد ماه ۹۹ (خ)	الف. علاوه بر یو ها فلزی کدا مولکو ها آلانق کوآنزیم ر دارند <u>ویتامین ه</u>
۳	خرداد ماه ۹۹ (خ)	ب. PH بهینه کدام آنزیم در حدود ۲ می باشد؟ <u>پپسین</u>
۲ و ۱	دی ماه ۹۷	در مورد مولکول دنا (DNA) به سوالا زیر پاسه دهید الف. چرا قطر مولکول دنا در سراسر آن یکسان است؟ <u>چون همیشه یک باز تک حلقه ای در مقابل یک باز دو حلقه ای قرار می گیرد.</u> ب. در دوراهی همانندسازی چند آنزیم هلیکاز در حال فعالیت است؟ <u>یک آنزیم هلیکاز</u>
۳	دی ماه ۹۷	در مورد "ساختار پروتئین ها" به پرسش های زیر پاسخ دهید. الف. پیوندهای هیدروژنی منشاء کدام ساختار پروتئین هستند؟ <u>ساختار دوم پروتئین ها</u> ب. هموگلوبین دارای کدام ساختار پروتئین است؟ <u>ساختار چهارم پروتئین ها</u>
۳	دی ماه ۹۷	در مورد آنزیم ها به پرسش های زیر پاسخ دهید. الف. بعضی آنزیم ها برای فعالیت به یون های فلزی مانند آهن، مس و یا مواد آلی مثل ویتامین ها نیاز دارند، به این مواد چه می گویند؟ <u>کوآنزیم (کمک کننده به آنزیم)</u> ب. تغییر PH چگونه باعث تغییر فعالیت یک آنزیم می شود؟ <u>تغییر PH با تاثیر بر پیوندهای شیمیایی مولکول پروتئین ها می تواند باعث تغییر شکل آنزیم شود و در نتیجه امکان اتصال آن به پیش ماده از بین برود، در نتیجه میزان فعالیت آن تغییر می کند.</u>
۱	خرداد ماه ۹۸	قند موجود در دنا (DNA) و باز آلی نیتروژن دار اختصاصی رنا (RNA) را بنویسید. <u>قند موجود در دنا (DNA): دنوکسی ریبوز باز آلی نیتروژن دار اختصاصی رنا (RNA): باز یوراسیل</u>
۱	خرداد ماه ۹۸	ویلیکینز و فرانکلین با استفاده از پرتو ایکس از مولکول های دنا (DNA) تصاویری تهیه کردند. دو نتیجه حاصل از بررسی این تصاویر را بنویسید. <u>دنا (DNA) حالت مارپیچی و بیش از یک رشته دارد و البته با استفاده از این روش ابعاد مولکول ها را نیز تشخیص دادند.</u>

<p>خرداد ماه ۹۸</p>	<p>۲</p>	<p>شکل روبرو همانندسازی دنا را نشان می دهد. با توجه به شکل به پرسش های زیر پاسخ دهید.</p> <p>الف. این دنا مربوط به پیش هسته ای ها است یا هوهسته ای ها؟ <u>هوهسته ای ها</u></p> <p>ب. در قسمت مشخص شده (۱) چند هلیکاز وجود دارد؟ <u>۲ هلیکاز</u></p> 
<p>خرداد ماه ۹۸ (خ)</p>	<p>۲</p>	<p>در مورد همانندسازی به پرسش های زیر پاسخ دهید.</p> <p>الف. آنزیمی که ابتدا مارپیچ دنا را باز می کند سپس دو رشته دنا را در محلی از هم فاصله می دهد، چه نام دارد؟ <u>آنزیم هلیکاز</u></p> <p>ب. چرا در هوهسته ای ها (یوکاریوت ها)، آغاز همانندسازی در چندین نقطه در هر فام تن (کروموزوم) انجام می شود؟ <u>وجود مقدار زیاد دنا و قرار داشتن در چندین فام تن</u></p>
<p>خرداد ماه ۹۸ (خ)</p>	<p>۱</p>	<p>در شکل زیر دو نوع نوکلئیک اسید نشان داده شده است. در کدامیک مقدار گوانین با مقدار سیتوزین برابر است؟ <u>شکل ب</u></p> 
<p>خرداد ماه ۹۸ (خ)</p>	<p>۳</p>	<p>در مورد آنزیم ها به پرسش های زیر پاسخ دهید.</p> <p>الف. ترکیبی که حاصل فعالیت آنزیم هستند، چه خوانده می شوند؟ <u>فرآورده یا محصول</u></p> <p>ب. چرا با تغییر PH محیط، امکان اتصال آنزیم به پیش ماده از بین می رود؟ <u>تغییر PH با تاثیر بر پیوندهای شیمیایی مولکول پروتئین می تواند باعث تغییر شکل آنزیم شود.</u></p>
<p>شهریور ماه ۹۸</p>	<p>۱</p>	<p>چرا قطر مولکول دنا در سراسر آن یکسان است؟ <u>چون در هر صورت یک باز تک حلقه ای در مقابل یک باز دو حلقه ای قرار می گیرد.</u></p>
<p>شهریور ماه ۹۸</p>	<p>۲</p>	<p>به سوالا زی دربار همانندساز دز پاس دهید</p> <p>الف. برای باز شدن دو رشته دنا (DNA) آنزیم هلیکاز چه پیوندهایی را از هم باز می کند؟ <u>هیدروژنی</u></p> <p>ب. کدام فعالیت آنزیم دنابسپاراز DNA پلی مراز) سبب ویرایش می شود؟ <u>نوکلئازی</u></p>
<p>شهریور ماه ۹۸</p>	<p>۳</p>	<p>به سوالا زی دربار پروتئیه پاس دهید</p> <p>الف. به پیوند اشتراکی بین آمینواسیدها چه می گویند؟ <u>پیوند پپتیدی</u></p> <p>ب. در چه صورت ساختار چهارم شکل می گیرد؟ <u>دو یا چند زنجیره پلی پپتید در کنار یکدیگر پروتئین را تشکیل دهند.</u></p> <p>ج. بخش اختصاصی در آنزیم که پیش ماده در آن قرار می گیرد، چه نام دارد؟ <u>جایگاه فعال</u></p>
<p>شهریور ماه ۹۸ (خ)</p>	<p>۲</p>	<p>در مورد آزمایش های مزلسون و استال به پرسش های زیر پاسخ دهید.</p> <p>الف. با توجه به نتایج آزمایش های آنها کدام طرح همانندسازی دنا مورد تایید قرار گرفت؟ <u>همانند سازی نیمه حفاظتی</u></p> <p>ب. آنها برای جداسازی دناهایی که با ^{15}N ساخته می شوند از دناهایی که در نوکلئوتیدهای خود ^{14}N دارند، از چه ابزاری استفاده کردند؟ <u>فراگریزانه (سانتریفیوژ سرعت بالا)</u></p>
<p>شهریور ماه ۹۸ (خ)</p>	<p>۲</p>	<p>در مورد همانندسازی DNA به پرسش های زیر پاسخ دهید.</p> <p>الف. یکی از مهم ترین آنزیم هایی که نوکلئوتیدهای مکمل را با نوکلئوتیدهای رشته الگو جفت می کند، چه نام دارد؟ <u>دنباسپاراز (DNA پلی مراز)</u></p> <p>ب. چرا همانندسازی در هوهسته ای ها (یوکاریوت ها) بسیار پیچیده تر از پیش هسته ای ها (پروکاریوت ها) است؟ (ذکر یک مورد <u>وجود مقدار زیاد دنا و قرار داشتن در چندین فام تن است هر کدام از آنها چندین برابر دنا ی باکتری هستند.</u>)</p>
<p>شهریور ماه ۹۸ (خ)</p>	<p>۳</p>	<p>در مورد پروتئین ها به پرسش های زیر پاسخ دهید.</p> <p>الف. در انسان بالغ، از ۲۰ نوع آمینواسید چند مورد آنها ضروری (اساسی) هستند؟ <u>۸ مورد</u></p>

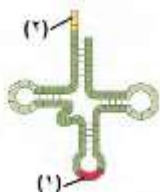
		<p>ب. کدام ساختار پروتئین ها با ایجاد پیوندهای پپتیدی بین آمینواسیدها شکل می گیرد؟ <u>ساختار اول</u></p> <p>ج. چرا آنزیم های بدن انسان در دمای بالاتر ممکن است غیر فعال شوند <u>برگشت ناپذیر پیدا کنند.</u></p>
دی ماه ۹۸	۲۱	<p>به سوالا زی دربار آزمایش ها مربوط به شناسایی دند ب عنوان ماد وراثت همانندساز آ پاس دهید</p> <p>الف. کیفیت با انجام چه آزمایشی نتیجه گرفت که وجود پوشینه در باکتری ها به تنهایی عامل مرگ موش ها نیست؟ <u>باکتری های پوشینه دار کشته شده با گرما را به موش ها تزریق و مشاهده کرد که موش ها سالم ماندند.</u></p> <p>ب. با توجه به نتایج آزمایش های مزلسون و استال کدام طرح همانندسازی دنا مورد تایید قرار گرفت؟ <u>همانندسازی نیمه حفاظتی</u></p>
دی ماه ۹۸	۲	<p>دو آنزیم مهم که برای همانندسازی دنا لاز هسته ر نا ببرید <u>هلیکا دنابسپارا DNA پلی مراز</u></p>
دی ماه ۹۸	۳	<p>به سوالا زی دربار پروتیه هر پاس دهید</p> <p>الف. تشکیل کدام ساختار پروتئین ها، در اثر برهم کنش های آب گریز است؟ <u>ساختار سوم</u></p> <p>ب. چرا آنزیم، انرژی فعال سازی واکنش را کاهش می دهد؟ <u>آنزیم امکان برخورد مناسب مولکول ها را افزایش می دهد.</u></p>
خرداد ماه ۹۹	۱	<p>شکل روبرو یکی از آزمایش های کیفیت را نشان می دهد. نتیجه این آزمایش چیست؟ <u>موش ها مردند</u></p>
		<p>مخلوطی از باکتری های پوشینه دار گشته شده با گرما و فاقد پوشینه</p> 
خرداد ماه ۹۹	۱	<p>با توجه به مدل پیشنهادی واتسون و کریک برای دنا، یک نتیجه جفت شدن بازهای مکمل را بنویسید. <u>قطر مولکول دنا در سراسر آن یکسان باشد یا شناسایی ترتیب نوکلئوتیدهای هر کدام میتواند ترتیب نوکلئوتیدهای رشته دیگر را هم مشخص کند.</u></p>
خرداد ماه ۹۹	۳	<p>شکل روبرو نشان دهنده کدام ساختار پروتئین ها است؟ <u>ساختار دوم (ساختار مارپیچ)</u></p> 
خرداد ماه ۹۹	۳ و ۲	<p>به پرسش های زیر پاسخ دهید.</p> <p>الف. در یوکاریوت ها، دنا ی سیتوپلاسم د چه قسمه های ا یاخته دید م شود <u>د راکیز (میتوکندر) دیس (پلا) (دیه ی ش</u></p> <p>ب. نام بخش اختصاصی آنزیم که پیش ماده در آن قرار می گیرد، چیست؟ <u>جایگاه فعال</u></p>
خرداد ماه ۹۹ خ	۱	<p>پیوند فسفودی استر بین کدام مولکول ها در نوکلئوتیدهای مجاور تشکیل می شود؟ <u>در تشکیل پیوند فسفودی استر، فسفات یک نوکلئوتید به گروه هیدروکسیل OH از قند مربوط به نوکلئوتید دیگر متصل می شود.</u></p>
خرداد ماه ۹۹ خ	۲	<p>شکل مقابل مربوط به همانندسازی دنا است.</p> <p>الف. آنزیم شماره ۱ چه نام دارد؟ <u>دنا بسپارا</u></p> <p>ب. آنزیم شماره ۲ چه پیوندهایی را از هم باز می کند؟ <u>هیدروژنی</u></p> 
خرداد ماه ۹۹ خ	۱	<p>در مورد ساختار نوکلئیک اسیدها به پرسش های زیر پاسخ دهید.</p> <p>الف. نام باز آلی نیتروژن دار اختصاصی پیریمیدینی در رنا (RNA) را بنویسید. <u>یوراسیل</u></p> <p>ب. در تشکیل پیوند فسفودی استر، فسفات یک نوکلئوتید به چه بخشی از قند مربوط به نوکلئوتید دیگر متصل می شود؟ <u>گروه هیدروکسیل OH</u></p> <p>ج. ویلکینز و فرانکلین با استفاده از پرتو ایکس از مولکول های دنا تصاویری تهیه کردند. دو نتیجه حاصل از بررسی این تصاویر را بنویسید. <u>۱. دنا حالت مارپیچی و بیش از یک رشته دارد. ۲. ابعاد مولکول ها را نیز تشخیص دادند.</u></p>

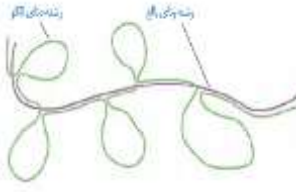
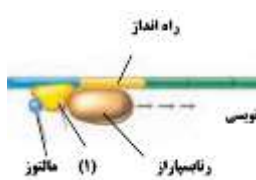
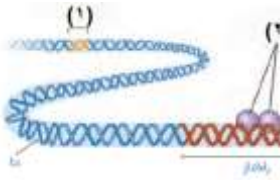
	<p>در مورد همانند سازی دنا (DNA) به پرسش های زیر پاسخ دهید.</p> <p>الف. در شکل مقابل همانند سازی دنا مربوط به پروکاریوت ها است یا یوکاریوت ها؟ <u>یوکاریوت ها</u></p> <p>ب. در همانند سازی دنا (DNA) کدام آنزیم ماریپچ دنا و دو رشته آن را از هم باز می کند؟ <u>آنزیم هلیکاز</u></p>	<p>خرداد ماه ۹۹ (خ) ۲</p>
	<p>در مورد آزمایش های مزلسون و استال به پرسش های زیر پاسخ دهید.</p> <p>الف. برای تشخیص رشته های دنا ی نوساز از رشته های قدیمی، نوکلئوتیدها را با چه ایزوتوپی نشانه گذاری کردند؟ <u>ایزوتوپ سنگین نیتروژن ^{15}N</u></p> <p>ب. با توجه به نتایج آزمایش های آنها، کدام طرح همانند سازی دنا مورد تایید قرار گرفت؟ <u>همانند سازی نیمه حفاظتی</u></p>	<p>شهریور ماه ۹۹ ۲</p>
	<p>در محل هر دو راهی همانند سازی</p> <p>الف. چند آنزیم دنباسپاراز DNA پلی مرز (فعالیت دارد؟) <u>۲</u></p> <p>ب. آنزیم هلیکاز چه پیوندهایی را می شکند؟ <u>پیوند هیدروژنی</u></p>	<p>شهریور ماه ۹۹ ۲</p>
	<p>در مورد پروتئین ها و آنزیم ها به پرسش های زیر پاسخ دهید.</p> <p>الف. ساختار نهایی پروتئین در میوگلوبین کدام است؟ <u>ساختار سوم</u></p> <p>ب. زنجیره های سازنده هموگلوبین، در ساختار دوم به چه شکل در می آیند؟ <u>ماریپچ</u></p> <p>ج. افزایش غلظت پیش ماده در محیطی که آنزیم وجود دارد، تا چه زمانی می تواند باعث افزایش سرعت واکنش شود؟ <u>افزایش غلظت پیش ماده در محیطی که آنزیم وجود دارد تا زمانی ادامه می یابد که تمامی جایگاه های فعال آنزیم ها با پیش ماده اشغال شوند.</u></p>	<p>شهریور ماه ۹۹ ۳</p>
	<p>به پرسش های زیر پاسخ دهید.</p> <p>الف. ایوری با اضافه کردن آنزیم تخریب کننده پروتئین به عصاره باکتری های پوشینه دار و انتقال این مخلوط به محیط کشت حاوی باکتری بدون پوشینه چه مشاهده کرد؟ <u>دیدند که انتقال صفت صورت می گیرد.</u></p> <p>ب. به فعالیت نوکلئازی دنباسپاراز، که باعث اشتباه ها، در همانند سازی می شود، چه می گویند؟ <u>ویرایش</u></p> <p>ج. آنزیم ها چه تاثیری بر انرژی فعال سازی واکنش دارند؟ <u>انرژی فعال سازی واکنش را کاهش می دهد.</u></p>	<p>شهریور ماه ۹۹ ۳ و ۱</p>
	<p>نتیجه هر یک از آزمایش های زیر را بنویسید.</p> <p>الف. کیفیت مخلوطی از باکتری پوشینه دار کشته شده با گرما و باکتری فاقد پوشینه زنده را به موش ها تزریق کرد. <u>موش ها مردند</u></p> <p>ب. ایوری آنزیم تخریب کننده پروتئین را به عصاره باکتری پوشینه دار کشته شده اضافه کرد و سپس محلول را به محیط کشت حاوی باکتری فاقد پوشینه منتقل کرد. <u>انتقال صفت صورت می گیرد.</u></p> <p>ج. بررسی تصاویر تهیه شده از مولکول های دنا با استفاده از پرتو ایکس توسط ویلکینز و فرانکلین (دو مورد) <u>دنا حالت ماریپچی و بیش از یک رشته دارد و همچنین ابعاد مولکول ها را نیز تشخیص دادند.</u></p>	<p>دی ماه ۹۹ ۱</p>
	<p>در همانند سازی دنا، آنزیم دنباسپاراز DNA پلی مرز (پلی مرز) نوکلئوتیدها را بر چه اساسی مقابل هم قرار می دهد؟ <u>رابطه مکملی</u></p>	<p>دی ماه ۹۹ (خ) ۲</p>
	<p>شکل روبرو ساختار عمومی یک آمینو اسید را نشان می دهد. شماره (۱) را نام گذاری کنید. <u>یون هیدروژن</u></p>	<p>دی ماه ۹۹ (خ) ۳</p>
	<p>در مورد اولین پروتئینی که ساختار آن شناسایی شد، به پرسش های زیر پاسخ دهید.</p> <p>الف. نام این پروتئین چیست؟ <u>میوگلوبین</u></p> <p>ب. ساختار نهایی این پروتئین چیست؟ <u>ساختار سوم</u></p>	<p>دی ماه ۹۹ (خ) ۳</p>

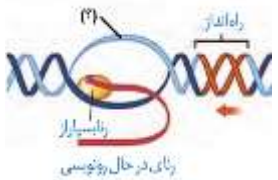
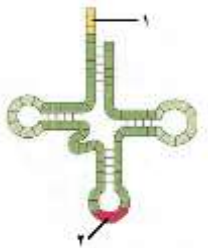
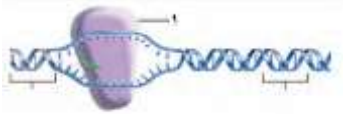
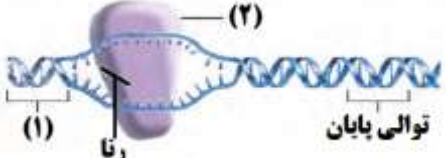
فصل دوم: جریان اطلاعات (د یاتة) ار نوت رردا ما ۲۵ نمر

سال طرح سوال	گفتار	متن سوال
*	*	درستی یا نادرستی هر یک از عبارات های زیر را بدون ذکر دلیل مشخص کنید.
دی ماه ۹۷	۳	ب. در هوهسته ای ها، اتصال بعضی رنهای کوچک مکمل به رنای پیک مثالی از تنظیم بیان ژن پس از رونویسی است. <u>درست</u>
خرداد ماه ۹۸	۲	ج. طول عمر رنای پیک (mRNA) در پیش هسته ای ها (پروکاریوت ها) بیشتر از هوهسته ای ها (یوکاریوت ها) است. <u>نادرست</u>
شهریور ماه ۹۸	۲	ب. تجمع رناتن ها (ریبوزوم ها) فقط در یاخته های پیش هسته ای (پروکاریوت) دیده می شود. <u>نادرست</u>
دی ماه ۹۸	۱	الف. فقط یکی از دو رشته هر ژن رونویسی می شود. <u>درست</u>
خرداد ماه ۹۹	۱	ج. در رونویسی، نوکلئوتید تیمین دار رنا به عنوان مکمل در برابر نوکلئوتید آدنین دار دنا قرار می گیرد. <u>نادرست</u>
خرداد ماه ۹۹ (خ)	۲	الف. در پروکاریوت ها شروع ترجمه یک رنای پیک (mRNA) ممکن است قبل از پایان رونویسی آن رنا آغاز شود. <u>درست</u>
خرداد ماه ۹۹ (خ)	۲	ج. در یوکاریوت ها پروتئین سازی حتی ممکن است پیش از پایان رونویسی رنای پیک (mRNA) آغاز شود. <u>نادرست</u>
شهریور ماه ۹۹	۱	ب. در یاخته های یوکاریوتی، رنهای ساخته شده در رونویسی برای انجام کارهای خود، دستخوش تغییراتی می شوند. <u>درست</u>
شهریور ماه ۹۹	۳	ج. تنظیم بیان ژن، موجب ایجاد یاخته های متفاوتی از یاخته های بنیادی مغز استخوان می شود. <u>درست</u>
دی ماه ۹۹	۲	ب. رمزه (کدون) آمینواسیدها در بسیاری از جانداران یکسان اند. <u>نادرست</u>
دی ماه ۹۹ (خ)	۱	ب. رونویسی از روی هر دو رشته یک ژن انجام می شود. <u>نادرست</u>
*	*	در هر یک از عبارات های زیر جای خالی را با کلمات مناسب پر کنید.
دی ماه ۹۷	۱	ب. به بخش هایی که در مولکول دنا وجود دارند و رونوشت آنها در رنای پیک سیتوپلاسم...جذب...شوند.
دی ماه ۹۸	۲	ب. در ساختار سه بعدی رنای ناقل یک بخش محل اتصال آمینواسید و دیگری توالی ۳ نوکلئوتیدی...نام.
خرداد ماه ۹۸ (خ)	۱	ب. رنای رونویسی شده از رشته الگو، در ابتدا دارای رونوشت های میانه (اینترون) دنا است...به...این...رننا.
شهریور ماه ۹۸ (خ)	۲	ب. به توالی ۳ نوکلئوتیدی رنای پیک (mRNA) که تعیین می کند کدام آمینواسیدها باید در ساختار پلی پپتید قرار...بگیرند.
خرداد ماه ۹۹	۱	ب. رنای رونویسی شده از رشته الگو، در ابتدا دارای رونوشت های میانه دنا است...به...این...رننا.
خرداد ماه ۹۹ (خ)	۳	ج. در تنظیم منفی رونویسی، پروتئین مهار کننده به توالی خاصی...از...دنا...به...نام.
دی ماه ۹۹ (خ)	۱	ب. به هر یک از توالی های سه نوکلئوتیدی...در...دنا...می گویند... <u>رمز</u>
*	*	در هر یک از عبارات های زیر، جواب صحیح را از بین کلمات داخل پرانتز انتخاب کنید و در برگه پاسخ نامه بنویسید.
خرداد ماه ۹۸	۳	ب. در تنظیم منفی - مثبت) رونویسی، پروتئین های خاصی به رنابسپاراز کمک می کنند تا بتواند به راه انداز متصل شود و رونویسی را شروع کند. <u>مثبت</u>
شهریور ماه ۹۸	۲	ب. رمزه (کدون) آغاز یا (AUG - UGA) رمزه ای است که ترجمه از آن آغاز می شود. <u>AUG</u>
دی ماه ۹۸	۱	ج. به بخش هایی از مولکول دنا که رونوشت آن ها در رنای پیک سیتوپلاسم حذ شده (میانه بیانا) م گویند <u>میاز</u>
دی ماه ۹۸	۳	د. در تنظیم منفی رونویسی در باکتری اشرشیا کلا ی ما زی رو رنابسپاراز نوع پروتئین بنا (مها کنند فعا کنند) لت <u>مها کنند</u>
خرداد ماه ۹۸ (خ)	۲	ب. رمزه آغاز یا (AUG-UAG) رمزه ای است که ترجمه از آن آغاز می شود. <u>AUG</u>
خرداد ماه ۹۸ (خ)	۳	ج. در باکتری اشرشیا کلا ی تنیه منف رونویس برا ژ ها مریو بتجزیه قه (لاکتو - مالت) (انجم ی شو <u>لاک</u>
شهریور ماه ۹۸ (خ)	۲	ب. طول عمر رنای پیک در یاخته های (پیش هسته ای - هوهسته ای) کم است. <u>پیش هسته ای</u>
خرداد ماه ۹۹	۱	ب. ژن های سازنده (رنای رناتنی - رنای ناقل) در یاخته های تازه تقسیم شده بسیار فعال اند. <u>رنای رناتنی</u>
خرداد ماه ۹۹ (خ)	۱	ب. رنای بالغ، حاصل پیوند بین (میانه ها - بیانه ها) است. <u>بیانه ها</u>
خرداد ماه ۹۹ (خ)	۳	ب. اتصال بعضی رنهای کوچک مکمل به رنای پیک مثالی از تنظیم بیان ژن (پس از - پیش از) رونویسی است. <u>پس از</u>
شهریور ماه ۹۹	۳	ب. در باکتری اشرشیا کلا ی تنیه مبی رونویس د مور ژ ها مور د تجزیه (مالتو لاکت) (انجم ی شو <u>مالت</u>
دی ماه ۹۹	۳	ب. در باکتری اشرشیا کلا ی د تنیه (مبی - منف) رونویسی ما زی رو رنابسپاراز نوع پروتئین بنا مها کنند است <u>منف</u>
دی ماه ۹۹ (خ)	۲	ب. رمزه آغاز یا (UGA - AUG) رمزه ای است که ترجمه از آن آغاز می شود. <u>AUG</u>
*	*	اصطلاحاً زیر تعریف کنید
خرداد ماه ۹۸	۱	الف. رنای (RNA) بالغ: <u>با حذف رونوشت میانه ها (اینترون ها) از رنای اولیه و پیوستن بخش های باقی مانده به هم، رنای بالغ ساخته می شود.</u>

۱	خرداد ماه ۹۸ خ	الف. بیانہ (اگزون) به سایر بخش های مولکول دنا، که رونوشت آنها حذف نمی شود، بیانہ (اگزون) گفته می شود.
۱	خرداد ماه ۹۹ خ	الف. میانہ (اینترون) به نواحی که در مولکول دنا وجود دارد ولی رونوشت آن در رنای پیک سیئوپلاسم حذف شد میانہ (اینترون) م گویند
*	*	علت هر یک از موارد زیر را بنویسید.
۲	خرداد ماه ۹۹	ج. علت رنای پیک (mRNA) در یوکاریوت ها طولانی تر از پروکاریوت ها است <u>د ای ساخته سازوکارهای برا حفات رنا پیک در برابر تخریب وجود دارد.</u>
۱	دی ماه ۹۹	ب. در بعضی ژن های یوکاریوتی، رنای پیک (mRNA) بالغ، کوتاهتر از رنای پیک اولیه (نابالغ) است. <u>در بعضی ژن ها، توالی های معینی از رنای ساخته شده، جدا و حذف می شود و سایر بخش ها به هم متصل می شوند و به علت حذف اینترون ها پیک رنای پیک بالغ کوتاهتر ساخته می شود.</u>
۱	دی ماه ۹۷	در مورد رونویسی به پرسش های زیر پاسخ دهید. الف. در هوهسته ای ها (یوکاریوت ها) رنای رناتی (rRNA) (توسط کدام آنزیم رنابسپاراز ساخته می شود؟ <u>توسط رنابسپاراز (RNA پلی مزاز)</u>) ب. به رشته مکمل رشته الگو در مولکول دنا، چه گفته می شود؟ <u>رشته رمز گذار</u>
۲	دی ماه ۹۷	در مورد "به سوی پروتئین" به پرسش های زیر پاسخ دهید. الف. ساخته شدن پلی پپتید از روی اطلاعات رنا پیک چه نامیده می شود <u>ترجمه</u> ب. تفاوت توالی های انواع رناهای ناقل مربوط به کدام ناحیه می باشد؟ <u>ناحیه پادرمزه ای (آنتی کدون)</u> ج. چرا در هوهسته ای ها (یوکاریوت ها) فرصت بیشتری برای پروتئین سازی وجود دارد؟ <u>در این ساخته ها سازوکارهایی برای حفاظت رنای پیک در برابر تخریب وجود دارد، بنابراین فرصت بیشتری برای پروتئین سازی هست.</u>
۳	دی ماه ۹۷	در مورد تنظیم بیان ژن به پرسش های زیر پاسخ دهید. الف. در تنظیم مثبت رونویسی در باکتری اشرشیا کلا چه عاملی م شو که فعا کنند ب جایگا خو بچسبد <u>مالتو</u> ب. در هوهسته ای ها، پروتئین هایی که با اتصال به نواحی خاصی از راه انداز، رنابسپاراز را به محل راه انداز هدایت می کنند، چه نام دارند؟ <u>عوامل رونویسی</u>
۱	خرداد ماه ۹۸	در مورد رونویسی به پرسش های زیر پاسخ دهید. الف. در هوهسته ای ها رنای رناتی (rRNA) (توسط کدام رنابسپاراز ساخته می شود؟ <u>رنابسپاراز ۱ (RNA پلی مزاز)</u>) ب. در کدام مرحله، رنابسپاراز راه انداز را شناسایی می کند؟ <u>مرحله آغاز</u>
۲	خرداد ماه ۹۸	در شکل روبرو یک رنای ناقل (tRNA) با تا خوردگی اولیه نشان داده شده است. کدام شماره توالی پادرمزه (آنتی کدون) را نشان می دهد. <u>شماره ۱</u>
۲	خرداد ماه ۹۸	در مورد فرآیند ترجمه به پرسش های زیر پاسخ دهید. الف. رمز (کدون) آغاز یا AUG معرف کدام آمینو اسید است؟ <u>آمینو اسید متیونین</u> ب. در طول کدام مرحله ترجمه، فقط جایگاه P رناتن (ریبوزوم) پر می شود؟ <u>مرحله آغاز</u> ج. رنای ناقل بدون آمینو اسید از کدام جایگاه رناتن خارج می شود؟ <u>جایگاه E</u>
۲	خرداد ماه ۹۸ خ	در مورد فرآیند ترجمه و پروتئین سازی به پرسش های زیر پاسخ دهید. الف. در کدام مرحله، پیوند پپتیدی بین آمینو اسیدها در جایگاه A برقرار می شود؟ <u>مرحله طویل شدن</u> ب. کدام جایگاه رناتن (ریبوزوم) محل خروج رنای ناقل بدون آمینو اسید است؟ <u>جایگاه E</u> ج. چرا در پیش هسته ای ها (پروکاریوت ها) پروتئین سازی حتی ممکن است از پایان رونویسی رنای پیک آغاز شود؟ <u>زیرا طول عمر رنای پیک در این ساخته ها کم است.</u>
۱	شهریور ماه ۹۸	چرا برای رونویسی از ژن به راه انداز نیاز است؟ <u>راه انداز موجب می شود رنابسپاراز اولین نوکلئوتید مناسب را به طور دقیق پیدا و رونویسی را از آنجا آغاز کند.</u>



	<p>شکل زیر طرح ساده ای از رشته الگوی مولکول دنا و رنای بالغ حاصل از آن را نشان می دهد. با توجه به شکل به پرسش های زیر پاسخ دهید.</p> <p>الف. این طرح در یاخته هوسته ای یوکاریوت دیده می شود یا یاخته پیش هسته ای پروکاریوت؟</p> <p><u>یاخته هوسته ای (یوکاریوت)</u></p> <p>ب. بخش هایی از مولکول دنا که به شکل حلقه درآمده، چه نام دارد؟ <u>میان (اینترون)</u></p>	<p>شهریور ماه ۹۸</p>
	<p>به سوالات زیر دربار مراح ترجمه پاس دهید</p> <p>الف. در کدام مرحله فقط جایگاه P پر می شود و جایگاه A و E خالی می ماند؟ <u>مرحله آغاز</u></p> <p>ب. چرا با ورود یکی از رمزه های پایان ترجمه در جایگاه A، این جایگاه توسط پروتئین هایی به نام عوامل آزاد کننده اشغال می شود؟ <u>چون رنای ناقل مکمل آن وجود ندارد.</u></p>	<p>شهریور ماه ۹۸</p>
	<p>به سوالات زیر دربار تنبیه بیاژ پاس دهید</p> <p>الف. در تنظیم منفی رونویسی در پیش هسته ای ها، مهار کننده به چه بخشی از دنا متصل می شود و جلوی حرکت رنابسپاراز را می گیرد؟ <u>اپراتور</u></p> <p>ب. در هوسته ای ها به پروتئین هایی که با اتصال به نواحی خاصی از راه انداز، رنابسپاراز را به محل راه انداز هدایت می کنند، چه می گویند؟ <u>عوامل رونویسی</u></p>	<p>شهریور ماه ۹۸</p>
	<p>شکل زیر تنظیم رونویسی ژن های موثر در تجزیه مالتوز را نشان می دهد. با توجه به شکل به سوالات زیر پاس دهید</p> <p>الف. این تنظیم رونویسی از نوع مثبت است یا منفی؟ <u>تنظیم مثبت رونویسی</u></p> <p>ب. نام بخش مشخص شده (۱) را بنویسید. <u>فعال کننده</u></p>	<p>شهریور ماه ۹۸ (خ)</p>
	<p>در مورد جریان اطلاعات یاخته پرسش ها زیر پاس دهید</p> <p>الف. در هوسته ای ها یوکاریوت ها، رنای رنانتی توسط کدام آنزیم رنابسپاراز RNA پلی مراز ساخته می شود؟ <u>رنابسپاراز ۱</u></p> <p>ب. توالی های نوکلئوتیدی ویژه ای در دنا که موجب می شود رنابسپاراز اولین نوکلئوتید مناسب را به طور دقیق پیدا و رونویسی را از آنجا آغاز کند، چه نام دارد؟ <u>راه انداز</u></p> <p>ج. رونوشت کدام بخش های DNA در رنای پیک سیئوپلاسم حد نم شود <u>بیاب (اگزون)</u></p> <p>د. میزان رونویسی یک ژن به چه عاملی بستگی دارد؟ <u>به مقدار نیاز یاخته به فراورده های ژن بستگی دارد.</u></p> <p>ه. در فرآیند ترجمه، اولین رنای ناقل (tRNA) که وارد جایگاه P رناتن ریبوزوم می شود، ناقل کدام آمینواسید است؟ <u>آمینواسید متیونین</u></p> <p>و. با افزایش فشردگی در بخش هایی از فام تن کروموزوم، میزان بین ژن در این بخش ها چه تغییری می کند؟ <u>کاهش می یابد</u></p>	<p>شهریور ماه ۹۸ (خ)</p>
	<p>به سوالات زیر دربار فرآیند ترجمه پاس دهید</p> <p>الف. در مرحله آغاز ترجمه، کدام جایگاه در رناتن (ریبوزوم)، محل قرارگیری رنای ناقل (tRNA) متیونین است؟ <u>جایگاه P</u></p> <p>ب. در چه مرحله ای از ترجمه، جایگاه A توسط پروتئین هایی به نام عوامل آزاد کننده اشغال می شود؟ <u>مرحله پایان</u></p> <p>ج. چرا در یوکاریوت ها فرصت بیشتری برای پروتئین سازی است؟ <u>در این یاخته ها سازوکارهایی برای حفاظت رنای پیک در برابر تخریب وجود دارد.</u></p>	<p>دی ماه ۹۸</p>
	<p>شکل زیر تنظیم بیان ژن در یوکاریوت ها (هوسته ای ها) را نشان می دهد. نام بخش های مشخص شده (۱) و (۲) را بنویسید.</p> <p><u>۱. توالی افزاینده ۲. عوامل رونویسی</u></p>	<p>دی ماه ۹۸</p>
	<p>در مورد مراحل ترجمه (پروتئین سازی) به پرسش های زیر پاسخ دهید.</p> <p>الف. اولین رمزه (کدون) که در جایگاه P رناتن (ریبوزوم) قرار می گیرد، دارای چه توالی است؟ <u>AUG</u></p> <p>ب. در مرحله پایان، چه پروتئین هایی باعث جدا شدن زیر واحدهای رناتن از هم می شود؟ <u>عوامل آزاد کننده</u></p>	<p>خرداد ماه ۹۹</p>

	<p>در شکل روبرو (۲) را نام گذاری کنید. <u>رشته رمز گذار</u></p>	<p>خرداد ماه ۹۹</p>
<p>در مورد تنظیم بیان ژن در پروکاریوت ها و یوکاریوت ها به پرسش های زیر پاسخ دهید. الف. چرا در تنظیم منفی رونویسی، با اتصال لاکتو ب مها کننده ای پروتئیم دیگنم تواز به اپراتو متصه بماند <u>لاکتو ب اتصا ب مها کننده شک آ ر تغییر م دهد</u> ب. در چه صورت مقدار رونویسی ژن، تحت تاثیر عوامل رونویسی تغییر می کند؟ <u>چون تمایل پیوستن پروتئین ها به راه انداز در اثر عواملی تغییر می کنند مقدار رونویسی ژن آن هم تغییر می کند.</u></p>	<p>۳</p>	<p>خرداد ماه ۹۹</p>
<p>به پرسش های زیر پاسخ دهید. ج. یک تفاوت همانندسازی و رونویسی را بنویسید. <u>در رونویسی با توجه به نوکلئوتید های رشته دنا، نوکلئوتید های مکمل در زنجیره رنا قرار می گیرد و به هم متصل می شوند. در همانندسازی با توجه به نوکلئوتید های رشته دنا، نوکلئوتید های مکمل در زنجیره دنا قرار می گیرد</u> <u>به رخلا همانندسازی که ده چرخ یاختا به با انجا م شود رونویسی به ژ م تواز ده چرخ باره انجا شود</u> د. چگونه ممکن است از یاخته هایی با ژن های یکسان، یاخته هایی با عملکرد و شکل متفاوت ایجاد شوند؟ <u>در هر یاخته تنها تعدادی از ژنها فعال و سایر ژنها غیر فعال هستند.</u></p>	<p>۳ و ۱</p>	<p>خرداد ماه ۹۹</p>
<p>AUGUCAAAUCCGUGUUUUUAUCUGA <u>ATGTCAAATCCGTGTTTTATCTGA</u> <u>UAC</u> <u>UAG</u></p>	<p>با توجه به mRNA مقابل به پرسش های زیر پاسخ دهید. الف. رشته رمز گذار این mRNA را مشخص کنید. ب. اولین پادرمزه (آنتی کدون) جایگاه P را مشخص کنید. ج. آخرین پادرمزه جایگاه A را مشخص کنید.</p>	<p>خرداد ماه ۹۹ خ</p>
<p>شماره ۲ <u>تاخوردگی اولیه</u> <u>رنابسپارا پروکاریوت</u></p> 	<p>با توجه به شکل به پرسش ها پاسخ دهید. الف. تفاوت رناهای ناقل (tRNA) مربوط به کدام شماره در این مولکول است؟ ب. شکل تاخوردگی اولیه رنا ناقل را نشان می دهد یا ساختار سه بعدی آن را؟ ج. این مولکول در باکتری اشرشیا کلا توسته چه آنزیم ساخته م شود</p>	<p>خرداد ماه ۹۹ خ</p>
	<p>در مورد رونویسی به پرسش های زیر پاسخ دهید. الف. در یوکاریوت ها رنا پیک (mRNA) توسط کدام رنابسپاراز ساخته می شود؟ <u>رنابسپاراز ۲</u> ب. شکل مقابل کدام مرحله از رونویسی را نشان می دهد؟ <u>مرحله آغاز</u> ج. شماره ۱ را نام گذاری کنید. <u>رنابسپاراز</u></p>	<p>خرداد ماه ۹۹ خ</p>
<p>جایگاه A - <u>مرحله طویل شدن</u> <u>جایگاه A</u></p>	<p>در مورد فرایند ترجمه به پرسش های زیر پاسخ دهید. الف. پیوند پپتیدی در کدام جایگاه رناتن و در چه مرحله ای از ترجمه برقرار می شود؟ ب. در مرحله پایان ترجمه عوامل آزاد کننده وارد کدام جایگاه رناتن می شوند؟</p>	<p>خرداد ماه ۹۹ خ</p>
	<p>با توجه به شکل روبرو به پرسش ها پاسخ دهید. الف. کدام مرحله از رونویسی را نشان می دهد؟ <u>آغاز</u> ب. شماره های (۱) و (۲) را نام گذاری کنید. ۱. <u>راه انداز ۲. رنابسپاراز RNA پلی مرز</u></p>	<p>شهریور ماه ۹۹</p>
<p>چون هیچ</p>	<p>در مورد جریان اطلاعات یاخته ها به پرسش های زیر پاسخ دهید الف. چرا حضور رمزه (کدون) های UAG ، UAA ، UGA در رنا پیک، موجب پایان یافتن عمل ترجمه می شود؟ <u>آمینواسیدی را رمز نمی کنند.</u></p>	<p>شهریور ماه ۹۹</p>

		<p>ب. در هنگام ترجمه، توالی پادرمزه (انٹی کدون) با توالی رمزه مکمل خود چه پیوندی برقرار می کند؟ <u>پیوند هیدروژنی مناسب</u></p> <p>ج. اولین پیوند پپتیدی در کدام مرحله از مراحل ترجمه تشکیل می شود؟ <u>طویل شدن</u></p> <p>د. در یوکاریوت ها (هسته ای) عوامل رونویسی به چه بخش هایی از دنا ممکن است متصل شوند؟ <u>راه انداز و توالی افزاینده</u></p>
شهریور ماه ۹۹	۲	<p>به پرسش های زیر پاسخ دهید.</p> <p>د. پروتئین های ساخته شده در سیتوپلاسم که به شبکه آندوپلاسمی و دستگاه گلای ی روز، ه سرنوت های پیاپی کنند، <u>ممکن است برای ترشح به خارج رفته یا به بخش هایی مثل واکوئل (کریچه) و کافنده تن (لیزوزوم) بروند.</u></p>
دی ماه ۹۹	۲	<p>در مورد رناتن (ریبوزوم) به پرسش های زیر پاسخ دهید.</p> <p>الف. جنس هر زیر واحد آن از چیست؟ <u>رنا - پروتئین</u></p> <p>ب. در ساختار کامل چند جایگاه دارد؟ <u>سه جایگاه</u></p>
دی ماه ۹۹	۲	<p>در مورد ترجمه به پرسش های زیر پاسخ دهید.</p> <p>الف. فرآیند اتصال آمینواسید به رنای ناقل (tRNA) یک واکنش انرژی زا یا انرژی خواه است؟ <u>انرژی خواه</u></p> <p>ب. در مرحله طویل شدن، بعد از جابه جایی رناتن، رنای ناقل حامل رشته پپتیدی در کدام جایگاه قرار می گیرد؟ <u>جایگاه P</u></p>
دی ماه ۹۹	۳	<p>میزان فشردگی فام تن (کروموزوم) با میزان بیان ژن چه رابطه ای دارد؟</p> <p><u>به طور معمول بخش های فشرده فام تن کمتر در دسترس رناسپارازها قرار می گیرند و کمتر بیان می شوند.</u></p>
دی ماه ۹۹ (خ)	۱	<p>در ساختار نوکلئیک اسیدها باز آلی آدنین مکمل کدام بازها می تواند باشد؟ <u>باز آلی تیمین - باز آلی یوراسیل</u></p>
دی ماه ۹۹ (خ)	۱	<p>در مورد فرآیند ترجمه به پرسش های زیر پاسخ دهید.</p> <p>الف. در مرحله طویل شدن، در کدام جایگاه آمینواسید از رنای ناقل جدا می شود؟ <u>جایگاه P</u></p> <p>ب. نقش جایگاه E چیست؟ <u>محل خروج رنای ناقل بدون آمینواسید است.</u></p>
دی ماه ۹۹ (خ)	۲	<p>پروتئین ساخته شده در سیتوپلاسم که به شبکه آندوپلاسمی و دستگاه گلای ی روز، ه سرنوت های پیاپی کنند () و <u>ممکن است برای ترشح به خارج رفته یا به بخش هایی مثل واکوئل (کریچه) و کافنده تن بروند.</u></p>
دی ماه ۹۹ (خ)	۳	<p>در مورد تنظیم بیان ژن به پرسش های زیر پاسخ دهید.</p> <p>الف. در تنظیم منفی رونویسی در باکتری اشرشیا کلای مها کنند به چه بخش ا دز متص م شود <u>اپراتو</u></p> <p>ب. در یوکاریوت ها، عوامل رونویسی به چه بخش هایی از دنا می توانند متصل شوند؟ <u>راه انداز و توالی افزاینده</u></p>

فصل سوم: انتقال اطلاعات د نل ۵ (۱۱)ار نوت وردا ما ۲۵ نمر

سال طرح سوال	گفتار	متن سوال
* دی ماه ۹۷	*	درستی یا نادرستی هر یک از عبارات های زیر را بدون ذکر دلیل مشخص کنید. ج. صفات چند جایگاهی رخ نمودهای (فئوتیپ های) گسسته ای دارند. <u>نادرست</u>
خرداد ماه ۹۸	۲	د. در گل میمونی، با دیدن رنگ گل می توان ژن نمود (ژنوتیپ) آن را تشخیص داد. <u>درست</u>
شهریور ماه ۹۸	۱	ج. در گروه خونی ABO، دگره های (الل های) A و B نسبت به هم، هم توان هستند. <u>درست</u>
دی ماه ۹۸	۲	ب. نمی توان تنها از روی ژن ها، علت اندازه قد یک فرد را توضیح داد. <u>درست</u>
خرداد ماه ۹۸ (خ)	۱	د. گروه خونی فردی که Dd است، مثبت خواهد شد. <u>درست</u>
شهریور ماه ۹۸ (خ)	۲	ب. نمودار توزیع فراوانی رخ نمودهای (فئوتیپ های) رنگ نوعی ذرت شبیه زنگوله است. <u>درست</u>
خرداد ماه ۹۹ (خ)	۲	ب. بیماری فنیل کتونوری (PKU) به دلیل نبودن آنزیم سازنده آمینواسید فنیل آلانیه است <u>نادرست</u>
خرداد ماه ۹۹ (خ)	۱	د. در گل میمونی، رنگ گل با ژن نمود (ژنوتیپ) RW حالت حد واسط قرمز و سفید است. <u>درست</u>
دی ماه ۹۹ (خ)	۲	ج. گاهی می توان با تغییر عوامل محیطی، عوارض بیماری های ژنی را مهار کرد. <u>درست</u>
* دی ماه ۹۷	*	در هر یک از عبارات های زیر جای خالی را با کلمات مناسب پر کنید.
خرداد ماه ۹۸	۱	ج. D و d شکل های مختلف صفت Rh را تعیین می کنند. بین این دگره ها (الل ها) رابطه. <u>برقرار است. بارز و نهفتگی</u>
خرداد ماه ۹۸ (خ)	۱	ب. در گروه خونی ABO، بین دگره های (الل های) A و B رابطه. وجود دارد. <u>هم توانی</u>
خرداد ماه ۹۹	۱	ج. در گروه خونی ABO، بین دگره های (الل های) B و Q رابطه. برقرار است. <u>بارز و نهفتگی</u>
خرداد ماه ۹۹ (خ)	۱ A است. را داشته باشد، گروه خونی این فرد A فقط آنزیم ABO ج. اگر فردی برای گروه خونی
خرداد ماه ۹۹ (خ)	۱	ب. دگره صفت گروه های خونی ABO یک جایگاه مشخص از فام...تن...شماره. را به خود اختصاص داده اند. <u>۹</u>
شهریور ماه ۹۹	۲	(PKU) آنزیمی که آمینواسید فنیل آلانیه ر م توان تجزیه کند وجود ندارد..... <u>فنیه...کتونور</u> ب د بیمار
دی ماه ۹۹ (خ)	۲	ج. فرد با ژن نمود $X^H X^h$ که سالم است؛. نامیده می شود؛ زیرا می تواند ژن بیماری را به نسل بعد منتقل کند. <u>ناقل</u>
* خرداد ماه ۹۸	*	در هر یک از عبارات های زیر، جواب صحیح را از بین کلمات داخل پرانتز انتخاب کنید و در برگه پاسخ نامه بنویسید.
شهریور ماه ۹۸	۲	ج. نمودار توزیع فراوانی رخ نمودهای (پیوسته - غیر پیوسته) شبیه زنگوله است. <u>پیوسته</u>
دی ماه ۹۸	۲	ج. رنگ گل میمونی مثالی از صفات (تک جایگاهی - چند جایگاهی) است. <u>تک جایگاهی</u>
خرداد ماه ۹۸ (خ)	۱	ه. اگر پروتئین D در غشای گویچه های قرمز وجود داشته باشد، گروه خونی RH (مثبت - منفی) است. <u>مثبت</u>
شهریور ماه ۹۸ (خ)	۲	د. اگر نمودار توزیع فراوانی رخ نمودهای (فئوتیپ های) صفتی زنگوله ای باشد، آن صفت (چند جایگاهی - تک جایگاهی) است. <u>چند جایگاهی</u>
خرداد ماه ۹۹	۲	ج. اندازه قد صفتی (گسسته - پیوسته) است. <u>پیوسته</u>
خرداد ماه ۹۹ (خ)	۲	ج. در بیماری فنیل کتونوری، آنزیمی که آمینواسید فنیل آلانیه ر (<u>تجزیه کن</u> بساز) وجود ندارد <u>تجزیه کن</u>
خرداد ماه ۹۹ (خ)	۱	ج. از آمیزش دو گل میمونی صورتی، (دو - سه) نوع رخ نمود (فئوتیپ) در زاده ها مشاهده می شود. <u>سه</u>
خرداد ماه ۹۹ (خ)	۲	ج. نوعی ذرت صفتی با سه جایگاه ژنی دارد. در رخ نمودهای ناخالص، هر چه تعداد دگره های بارز بیشتر باشد، مقدار رنگ (سفید - قرمز) کمتر است. <u>سفید</u>
شهریور ماه ۹۹	۲	ج. در رابطه با رنگ نوعی ذرت، در رخ نمودهای ناخالص، هر چه تعداد دگره های بارز بیشتر باشد، مقدار رنگ قرمز (بیشتر - کمتر) است. <u>بیشتر</u>
دی ماه ۹۹ (خ)	۲	ج. در رابطه با رنگ نوعی ذرت، در رخ نمودهای ناخالص، هر چه تعداد دگره های بارز (بیشتر - کمتر) باشد، مقدار رنگ قرمز بیشتر است. <u>بیشتر</u>
* خرداد ماه ۹۹ (خ)	*	در پرسش های چهار گزینه ای زیر، گزینه درست را انتخاب کنید.
	۲	ب. نمودار توزیع فراوانی کدام یک شبیه زنگوله است؟ ۱. رنگ گل میمونی ۲. گروه خونی ABO ۳. صفت Rh ۴. <u>رنگ ذرت</u>
* دی ماه ۹۹	*	علت هر یک از موارد زیر را بنویسید.
	۲	ج. نوزادان در بدو تولد، از نظر ابتلا احتمالاً بیمار فنیه کتونوری به آنجا آزمایه خو بررسی م شوند

	<p>فنیل کتونوری یک بیماری نهفته است و وقتی نوزاد متولد می شود علام آشکار ندارد تغذیه نوزاد مبه ۴ ان بیماری ۱ شرم () ه حای فنه <u>آلانیه</u> ب آسیه باخته ها مغز ۱ م انجامد</p>										
دی ماه ۹۷	<p>۱ پدری گروه خونی O و مادری گروه خونی AB دارد. چه ژن نمودها (ژنوتیپ ها) و رخ نمودهایی (فنتوتیپ هایی) برای فرزندان آنان پیش بینی می کنید؟ (بدون ذکر راه حل) <u>AO: گروه خونی A و BO: گروه خونی B</u></p>										
دی ماه ۹۷	<p>۲ در مورد بیماری هموفیلی به پرسش های زیر پاسخ دهید. الف. دختر دارای ژن نمود (ژنوتیپ) $X^H X^h$ سالم است یا بیمار؟ <u>سالم</u> ب. شایع ترین نوع هموفیلی مربوط به فقدان چه ماده ای در بدن است؟ <u>فقدان عامل انعقادی VIII (هشت)</u></p>										
دی ماه ۹۷	<p>۲ در بیماری مبتلا به فنیل کتونور (PKU) کدام آنزیم وجود ندارد <u>در این بیماری آنزیمی که آمینو اسید فنیل آلانیه را متواز تجزیه کد وجود ندارد</u></p>										
خرداد ماه ۹۸	<p>۲ مردی هموفیل قصد دارد با زنی ازدواج کند که سالم است و ناقل هم نیست. چه ژن نمودها (ژنوتیپ ها) و رخ نمودهایی (فنتوتیپ هایی) برای فرزندان آنان پیش بینی می کنید؟ (بدون ذکر راه حل) <u>$X^H X^h$: دختر ناقل و $X^H Y$: پسر سالم</u></p>										
خرداد ماه ۹۸	<p>۲ او ۱ در مورد انتقال اطلاعات د نسه ه ب پرس ها زی پاس دهید الف. جایگاه ژنی گروه خونی Rh در کدام فام تن (کروموزوم) است؟ <u>فام تن شماره ۱</u> ب. صفت رنگ نوعی ذرت یک صفت چند جایگاهی است یا تک جایگاهی؟ <u>چند جایگاهی</u> ج. تغذیه نوزاد مبتلا به بیمار فنیل کتونور به شی مادر باع آسیه رسید به کدا یاخته ها بد ا م شود <u>یاخته ها مغز</u></p>										
خرداد ماه ۹۸ خ	<p>۱ پدری گروه خونی AB و مادری گروه خونی O دارد. چه ژن نمود (ژنوتیپ) و رخ نمودهایی (فنتوتیپ هایی) برای فرزندان آنان پیش بینی می کنید؟ (بدون نوشتن راه حل) <u>ژنوتیپ: AO و BO فنوتیپ: A و B</u></p>										
خرداد ماه ۹۸ خ	<p>۲ در مورد بیماری های ژنتیک به پرسش های زیر پاسخ دهید. الف. چرا در بیماری هموفیلی (وابسته به X) مرد ناقل وجود ندارد؟ <u>چون الل (دگره) بیماری فقط در کروموزوم X قرار گرفته و وجود و یا عدم وجود این دگره باعث بیماری یا عدم بیماری در فرد می گردد.</u> ب. در بیماری فنیل کتونوری، آنزیم تجزیه کننده کدام آمینو اسید وجود ندارد؟ <u>فنیل آلانیه</u></p>										
شهریور ماه ۹۸	<p>۱ پدری گروه خونی O و مادری گروه خونی AB دارد. چه ژن نمود (ژنوتیپ) و رخ نمودهایی (فنتوتیپ هایی) برای فرزندان آنان پیش بینی می کنید؟ (بدون ذکر راه حل) <u>AO: گروه خونی A و BO: گروه خونی B</u></p>										
شهریور ماه ۹۸	<p>به سوالات زیر دربار بیمار هموفیل پاسخ دهید الف. ژن نمود (ژنوتیپ) دختر ناقل بیماری هموفیلی را بنویسید. <u>$X^H X^h$</u> ب. کدام فام تن (کروموزوم) انسان جایگاهی برای دگره های هموفیلی ندارد؟ <u>فام تن Y</u></p>										
شهریور ماه ۹۸	<p>۲ چگونه می توان از بروز بیماری فنیل کتونوری (PKU) جلوگیری کرد؟ <u>۱ تغذیه نکردن از خوراکی هایی که فنیل آلانیه دارند متوا مانه برو ارا ای بیمار شد</u></p>										
شهریور ماه ۹۸ خ	<p>۲ مردی سالم قصد دارد با زنی هموفیل ازدواج کند. چه ژن نمود (ژنوتیپ) و رخ نمودهایی (فنتوتیپ هایی) برای فرزندان آنان پیش بینی می کنید؟ (بدون نوشتن راه حل) <u>ژن نمود: $X^H Y - X^H X^h$ رخ نمود: دختر ناقل - پسر بیمار</u></p>										
شهریور ماه ۹۸ خ	<p>۲ او ۱ در مورد انتقال اطلاعات د نسه ه ب پرس ها زی پاس دهید الف. اگر دو دگره (الل) D و d کنار هم قرار بگیرند، کدام یک از آنها بروز می کند؟ <u>الل D</u> ب. رنگ گل میمونی با ژن نمود RW چگونه است؟ <u>رنگ صورتی</u> ج. در گروه خونی ABO، فردی که هیچ کربوهیدراتی به غشای گلبول قرمز او اضافه نشده است، چه گروه خونی دارد؟ <u>گروه خونی O</u> د. بیمار فنیل کتونوی (PKU) آنزیم تجزیه کننده کدام آمینو اسید وجود ندارد؟ <u>فنیل آلانیه</u></p>										
دی ماه ۹۸	<p>۲ ژن نمودهایی (ژنوتیپ های) فرزندان حاصل از ازدواج مردی هموفیل با زنی ناقل هموفیلی را با رسم مربع پانت بنویسید.</p> <table border="1" data-bbox="475 1877 1088 1998"> <tr> <td data-bbox="475 1877 667 1921">Y</td> <td data-bbox="667 1877 865 1921">X^h</td> <td data-bbox="865 1877 1088 1921">گامت ها</td> </tr> <tr> <td data-bbox="475 1921 667 1966">$X^H Y$</td> <td data-bbox="667 1921 865 1966">$X^H X^h$</td> <td data-bbox="865 1921 1088 1966">X^H</td> </tr> <tr> <td data-bbox="475 1966 667 1998">$X^h Y$</td> <td data-bbox="667 1966 865 1998">$X^h X^h$</td> <td data-bbox="865 1966 1088 1998">X^h</td> </tr> </table>	Y	X^h	گامت ها	$X^H Y$	$X^H X^h$	X^H	$X^h Y$	$X^h X^h$	X^h	
Y	X^h	گامت ها									
$X^H Y$	$X^H X^h$	X^H									
$X^h Y$	$X^h X^h$	X^h									

دی ماه ۹۸	۲۰۱	<p>به سوالات زیر درباره انتقال اطلاعات رنل پاسخ دهید</p> <p>الف. در گروه خونی ABO، بین دو دگره (الل) A و O چه رابطه ای برقرار است؟</p> <p>ب. کدام رنگ گل میمونی نشان دهنده رابطه بارزیت ناقص بین دو دگره R و W است؟</p> <p>ج. در رنگ نوعی ذرت که یک صفت چند جایگاهی است، دگره های بارز چه رنگی را به وجود می آورند؟</p> <p>د. در بیماری فنیل کتونوری (PKU) تجمع چه ماده ای در بدن به ایجاد ترکیبات خطرناک منجر می شود؟</p> <p>رخ نمودهای (فنوتیپ های) زاده های حاصل از آمیزش دو گل میمونی صورتی را با رسم مربع پانت بنویسید.</p>									
خرداد ماه ۹۹	۱	<table border="1" style="margin-left: auto; margin-right: auto;"> <tr> <td>R</td> <td>W</td> <td>گامت ها</td> </tr> <tr> <td>RR قرمز</td> <td>RW صورتی</td> <td>R</td> </tr> <tr> <td>RW صورتی</td> <td>WW سفید</td> <td>W</td> </tr> </table>	R	W	گامت ها	RR قرمز	RW صورتی	R	RW صورتی	WW سفید	W
R	W	گامت ها									
RR قرمز	RW صورتی	R									
RW صورتی	WW سفید	W									
خرداد ماه ۹۹	۲۰۱	<p>در مورد انتقال اطلاعات دهنده پرسش ها زیر پاسخ دهید</p> <p>الف. اگر گروه خونی زن و شوهری Rh مثبت باشد و گروه خونی یکی از فرزندان آنها Rh منفی شود، زن نمود این والدین را بنویسید. <u>Dd</u></p> <p>ب. چرا در صفات وابسته به X ممکن نیست پدر ناقل باشد؟ <u>در فام تن Y جایگاهی برای دگره های زن های وابسته به X وجود ندارد.</u></p> <p>ج. در رابطه با رنگ نوعی ذرت، زن نمود (ژنوتیپ) ذرت های موجود در دو آستانه طیف یعنی قرمز و سفید را بنویسید. <u>رنگ قرمز AABBCC و رنگ سفید aabbcc</u></p>									
خرداد ماه ۹۹	۲۰۱	<p>به پرسش های زیر پاسخ دهید.</p> <p>ه. جایگاه زن های گروه خونی ABO در فام تن شماره چند است؟ <u>در فام تن شماره ۹ است</u></p> <p>و. علت شایع ترین نوع هموفیلی چیست؟ <u>شایع ترین نوع هموفیلی به فقدان عامل انعقادی VIII (هشت) مربوط است.</u></p>									
خرداد ماه ۹۹ (خ)	۱	<p>منظور از رابطه هم توانی بین دگره ها چیست؟ یک مثال برای آن ذکر کنید.</p> <p><u>در هم توانی، اثر دگره ها، همراه با هم ظاهر می شود. مثال دگره I^A و I^B در گروه خونی نسبت به یکدیگر هم توان می باشند.</u></p>									
خرداد ماه ۹۹ (خ)	۲	<p>زن و مردی سالم، پسری هموفیل با گروه خونی AB و دختری سالم با گروه خونی O دارند. (بدون ذکر راه حل)</p> <p>الف. زن نمود (ژنوتیپ) پدر و مادر را برای صفت هموفیلی بنویسید. <u>پدر: XY مادر: X^hX^h</u></p> <p>ب. رخ نمود (فنوتیپ) گروه خونی پدر و مادر چیست؟ <u>گروه خونی A و B</u></p>									
خرداد ماه ۹۹ (خ)	۲	<p>مردی سالم قصد دارد با زنی هموفیل ازدواج کند. چه زن نمود و رخ نمودهایی برای فرزندان آنان پیش بینی می کنید؟ (بدون ذکر راه حل)</p> <p><u>ژن نمود: $X^hY - X^hX^h$ رخ نمود: پسر هموفیل - دختر ناقل</u></p>									
خرداد ماه ۹۹ (خ)	۲	<p>در مورد انتقال اطلاعات دهنده پرسش ها زیر پاسخ دهید</p> <p>الف. اندازه قد انسان صفتی گسسته است یا پیوسته؟ <u>پیوسته</u></p> <p>ب. ساخته شدن سبزینه در گیاهان علاوه بر چ چیز نیا دارد <u>نو</u></p> <p>ج. در بدن افراد مبتلا به بیمار فنیل کتونور کدا آنزیم وجود ندارد <u>آنزیم تجزیه کننده اسید آمینه فنیل آلانین</u></p>									
شهریور ماه ۹۹	۱	<p>در مورد صفات گروه های خونی ABO و Rh به پرسش های زیر پاسخ دهید.</p> <p>الف. جایگاه ژنی کدام یک از صفات فوق در فام تن (کروموزوم) شماره ۹ است؟ <u>گروه خونی ABO</u></p> <p>ب. زن نمود (ژنوتیپ) فردی با گروه خونی O منفی را بنویسید. <u>OOdd</u></p> <p>ج. چه رابطه ای بین دگره (الل) A و B وجود دارد؟ <u>هم توانی</u></p>									
شهریور ماه ۹۹	۲	<p>زن و مردی سالم صاحب فرزندی هموفیل شده اند. با توجه به این که هموفیلی یک بیماری وابسته به X و نهفته است</p> <p>الف. جنسیت فرزند هموفیل را مشخص کنید. <u>پسر</u></p> <p>ب. زن نمود (ژنوتیپ) والد ناقل را بنویسید. <u>X^HX^h</u></p> <p>ج. احتمال تولد کدامیک، دختر هموفیل یا پسر سالم در این خانواده وجود ندارد؟ <u>دختر هموفیل</u></p>									
شهریور ماه ۹۹	*	<p>به پرسش های زیر پاسخ دهید.</p> <p>ه. رنگ گل میمونی RW چگونه است؟ <u>صورتی</u></p>									

	۲	و. اندازه قد انسان صفتی پیوسته یا گسسته است؟ <u>پیوسته</u>									
دی ماه ۹۹	۱	<p>در مورد انتقال اطلاعات دندس ه ب پرس ها زیر پاس دهید</p> <p>الف. پیش از کشف قوانین وراثت، چه تصویری در مورد رابطه بین صفات والدین و فرزندان وجود داشت؟</p> <p><u>صفات فرزندان، آمیخته ای از صفات والدین و حد واسطی از آنهاست.</u></p> <p>ب. انواع ژن نمود (ژنوتیپ) های گروه خونی Rh را بنویسید. <u>DD, Dd, dd</u></p>									
دی ماه ۹۹	۲	<p>زن و مردی سالم از نظر بیماری هموفیلی، پسری هموفیل دارند.</p> <p>الف. ژن نمود این زن و مرد را برای هموفیلی بنویسید. <u>$X^{HY} - X^{Hx^h}$</u></p> <p>ب. اگر این زن و مرد صاحب فرزند دختری شوند، ژن نمودهای احتمالی این دختر را برای هموفیلی بنویسید. <u>$X^{HX^H} - X^{HX^h}$</u></p>									
دی ماه ۹۹ (خ)	۱	<p>در مورد شکل روبرو به پرسش های زیر پاسخ دهید.</p> <p>الف. رخ نمود (فنوتیپ) این گویچه قرمز برای گروه خونی Rh چیست؟ <u>Rh مثبت</u></p> <p>ب. ژن نمود (ژنوتیپ) های احتمالی فردی که دارای این گویچه قرمز است را بنویسید. <u>DD - Dd</u></p>									
دی ماه ۹۹ (خ)	۱	<p>ژن نمود و رخ نمودهای زاده های حاصل از آمیزش گل میمونی صورتی و قرمز را با رسم مربع پانت به دست آورید.</p> <table border="1" data-bbox="236 752 849 958"> <tr> <td data-bbox="236 752 427 797">R</td> <td data-bbox="427 752 609 797">R</td> <td data-bbox="609 752 849 797">گامت ها</td> </tr> <tr> <td data-bbox="236 797 427 878">RR قرمز</td> <td data-bbox="427 797 609 878">RR قرمز</td> <td data-bbox="609 797 849 878">R</td> </tr> <tr> <td data-bbox="236 878 427 958">RW صورتی</td> <td data-bbox="427 878 609 958">RW صورتی</td> <td data-bbox="609 878 849 958">W</td> </tr> </table>	R	R	گامت ها	RR قرمز	RR قرمز	R	RW صورتی	RW صورتی	W
R	R	گامت ها									
RR قرمز	RR قرمز	R									
RW صورتی	RW صورتی	W									



فصل چهارم: تغییر در اطلاعات وراثت (ار نوت ردا ما ۲۵ نمر)

سال طرح سوال	گفتار	متن سوال
*	*	درستی یا نادرستی هر یک از عبارات های زیر را بدون ذکر دلیل مشخص کنید.
دی ماه ۹۷	۲	د. هر چه اندازه یک جمعیت بزرگ تر باشد، رانش دگره ای اثر بیشتری دارد. <u>نادرست</u>
خرداد ماه ۹۸	۲	ه. علت مقاوم شدن باکتری ها به پادزیست ها (آنتی بیوتیک ها)، انتخاب طبیعی است. <u>درست</u>
شهریور ماه ۹۸	۲	د. جهش، با افزودن دگره های جدید، خزانه ژن را غنی تر می کند و گوناگونی را افزایش می دهد. <u>درست</u>
خرداد ماه ۹۸ (خ)	۲	ه. آمیزش تصادفی آمیزشی است که در آن احتمال آمیزش هر فرد با افراد جنس دیگر در آن جمعیت یکسان باشد. <u>درست</u>
شهریور ماه ۹۸ (خ)	۱	ج. در مناطقی که مصرف غذاهای نمک سود یا دودی شده رایج است، سرطان شیوع بیشتری دارد. <u>درست</u>
خرداد ماه ۹۹	۳	د. گیاه گل مغربی سه لا (تریپلویا) n ((یک گیاه زیستا و زایا است. <u>نادرست</u>
خرداد ماه ۹۹ (خ)	۲	ج. هر چه اندازه یک جمعیت بزرگ تر باشد، رانش دگره ای (اللی) اثر بیشتری دارد. <u>نادرست</u>
خرداد ماه ۹۹ (خ)	۲	ه. برای آن که جمعیتی در حال تعادل باشد، لازمه آمیزش د آ غی تصادف باشند <u>نادرست</u>
شهریور ماه ۹۹	۱	د. جهش های اضافه و حذف، الزاماً به تغییر چارچوب خواندن می انجامند. <u>نادرست</u>
دی ماه ۹۹	۱	ج. جهش جانیشینی همیشه باعث تغییر در توالی آمینواسیدها می شود. <u>نادرست</u>
دی ماه ۹۹ (خ)	۲	د. انتخاب طبیعی می تواند علت مقاوم شدن باکتری ها به پادزیست ها را توضیح دهد. <u>درست</u>
*	*	در هر یک از عبارات های زیر جای خالی را با کلمات مناسب پر کنید.
دی ماه ۹۷	۳	د. پیدایش گیاهان چندلا د (پل پلویید) ... ملا... بخوبی... گونه... زاید است <u>هم میهن</u>
خرداد ماه ۹۸	۱	ج. از مواد شیمیایی جهش زا می... توان... به... اشاره کرد که در دود سیگار وجود دارد. <u>بنزوپیرن</u>
خرداد ماه ۹۸	۲	د. به فرآیندی که باعث تغییر فراوانی دگره ای بر اثر رویدادهای تصادفی می... شود... می گویند. <u>رانش دگره ای</u>
شهریور ماه ۹۸	۲	ب. مجموع همه دگره های موجود در همه جایگاه های ژنی افراد یک... جمعیت... را... آن جمعیت می نامند. <u>خزانه ژنی</u>
خرداد ماه ۹۸ (خ)	۳	د. در... گونه... زاید... ، جدایی جغرافیایی رخ نمی دهد. <u>هم میهنی</u>
شهریور ماه ۹۸ (خ)	۳	ج. در... گونه... زاید... جدایی جغرافیایی رخ نمی دهد. <u>هم میهنی</u>
خرداد ماه ۹۹ (خ)	۱	ج. جهش در راه انداز یا افزایشده، بر توالی پروتئین اثری نخواهد داشت... بلکه... آن تاثیر می گذارد. <u>مقدار</u>
خرداد ماه ۹۹ (خ)	۲	د. مجموع همه دگره های موجود در همه جایگاه های ژنی افراد یک... جمعیت... را... آن جمعیت می نامند. <u>خزانه ژنی</u>
شهریور ماه ۹۹	۱	ج. اگر جهش، سبب تغییر در نوع آمینواسید در زنجیره پلی پپتیدی شود، این نوع جهش جانیشینی... و... جهش... می نامند. <u>دگر معنا</u>
شهریور ماه ۹۹	۱	د. وجود یک فام تن (کروموزوم) ۲۱ اضافی در مبتلا یا نشانگان... داون... ملا... انا... جنا... <u>عدد</u>
دی ماه ۹۹	۱	ب. به مجموع محتوای ماده وراثتی هسته ای... سیستوپلاسمی... کگفته م شود <u>ژنگا (ژنو)</u>
دی ماه ۹۹ (خ)	۱	د. در ژنگان... (ژنوم)... انسلان... ژنگان سیستوپلاسم ر تشکیر م دهد <u>دنا راکیز</u>
*	*	در هر یک از عبارات های زیر، جواب صحیح را از بین کلمات داخل پرانتز انتخاب کنید و در بر گه پاسخ نامه بنویسید.
خرداد ماه ۹۸	۳	د. در گونه زایی (دگر میهنی - هم میهنی) جدایی جغرافیایی رخ می دهد. <u>دگر میهنی</u>
شهریور ماه ۹۸	۲	د. برای آن که جمعیتی در حال تعادل باشد، لازمه آمیزش د آ (تصادف غیر تصادف) باشند <u>تصادف</u>
خرداد ماه ۹۸ (خ)	۲	ه. انگل بیماری مالا رینم تواز د افرا (Hb ^A Hb ^S - Hb ^A Hb ^A) سبب بیماری می شود. <u>Hb^A Hb^S</u>
شهریور ماه ۹۸ (خ)	۱	د. اگر جهش در توالی های (بین ژنی - درون ژنی) رخ دهد، در این صورت بر توالی محصول ژن، اثری نخواهد گذاشت. <u>بین ژنی</u>
خرداد ماه ۹۹	۲	د. در چلیپایی شدن کراسینگ اور، قطعه ای از فام تن بین فامینک های (خواهری - غیر خواهری) مبادله می شود. <u>غیر خواهری</u>
خرداد ماه ۹۹ (خ)	۱	د. اگر جهت گیری قسمتی از یک فام تن کروموزوم) در جای خود معکوس شود، جهش (جا به جای - واژگونی) نام دارد. <u>واژگونی</u>
خرداد ماه ۹۹ (خ)	۳	د. پیدایش گیاهان چندلا د (پل پلویید) (ملا خوبا گوز زاید) دگ میهن <u>هم میهن</u> است
شهریور ماه ۹۹	۱	د. گاهی جهش در یکی از توالی های تنظیمی رخ می دهد، این جهش بر (توالی - مقدار) پروتئین اثری نخواهد داشت. <u>توالی</u>
شهریور ماه ۹۹	۳	ه. دلفین با (شیر کوهی - کوسه) خویشاوندی نزدیک تری دارد، بنابراین در یک گروه قرار می گیرند. <u>شیر کوهی</u>
دی ماه ۹۹	۱	ج. در زنجیره بتای هموگلوبین طبیعی، رمز مربوط به ششمین آمینواسید، (CAT - CTT) است. <u>CTT</u>
دی ماه ۹۹ (خ)	۲	د. اگر آمیزش ها به رخ نمود یا ژن نمود بستگی داشته باشد، آمیزش (تصادفی - غیر تصادفی) است. <u>غیر تصادفی</u>

<p>* خرداد ماه ۹۸</p> <p>شهریور ماه ۹۸</p> <p>دی ماه ۹۸</p> <p>خرداد ماه ۹۸ (خ)</p> <p>شهریور ماه ۹۸ (خ)</p> <p>خرداد ماه ۹۹ (خ)</p> <p>خرداد ماه ۹۹ (خ)</p> <p>دی ماه ۹۹ (خ)</p>	<p>* ۳</p> <p>۳</p> <p>۲</p> <p>۳</p> <p>۱</p> <p>۱</p> <p>۳</p> <p>۳</p>	<p>اصطلاحاً زیر تعریف کنید</p> <p>ب. ساختار آنالوگ <u>ساختارهایی را که کار یکسان اما طرح متفاوت دارند، ساختارهای آنالوگ می نامند.</u></p> <p>الف. اندام یا ساختارهای همتا <u>اندام هایی را که طرح ساختاری آنها یکسان است، با این که کار متفاوتی دارند "اندام یا ساختارهای همتا" می نامند.</u></p> <p>الف. انتخاب طبیعی <u>به فرآیندی را که در آن افراد سازگارتر با محیط انتخاب می شوند یعنی آنهایی که شانس بیشتری برای زنده ماندن و تولید مثل دارند، انتخاب طبیعی می نامند.</u></p> <p>ب. ساختارهای وستیجیال <u>به ساختارهایی که در یک عده بسیار کارآمد بوده اما در عده دیگر کوچک یا ساده شده و حتی ممکن است فاقد کار خاصی باشند.</u></p> <p>الف. جهش خاموش <u>گاهی جهش، رمز یک آمینواسید را به رمز دیگری برای همان آمینواسید تبدیل می کند. این نوع جهش تأثیری بر پروتئین نخواهد گذاشت. چنین جهشی را جهش خاموش می نامند.</u></p> <p>الف. جهش خاموش <u>گاهی جهش، رمز یک آمینواسید را به رمز دیگری برای همان آمینواسید تبدیل می کند. این نوع جهش تأثیری بر پروتئین نخواهد گذاشت. چنین جهشی را جهش خاموش می نامند.</u></p> <p>ب. ساختارهای همتا <u>اندام هایی را که طرح ساختاری آنها یکسان است، حتی اگر کار متفاوتی انجام دهند، ساختارهای همتا می نامند.</u></p> <p>الف. گونه زایی هم میهنی <u>گاهی بین جمعیت هایی که در یک زیستگاه زندگی می کنند، جدایی تولید مثلی اتفاق می افتد و در نتیجه، گونه جدیدی حاصل می شود. این نوع گونه زایی را گونه زایی هم میهنی می نامند.</u></p>
<p>* خرداد ماه ۹۹ (خ)</p>	<p>* ۱</p>	<p>به پرسش های زیر پاسخ کوتاه دهید.</p> <p>ج. بنزوپیرن موجود در دود سیگار جز کدام عوامل جهش زا است؟ <u>شیمیایی</u></p>
<p>دی ماه ۹۷</p>	<p>۱</p>	<p>در مورد تغییر در ماده وراثتی جانداران به پرسش های زیر پاسخ دهید.</p> <p>الف. کدام نوع جهش کوچک باعث ایجاد گویچه های قرمز داسی شکل می شود؟</p> <p>ب. کدام دنا (DNA)، ژنگان سیتوپلاسمی را در ژنگان انسا تشکیه می دهد</p> <p>ج. بنزوپیرن که در دود سیگار وجود دارد یک عامل جهش زای فیزیکی است یا شیمیایی؟</p> <p>د. چه ترکیباتی برای ماندگاری محصولا پروتئین مل سوسیه کالبا به آنها اضافه می شود</p> <p><u>جهش جانشینی</u> <u>دنا را کیز</u> <u>شیمیایی</u> <u>ترکیبانیتری دا</u></p>
<p>دی ماه ۹۷</p>	<p>۳ و ۲</p>	<p>در مورد تغییر در جمعیت ها و گونه ها به پرسش های زیر پاسخ دهید.</p> <p>الف. چرا افراد دارای ژن نمود ناخالص $Hb^A Hb^S$ در برابر مالا ری مقاو اند</p> <p><u>این انگل نمی تواند در افراد $Hb^A Hb^S$ سبب بیماری شود چون وقتی این گویچه ها را آلوده می کند، شکل آنها داسی شکل می شود و انگل می میرد.</u></p> <p>ب. اندام هایی که طرح ساختاری آنها یکسان است، و کار متفاوتی دارند، چه نامیده می شوند؟ <u>اندام ها یا ساختارهای همتا</u></p> <p>ج. بقایای پا در لگن مار پیتون نشان دهنده چه نوع ساختارهایی است؟ <u>ساختارهای وستیجیال</u></p>
<p>خرداد ماه ۹۸</p>	<p>۱</p>	<p>در مورد تغییر در ماده وراثتی جانداران به پرسش های زیر پاسخ دهید.</p> <p>الف. اگر رمز یک آمینواسید به رمز دیگری برای همان آمینواسید تبدیل شود و تأثیری بر پروتئین نگذارد، چه نوع جهش جانشینی رخ داده است؟ <u>جهش خاموش</u></p> <p>ب. ژنگان (ژنوم) هسته ای انسان شامل چند فام تن (کروموزوم) غیر جنسی است؟ <u>۲۲ فام تن (کروموزوم) غیر جنسی</u></p>
<p>خرداد ماه ۹۸</p>	<p>۲</p>	<p>چرا انگل بیماری مالا ری در افراد بژ نمو $Hb^A Hb^S$ نمی تواند باعث بیماری شود؟</p> <p><u>چون وقتی این گویچه ها را آلوده می کند، شکل آنها داسی شکل می شود و انگل می میرد.</u></p>
<p>خرداد ماه ۹۸ (خ)</p>	<p>۱ و ۳</p>	<p>در مورد <u>تغییر در اطلاعات وراثتی</u> به پرسش های زیر پاسخ دهید</p> <p>الف. کدام جهش از نوع ناهنجاری فام تنی، باعث ایجاد افراد مبتلا به نشانگا (سندر) داو می شود <u>ناهنجار عدد</u></p> <p>ب. در چه صورت با وجود ایجاد جهش در یک آنزیم، احتمال تغییر در عملکرد آن آنزیم کم یا حتی صفر است؟ <u>جهش در یکی از توالی های تنظیمی ژن مانند راه انداز یا افزایشنده</u></p> <p>ج. چرا ترکیبات نیتريت دار مانند سدیم نیتريت، به سوسیس و کالباس اضافه می شود؟ <u>به دلیل وجود نیای مشترکی که دارند.</u></p>
<p>شهریور ماه ۹۸</p>	<p>۱ و ۳ و ۲</p>	<p>به سوالا زیر دربار تغییر در اطلاعات وراثتی پاسخ دهید</p> <p>الف. اگر در جهش جانشینی، رمز یک آمینواسید به رمز پایانی ترجمه تبدیل شود، در این صورت طول پلی پپتید حاصل از آن، چه تغییری می کند؟ <u>پلی پپتید حاصل از آن، کوتاه خواهد شد.</u></p>

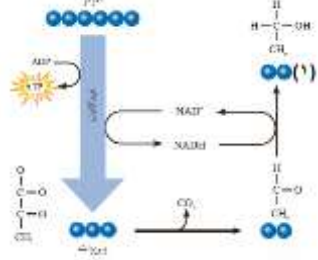
		<p>ب. جهش در چه توالی هایی از ژن می تواند بر مقدار ساخت پروتئین موثر باشد؟ <u>توالی های تنظیمی ژن یا راه انداز یا افزایشنده</u></p> <p>ج. یک عامل جهش زای فیزیکی نام ببرید که باعث تشکیل دوپار (دیمر) تیمین می شود؟ <u>پرتوی فرابنفش</u></p> <p>د. گویچه های قرمز افراد با ژن نمود ناخالص $Hb^A Hb^S$ چه زمانی داسی شکل می شوند؟ <u>مقدار اکسیژن محیط کم باشد.</u></p> <p>ه. در کدام گونه زایی جدایی جغرافیایی رخ می دهد؟ <u>گونه زایی دگر میهنی</u></p>												
شهریور ماه ۹۸ خ	۳ و ۱	<p>در مورد تغییر در اطلاعات وراثت به پرس ها زیر پاسخ دهید</p> <p>الف. چه نوع ناهنجاری فام تنی باعث ایجاد بیماری نشانگان داون می شود؟ <u>ناهنجاری عددی</u></p> <p>ب. به فرایندی که باعث تغییر فراوانی دگره ای بر اثر رویدادهای تصادفی می شود، چه می گویند؟ <u>رانس دگره ای</u></p> <p>ج. چرا افراد $Hb^A Hb^S$ در برابر مالاریه مقاوم اند <u>چون وقت ای گویچه ها را آلوده کند آنها شکار انگه میگرد</u></p> <p>د. علت وجود ساختارهای همتا در گونه های متفاوت چیست؟ <u>به دلیل وجود نیای مشترکی که دارند.</u></p>												
دی ماه ۹۸	۱	<p>هریک از موارد ستون "A" با یکی از عبارت های ستون "B" ارتباط دارد. آنها را مشخص کنید و در برگه پاسخ نامه بنویسید.</p> <table border="1"> <thead> <tr> <th>"B"</th> <th>"A"</th> </tr> </thead> <tbody> <tr> <td>الف. ناهنجاری ساختاری در فام تن (کروموزوم)</td> <td>۱. کم خونی ناشی از گویچه های قرمز داسی شکل</td> </tr> <tr> <td>ب. جهش ارثی</td> <td>۲. نشانگان داون</td> </tr> <tr> <td>ج. جهش جانشینی</td> <td>۳. جهش در گامت ها (کامه ها)</td> </tr> <tr> <td>د. جهش خاموش</td> <td>۴. واژگونی</td> </tr> <tr> <td>ه. ناهنجاری عددی در فام تن (کروموزوم)</td> <td></td> </tr> </tbody> </table> <p>۱. ج - جهش جانشینی ۲. ه - ناهنجاری عددی در فام تن ۳. ب - جهش ارثی ۴. الف - ناهنجاری ساختاری در فام تن</p>	"B"	"A"	الف. ناهنجاری ساختاری در فام تن (کروموزوم)	۱. کم خونی ناشی از گویچه های قرمز داسی شکل	ب. جهش ارثی	۲. نشانگان داون	ج. جهش جانشینی	۳. جهش در گامت ها (کامه ها)	د. جهش خاموش	۴. واژگونی	ه. ناهنجاری عددی در فام تن (کروموزوم)	
"B"	"A"													
الف. ناهنجاری ساختاری در فام تن (کروموزوم)	۱. کم خونی ناشی از گویچه های قرمز داسی شکل													
ب. جهش ارثی	۲. نشانگان داون													
ج. جهش جانشینی	۳. جهش در گامت ها (کامه ها)													
د. جهش خاموش	۴. واژگونی													
ه. ناهنجاری عددی در فام تن (کروموزوم)														
دی ماه ۹۸	۳ و ۲	<p>به سوالا زیر دربار تغییر د جمعیه گون ه پاسه دهید</p> <p>الف. وجود چه دگره ای، باعث بقای جمعیت انسان در مناطق مالا ریاحینسه بسایه مناط م شود <u>Hb^S</u></p> <p>ب. به ساختارهایی که نشان می دهند، برای پاسخ به یک نیاز، جانداران به روش های مختلفی سازش پیدا کرده اند، چه می گویند؟ <u>ساختارهای آنالوگ</u></p> <p>ج. در کدام گونه زایی، جدایی جغرافیایی رخ می دهد؟ <u>گونه زایی دگر میهنی</u></p> <p>د. چه عاملی باعث ایجاد گیاهان چندلاد (پد پلویید) م شود <u>خطا میوز (کاستماز)</u></p>												
خرداد ماه ۹۹	۱	<p>جهش بی معنا را تعریف کنید. <u>اگر جهش جانشینی رمز یک آمینواسید را به رمز پایان ترجمه تبدیل کند که در این صورت پلی پپتید حاصل از آن، کوتاه خواهد شد. به این جهش بی معنا می گویند.</u></p>												
خرداد ماه ۹۹	۳ و ۱	<p>در مورد تغییر در اطلاعات وراثت به پرس ها زیر پاسخ دهید</p> <p>الف. زیست شناسان چگونه می توانند از وجود ناهنجاری های فام تنی (کروموزومی) آگاه شوند؟ <u>با مشاهده کاریوتیپ</u></p> <p>ب. یک عامل جهش زای شیمیایی نام ببرید که در دود سیگار وجود دارد؟ <u>بنزوپیرن</u></p> <p>ج. در کدام عامل برهم زننده تعادل جمعیت ها، رویدادهای تصادفی نقش دارند؟ <u>رانس دگره ای</u></p> <p>د. کدام ژن نمود بیماری کم خونی داسی شکل، به بیماری مالا ریه مقاوم است <u>$Hb^A Hb^S$</u></p> <p>ه. یک مثال برای ساختارهای وستیجیال بنویسید. <u>بقایای پا در لگن مار پیتون</u></p>												
خرداد ماه ۹۹	۲ و ۱	<p>به پرسش های زیر پاسخ دهید.</p> <p>الف. به کل محتوای ماده وراثتی چه می گویند؟ <u>ژنگان (ژنوم)</u></p> <p>ب. در چه صورت با شارش ژن، خزانه ژن دو جمعیت به هم شبیه می شود؟ <u>اگر بین دو جمعیت، شارش ژن به طور پیوسته و دوسویه ادامه یابد، سرانجام خزانه ژن دو جمعیت به هم شبیه می شود.</u></p>												
خرداد ماه ۹۹ خ	*	<p>به پرسش های زیر پاسخ دهید.</p> <p>الف. طبق قرارداد ژنگان هسته ای انسان شامل کدام فام تن ها (کروموزوم ها) است؟ <u>۲۲ فام تن غیرجنسی + فام تن های جنسی X و Y</u></p> <p>ب. منظور از جدایی تولیدمثلی چیست؟ <u>منظور از جدایی تولید مثلی، عواملی است که مانع آمیزش بعضی از افراد یک گونه با بعضی دیگر از افراد همان گونه می شوند.</u></p>												
خرداد ماه ۹۹ خ	۱	<p>در مورد تغییر در ماده وراثتی جانداران به پرسش های زیر پاسخ دهید.</p> <p>الف. اگر جهش سبب تغییر در نوع آمینواسید در زنجیره پلی پپتیدی شده باشد، چه نوع جهش جانشینی رخ داده است؟ <u>جهش دگر معنا</u></p>												

		ب. دناى کدام اندامک، ژنگان سیتوپلاسم ر دژنگا انسا تشکيه م دهد <u>دنا راکيز</u>								
خرداد ماه ۹۹	۲	چرا انگل بیماری مالاریه د فراد بژنمو $Hb^A Hb^S$ نمى تواند باعث بیماری شود؟ <u>چون وقتى اين گويچه ها را آلوده مى کند، آنها داسى شکل اند و انگل مى ميرد.</u>								
شهریور ماه ۹۹	۳ و ۲	در مورد تغییر در اطلاعات وراثت ب پرسه ها زیه پاسه دهید الف. از عواملی که باعث می شوند جمعیت از حال تعادل خارج شود، دو مورد نام ببرید. <u>جهش، رانش دگره ای، شارش ژن، آمیزش غیر تصادفی، انتخاب طبیعی</u> ب. با مطالعه توزیع بیماری کم خونی داسی در جهان، فراوانی دگره Hb^S در چه مناطقی بسیار بیشتر از سایر مناطق است؟ <u>در مناطقی که مالاریه شایه است</u> ج. به ساختارهایی که نشان می دهند، برای پاسخ به یک نیاز، جانداران به روش های مختلفی سازش پیدا کرده اند، چه می گویند؟ <u>ساختارهای آنالوگ</u> د. انواع گونه زایی را نام ببرید. <u>گونه زایی هم میهنی و گونه زایی دگر میهنی</u>								
شهریور ماه ۹۹	*	به پرسش های زیر پاسخ دهید.								
	۱	الف. ژنگان هسته ای انسان شامل چند فام تن غیر جنسی است؟ <u>۲۲ فام تن غیر جنسی</u>								
	۳	ب. چرا از خودلقاحی گل مغربی چارلا (تتراپلویا) $4n$ ، گیاهی زایا ایجاد می شود؟ <u>یاخته تخن خواهد بود و گیاهی که از آن ایجاد می شود، قادر به میوز بوده، بنابراین زایاست.</u>								
دی ماه ۹۹	۲	علت مقاوم شدن باکتری ها به پادزیست ها در نتیجه انتخاب طبیعی را بنویسید. <u>باکتری های غیر مقاوم بر اثر پادزیست ها از بین می روند و باکتری های مقاوم تکثیر می شوند و به تدریج همه جمعیت را به خود اختصاص می دهند؛ در نتیجه جمعیت از غیر مقاوم به مقاوم تغییر می یابد.</u>								
دی ماه ۹۹	۲	شکل زیر کدام عامل برهم زننده تعادل جمعیت را نشان می دهد؟ <u>رانش دگره ای</u>								
										
دی ماه ۹۹	۳	در جدول زیر، هر یک از عبارت های ستون "الف" با یکی از موارد ستون "ب" ارتباط دارند. آنها را پیدا کنید و در بر گه پاسخ نامه بنویسید.								
		<table border="1"> <thead> <tr> <th>"الف"</th> <th>"ب"</th> </tr> </thead> <tbody> <tr> <td>الف. رد پای تغییر گونه ها</td> <td>۱. ساختارهای همتا</td> </tr> <tr> <td>ب. کار یکسان و طرح ساختاری متفاوت</td> <td>۲. ساختارهای آنالوگ</td> </tr> <tr> <td>ج. طرح ساختاری یکسان و کار متفاوت</td> <td>۳. ساختارهای وستیجال</td> </tr> </tbody> </table>	"الف"	"ب"	الف. رد پای تغییر گونه ها	۱. ساختارهای همتا	ب. کار یکسان و طرح ساختاری متفاوت	۲. ساختارهای آنالوگ	ج. طرح ساختاری یکسان و کار متفاوت	۳. ساختارهای وستیجال
"الف"	"ب"									
الف. رد پای تغییر گونه ها	۱. ساختارهای همتا									
ب. کار یکسان و طرح ساختاری متفاوت	۲. ساختارهای آنالوگ									
ج. طرح ساختاری یکسان و کار متفاوت	۳. ساختارهای وستیجال									
		الف. ۳. ساختارهای وستیجال ب. ۲. ساختارهای آنالوگ ج. ۱. ساختارهای همتا								
دی ماه ۹۹ (خ)	۱ و ۲	در مورد تغییر در اطلاعات وراثت ب پرسه ها زیه پاسه دهید الف. یک بیماری که در اثر جهش جانشینی به وجود می آید را بنویسید. <u>کم خونی داسی شکل</u> ب. چرا نباید تصور کرد که جهش جانشینی همیشه باعث تغییر در توالی آمینواسیدها می شود؟ <u>گاهی جهش، رمز یک آمینواسید را به رمز دیگری برای همان آمینواسید تبدیل می کند.</u> ج. وجود چه دگره ای (الی) باعث بقای جمعیت انسان در مناطق مالاریه خرنسبه بسایه مناط چیست <u>$Hb^A Hb^S$</u>								

فصل پنجم : از ماده به انرژی (بارم نوبت خرداد ماه ۲,۵ نمره)

سال طرح سوال	گفتار	متن سوال
*	*	درستی یا نادرستی هر یک از عبارات های زیر را بدون ذکر دلیل مشخص کنید.
شهریور ماه ۹۸	۲	ه. ساخته شدن ATP در زنجیره انتقال الکترون در راکیزه (میتو کندری)، از نوع ساخته شدن ATP در سطح پیش ماده است. <u>نادرست</u>
دی ماه ۹۸	۱	ج. پیرووات از طریق انتشار وارد راکیزه (میتو کندری) می شود و در آنجا اکسایش می یابد. <u>نادرست</u>
شهریور ماه ۹۸ (خ)	۳	د. تخمیر الکلی در تولید خیار شور نقش دارد. <u>نادرست</u>
خرداد ماه ۹۹	۱	ه. راکیزه (میتو کندری) همراه با یاخته و نیز مستقل از آن تقسیم می شود. <u>درست</u>
خرداد ماه ۹۹ (خ)	۱	د. راکیزه (میتو کندری) برای ساخت پروتئین های مورد نیاز در تنفس یاخته ای، به ژن های هسته ای نیز وابسته است. <u>نادرست</u>
شهریور ماه ۹۹	۳	ه. تخمیر لاکتیک همواره فسفا موغذای م شود. <u>نادرست</u>
دی ماه ۹۹	۲	د. اگر ATP زیاد باشد، آنزیم های درگیر در قند کافت و چرخه کربس مهار می شوند. <u>درست</u>
دی ماه ۹۹ (خ)	۱	ه. تجزیه گلوکز در قند کافت، به صورت یکباره و در یک مرحله انجام می شود. <u>نادرست</u>
*	*	در هر یک از عبارات های زیر جای خالی را با کلمات مناسب پر کنید.
شهریور ماه ۹۸	۳	ج. ورا آمدن خمیر نان به علت انجام تخمیر. است. <u>الکلی</u>
دی ماه ۹۸	۱	ج. یکی از راه های تامین ATP در ماهیچه ها، برداشت فسفات. از مولکول. و انتقال آن به ADP است. <u>کراتین فسفات</u>
خرداد ماه ۹۹	۳	د. تخمیر الکلی. و تخمیر. انواعی از تخمیرند که در صنایع متفاوت از آنها بهره می بریم. <u>لاکتیک</u>
خرداد ماه ۹۹ (خ)	۳	د. راکیزه ها برای مقابله با اثر سمی رادیکال های آزاد، به. تر. کیبانت. وابسته اند. <u>پاداکسنده</u>
شهریور ماه ۹۹	۱	ه. اولین مرحله تنفس. یاخته. ای. و به معنی تجزیه گلوکز است. <u>قند کافت</u>
شهریور ماه ۹۹	۱	و. پیرووات در راکیزه (میتو کندری) یک کربن دی اکسید از دست می. دهد. و. به. تبدیل می شود. <u>بنیان استیل</u>
دی ماه ۹۹	۱	ج. در. ساخته شدن. ATP، از یون فسفات و انرژی حاصل از انتقال الکترون ها در راکیزه استفاده می شود. <u>اکسایشی</u>
دی ماه ۹۹	۳	. <u>NAD⁺</u> ضروری است و اگر نباشد قند کافت متوقف می. شود. د. در تخمیر الکلی و لاکتیکی بر تداو قند کافت
دی ماه ۹۹ (خ)	۲	ه. در زنجیره انتقال الکترون در راکیزه، تنها راه پیش روی پروتون ها برای برگشتن به بخش داخلی، مجموعه ای پروتئینی به نام است. <u>آنزیم ATP ساز</u>
*	*	در هر یک از عبارات های زیر، جواب صحیح را از بین کلمات داخل پرانتز انتخاب کنید و در برگه پاسخ نامه بنویسید.
شهریور ماه ۹۸ (خ)	۱	ه. برداشت فسفات از مولکول کراتین فسفات و انتقال آن به ADP، نمونه ای از ساخته شدن ATP در سطح پیش ماده - اکسایشی (ATP) است. <u>ATP در سطح پیش ماده</u>
خرداد ماه ۹۹	۱	ه. مولکول حامل الکترون که در قند کافت تشکیل می شود، (NADH - FADH ₂) است. <u>NADH</u>
خرداد ماه ۹۹ (خ)	۳	ه. در ماهیچه اسکلتی در شرایط اکسیژن ناکافی، پیرووات حاصل از قند کافت به (لاکتا اتانو) تبدیل م شود. <u>لاکت</u>
دی ماه ۹۹	۲	د. طی واکنش های (زنجیره انتقال الکترون - چرخه کربس) مولکول NADH به وجود می آید. <u>چرخه کربس</u>
دی ماه ۹۹ (خ)	۲	ه. اکسایش (استیل کوآنزیم A - پیرووات) در چرخه ای از واکنش های آنزیمی، به نام چرخه کربس انجام می گیرد. <u>پیرووات</u>
*	*	به پرسش های زیر پاسخ کوتاه دهید.
خرداد ماه ۹۹ (خ)	۳	د. در کدام نوع تخمیر، CO ₂ تولید می شود؟ <u>تخمیر الکلی</u>
*	*	اصطلاحاً زیر تعریف کنید
دی ماه ۹۹ (خ)	۳	ب. پاداکسنده ها <u>ترکیباتی که در واکنش با رادیکال های آزاد مانع از اثر تخریبی آنها بر مولکول های زیستی و در نتیجه تخریب بافت های بدن می شوند.</u>
دی ماه ۹۷	۲ا	در مورد تامین انرژی و اکسایش بیشتر به پرسش های زیر پاسخ دهید. الف. نمونه ای از ساخته شدن ATP در سطح پیش ماده، در ماهیچه ها دیده می شود. در این نمونه نام پیش ماده چیست؟ <u>کراتین فسفات</u> ب. قند کافت (گلیکولیز) به چه معناست و در کجا انجام می شود؟ <u>قند کافت به معنی تجزیه گلوکز است که در ماده زمینه سیتوپلاسم انجام م شود</u> ج. در چرخه کربس ضمن ترکیب استیل کوآنزیم A با مولکولی چهار کربنی، کدام مولکول جدا و کدام مولکول ایجاد می شود؟

	<p><u>کوآنزیم A جدا و مولکول شش کربنی ایجاد می شود.</u></p> <p>د. در ازای تجزیه کامل گلوکز در بهترین شرایط در یاخته یوکاریوت، حداکثر چند ATP تولید می شود؟ ATP ۳۰</p>
<p>دی ماه ۹۷</p>	<p>در مورد زیستن مستقل از اکسیژن به پرسش های زیر پاسخ دهید.</p> <p>الف. فرآیندهای زیر توسط کدام نوع تخمیر، ایجاد می شوند؟</p> <p>۱- ورآمدن خمیر نان <u>تخمیر الکلی</u> ۲. تولید خیارشور <u>تخمیر لاکتیک</u></p> <p>ب. رادیکال های آزاد چگونه باعث بافت مردگی (نکروز) کبد می شوند؟</p> <p><u>رادیکال های آزاد با حمله به DNA راکیزه، سبب تخریب راکیزه و در نتیجه مرگ یاخته های کبدی و بافت مردگی (نکروز) کبد می شوند.</u></p>
<p>خرداد ماه ۹۸</p>	<p>در مورد از ماده به انرژی به پرسش های زیر پاسخ دهید.</p> <p>الف. ساخته شدن نوری ATP در کدام قسمت سلول انجام می شود؟</p> <p>ب. پیرووات در راکیزه (میتوکلندری) با از دست دادن یک کربن دی اکسید (CO₂) به چه مولکولی تبدیل می شود؟ <u>بنیان استیل</u></p> <p>ج. نام دو مولکول حامل الکترون که در چرخه کربس تشکیل می شوند را بنویسید. NADH , FADH₂</p> <p>د. زنجیره انتقال الکترون در چه بخشی از راکیزه قرار دارد؟</p> <p>ه. چه عواملی در عملکرد راکیزه در خنثی سازی رادیکال های آزاد مشکل ایجاد می کنند؟ <u>الکل و انواعی از نقص های ژنی</u></p> <p>و. مونواکسید کربن سبب توقف کدام واکنش زنجیره انتقال الکترون می شود؟ <u>واکنش مربوط به انتقال الکترون ها به اکسیژن</u></p>
<p>خرداد ماه ۹۸</p>	<p>در مورد زیستن مستقل از اکسیژن به پرسش های زیر پاسخ دهید.</p> <p>الف. نام مرحله مشترک بین تنفس یاخته ای هوازی و تخمیر چیست؟</p> <p>ب. ورآمدن نان به علت انجام چه نوع تخمیری است؟</p> <p><u>قند کافت (گلیکولیز)</u></p> <p><u>تخمیر الکلی</u></p>
<p>خرداد ماه ۹۸ (خ)</p>	<p>در مورد از ماده به انرژی به پرسش های زیر پاسخ دهید.</p> <p>الف. محصولا قند کافر بنویسید <u>مولکو ATP و NADH و مولکول سه کربنی پیرووات</u></p> <p>ب. چند مولکول CO₂ به ازای انجام یک چرخه کربس آزاد می شود؟ <u>دو عدد</u></p> <p>ج. در زنجیره انتقال الکترون، انرژی لازم برای انتقال پروتون ها به داخل بفضای غشاء ا کج فراهم شود</p> <p><u>از الکترون های پرانرژی NADH و FADH₂</u></p> <p>د. اگر گلوکز و ذخیره قندی کبد برای تامین انرژی یاخته های بدن کافی نباشد، یاخته ها برای تولید ATP به سراغ چه مولکول هایی می روند؟</p> <p><u>تجزیه چربی ها و پروتئین ها</u></p> <p>ه. سیانید چگونه باعث توقف زنجیره انتقال الکترون می شود؟ <u>واکنش نهایی مربوط به انتقال الکترون ها به اکسیژن را مهار می کند.</u></p>
<p>شهریور ماه ۹۸</p>	<p>به سوالا زیر دربار ا ماد ب انرژی پاسخ دهید</p> <p>الف. قند کافت در کدام قسمت یاخته انجام می شود؟</p> <p>ب. طی فرآیند تبدیل پیرووات به بنیان استیل چه مولکول هایی تشکیل می شوند؟</p> <p>ج. در چه مرحله ای از تنفس یاخته ای FADH₂ ساخته می شود؟</p> <p>د. در فعالیت شدید ماهیچه ها، اگر اکسیژن کافی نباشد، پیرووات به چه ماده ای تبدیل می شود؟</p> <p>ه. کاروتنوئید موجود در میوه ها و سبزیجات چه نقشی در حفظ سلام بد دارند</p> <p><u>کاروتنوئید در واکنش با رادیکال های آزاد مانع از اثر تخریبی آنها بر مولکول های زیستی و در نتیجه تخریب بافت های بدن می شوند.</u></p> <p>و. یک ترکیب که با مهار انتقال الکترون به O₂ باعث توقف زنجیره انتقال الکترون می شود را بنویسید. <u>سیانید یا مونواکسید کربن</u></p>
<p>شهریور ماه ۹۸ (خ)</p>	<p>در مورد از ماده به انرژی به پرسش های زیر پاسخ دهید.</p> <p>الف. در قند کافت (گلیکولیز) علاوه بر پیرووات چه مولکو ها دیگر نی تشکیل می شوند NADH و ATP</p> <p>ب. در هر چرخه کربس چند مولکول CO₂ تولید می شود؟ <u>دو عدد</u></p> <p>ج. زنجیره انتقال الکترون در کجای راکیزه قرار دارد؟ <u>غشای درونی راکیزه</u></p> <p>د. در چه صورت یاخته های بدن ما برای تولید ATP به سراغ تجزیه چربی ها و پروتئین ها می روند؟ <u>اگر گلوکز و ذخیره قندی کبد برای تامین انرژی یاخته های بدن کافی نباشد.</u></p>

	<p>ه. رادیکال های آزاد در راکتیزه ها میتوکندری ها چگونه باعث بافت مردگی (نکروز) کبد می شوند؟ <u>با حمله به DNA راکتیزه، سبب تخریب راکتیزه و در نتیجه مرگ یاخته های کبدی و بافت مردگی می شوند.</u></p>
<p>دی ماه ۹۸</p>	<p>به سوالا زی دربار ا ماد ب انرژی پاسه دهید</p> <p>الف. طی واکنش های متفاوت چرخه کربس، چه مولکول گازی آزاد و چه مولکولی بازسازی می شود؟ <u>CO₂ آزاد و مولکول چهار کربنی بازسازی می شود.</u></p> <p>ب. در زنجیره انتقال الکترون، با ورود پروتون ها به فضای بین دو غشاء، تنها راه پیش روی آنها برای برگشتن به بخش داخلی چیست؟ <u>آنزیم ATP ساز</u></p> <p>ج. یاخته های بدن انسان به طور معمول از چه منابعی برای تامین انرژی استفاده می کنند؟ <u>گلوکز و ذخیره قندی کبد</u></p> <p>د. چرا خوردن میوه ها و سبزیجات در حفظ سلامت بدن دارند <u>ای مواد غذایی دارا پاداکسند های مانده کاروتنوئید هستند</u></p>
<p>دی ماه ۹۸</p>	<p>با توجه به شکل به سوالا زی پاسه دهید</p> <p>الف. شکل مقابل چه نوع تخمیری را نشان می دهد؟ <u>تخمیر الکلی</u></p> <p>ب. نام ماده مشخص شده (۱) را بنویسید. <u>اتانول</u></p> 
<p>خرداد ماه ۹۹</p>	<p>در مورد روش های ساخته شدن ATP به پرسش های زیر پاسخ دهید.</p> <p>الف. در روش ساخته شدن ATP در سطح پیش ماده در ماهیچه ها، مولکول پیش ماده چیست؟ <u>کراتین فسفات</u></p> <p>ب. ساخته شدن اکسایشی ATP در کدام قسمت یاخته انجام می شود؟ <u>راکتیزه (میتوکندری)</u></p>
<p>خرداد ماه ۹۹</p>	<p>در مورد از ماده به انرژی به پرسش های زیر پاسخ دهید.</p> <p>الف. در تنفس هوازی، چه فرایندهایی علاوه بر قند کاف (گلیکولیز) باید انجام شوند تا مولکو گلوکز به مولکو ها CO₂ تجزیه شود؟ <u>اکسایش پیرووات و چرخه کربس</u></p> <p>ب. با توجه به نقش غشای درونی راکتیزه در تنفس یاخته ای، چین خورده بودن آن چه ارزشی برای یاخته دارد؟ <u>چین خوردگی ها به افزایش سطح و در نتیجه امکان وجود بیشتر زنجیره های انتقال الکترون می انجامد.</u></p> <p>ج. چگونه امکان تشکیل رادیکال های آزاد از اکسیژن در فرآیند تنفس هوازی وجود دارد؟ <u>گاه پیش می آید که درصدی از اکسیژن ها وارد واکنش تشکیل آب نمی شوند، بلکه به صورت رادیکال آزاد در می آیند.</u></p>
<p>خرداد ماه ۹۹</p>	<p>به پرسش های زیر پاسخ دهید.</p> <p>ج. در زنجیره انتقال الکترون، تنها راه پیش روی پروتون ها برای برگشتن به بخش داخلی راکتیزه چه پروتئینی است؟ <u>آنزیم ATP ساز</u></p> <p>د. مقدار ATP تولید شده در ازای تجزیه کامل گلوکز در بهترین شرایط در یاخته یوکاریوت، حداکثر چند ATP است؟ <u>ATP ۳۰</u></p> <p>ه. مرحله مشترک بین تنفس هوازی و بی هوازی چیست؟ <u>گلیکولیز</u></p>
<p>خرداد ماه ۹۹</p>	<p>به پرسش های زیر پاسخ دهید.</p> <p>الف. منظور از ساخته شدن ATP در سطح پیش ماده چیست؟ <u>برداشته شدن گروه فسفات از یک ترکیب فسفات دار (پیش ماده) و افزودن آن به ADP را روش ساخته شدن در سطح پیش ماده می گویند.</u></p> <p>ب. سیانید چگونه سبب توقف انتقال الکترون می شود؟ <u>واکنش نهایی مربوط به انتقال الکترون ها به O₂ را مهار و در نتیجه باعث توقف زنجیره انتقال الکترون می شود.</u></p>
<p>خرداد ماه ۹۹</p>	<p>در مورد قند کافت (گلیکولیز) به پرسش ها پاسخ دهید.</p> <p>الف. این واکنش ها در کدام بخش سلول انجام می شود؟ <u>ماده زمینه سیتوپلاسم</u></p> <p>ب. پیرووات حاصل از قند کافت با چه روشی وارد راکتیزه می شود؟ <u>انتقال فعال</u></p>
<p>خرداد ماه ۹۹</p>	<p>در مورد از ماده به انرژی به پرسش های زیر پاسخ دهید.</p> <p>الف. قند کافت (گلیکولیز) در چه بخشی از یاخته انجام می گیرد؟ <u>ماده زمینه سیتوپلاسم</u></p> <p>ب. در چرخه کربس ضمن ترکیب یک استیل کوآنزیم A با مولکولی چهار کربنی، چند مولکول CO₂ آزاد می شود؟ <u>۲ مولکول</u></p>


		<p>ج. با توجه به نقش غشای درونی راکیزه در تنفس یاخته ای، چین خورده بودن آن چه ارزشی برای یاخته دارد؟ <u>چین خوردگی ها به افزایش سطح و در نتیجه امکان وجود بیشتر زنجیره های انتقال الکترون می انجامد.</u></p> <p>د. چه عواملی در عملکرد راکیزه در ختنی سازی رادیکال های آزاد مشکل ایجاد می کنند؟ <u>الکل و انواعی از نقص های ژنی</u></p>
<p>خرداد ماه ۹۹ (خ)</p>	<p>۳</p>	<p>در مورد زیستن مستقل از اکسیژن به پرسش های زیر پاسخ دهید.</p> <p>الف. در تخمیر الکلی، اتانال برای ایجاد اتانول از کدام مولکول الکترون می گیرد؟ <u>NADH</u></p> <p>ب. چرا الکل یا لاکتیک اسید یا یاخته ها گیاه دو شوند <u>تخمیر الکترون</u> لاکتیک اسید یا یاخته گیاهی را مگر نمی انجامد.</p>
<p>شهریور ماه ۹۹</p>	<p>۳ و ۱</p>	<p>در مورد از ماده به انرژی به پرسش های زیر پاسخ دهید.</p> <p>الف. نام کامل ATP که شکل رایج و قابل استفاده انرژی در یاخته ها است، را بنویسید. <u>آدنوزین تری فسفات</u></p> <p>ب. در چرخه کربس، چگونه مولکولی شش کربنی، ایجاد می شود؟ <u>در این چرخه، ضمن ترکیب استیل کوآنزیم A با مولکولی چهار کربنی، کوآنزیم A جدا و مولکولی شش کربنی ایجاد می شود.</u></p> <p>ج. در زنجیره انتقال الکترون، پروتون ها در چند محل از بخش داخلی به فضای بین دو غشاء پمپ می شوند؟ <u>سه محل</u></p> <p>د. در تخمیر الکلی، اتانال چگونه اتانول را ایجاد می کند؟ <u>اتانال با گرفتن الکترون های NADH اتانول ایجاد می کند.</u></p> <p>ه. سیانید چگونه باعث توقف تنفس یاخته ای می شود؟ <u>سیانید واکنش نهایی مربوط به انتقال الکترون ها به O₂ را مهار و در نتیجه باعث توقف زنجیره انتقال الکترون می شود.</u></p>
<p>شهریور ماه ۹۹</p>	<p>۳</p>	<p>به پرسش های زیر پاسخ دهید.</p> <p>ج. اگر به هر علت سرعت تشکیل رادیکال های آزاد در راکیزه ها از سرعت مبارزه با آنها بیشتر باشد، چه اتفاقی می افتد؟ <u>در چنین شرایطی، رادیکال های آزاد در راکیزه تجمع می یابند و آن را تخریب می کنند، در نتیجه یاخته هم تخریب می شود.</u></p>
<p>دی ماه ۹۹</p>	<p>۱</p>	<p>چرا راکیزه (میتوکندری) برای انجام نقش خود در تنفس یاخته ای نمی تواند مستقل از هسته عمل کند؟ <u>راکیزه برای انجام نقش خود در تنفس یاخته ای به پروتئین هایی وابسته است که ژن های آنها در هسته قرار دارند و به وسیله رناتن های سیتوپلاسم ساخته می شوند.</u></p>
<p>دی ماه ۹۹</p>	<p>۲ و ۱</p>	<p>در مورد تنفس هوازی به پرسش های زیر پاسخ دهید.</p> <p>الف. اولین CO₂ تولیدی، طی کدام مرحله آزاد می شود؟ <u>اکسایش پیرووات</u></p> <p>ب. در زنجیره انتقال الکترون، بر چه اساسی پروتون های متراکم شده در فضای بین دو غشای راکیزه تمایل دارند به بخش داخلی برگردند؟ <u>بر اساس شیب غلظت</u></p>
<p>دی ماه ۹۹</p>	<p>۳</p>	<p>نقص ژنی چگونه باعث تشکیل رادیکال های آزاد می شود؟ <u>گاه نقص در ژن های مربوط به پروتئین های زنجیره انتقال الکترون، به ساخته شدن پروتئین های معیوب می انجامد. راکیزه ای که این پروتئین های معیوب را داشته باشد در مبارزه با رادیکال های آزاد، عملکرد مناسبی ندارد.</u></p>
<p>دی ماه ۹۹ (خ)</p>	<p>۱ و ۲</p>	<p>محل انجام هر یک از موارد زیر را بنویسید.</p> <p>الف. قند کافت <u>سیتوپلاسم</u> ب زنجیر انتقال الکترون <u>غشا درون راکیزه</u></p>
<p>دی ماه ۹۹ (خ)</p>	<p>۲</p>	<p>دو مورد از عوارض سوء تغذیه و فقر غذایی شدید و طولانی مدتی بنویسید <u>تحلیلی ضعیف شد ماهیچه ها اسکلت سیستم ایمنی</u></p>
<p>دی ماه ۹۹ (خ)</p>	<p>۳</p>	<p>شکل روبرو چه نوع تخمیری را نشان می دهد. <u>تخمیر لاکتیک</u></p> 

فصل ششم: از انرژی به ماده (بارم نوبت خرداد ماه ۲،۵ نمره)

سال طرح سوال	گفتار	متن سوال
*	*	درستی یا نادرستی هر یک از عبارات های زیر را بدون ذکر دلیل مشخص کنید.
شهریور ماه ۹۸	۱	و. فتوسیستم ها در غشای تیلا کویه قرار دارند ب مولکو های بناناة الکترو ب ه مرتبه م شوند <u>درس</u>
دی ماه ۹۸	۳	د. تثبیت کربن در گیاهان C4 در دو مرحله، ابتدا در یاخته های غلا آوند سپه د یاخته ها میانبر انجام م شود <u>نادرست</u>
شهریور ماه ۹۸ (خ)	۳	ه. نقش کربوکسیلاز ی اکسیژناز آنزیم رویسک ب میزا CO2 و اکسیژن در محیط عملکرد آن ارتباط دارد. <u>درس</u>
خرداد ماه ۹۹	۱	و. هر فتوسیستم شامل آنتن گیرنده نور و یک مرکز واکنش است. <u>نادرست</u>
شهریور ماه ۹۹	۱	و. میانبرگ در بعضی گیاهان از یاخته های اسفنجی تشکیل شده است. <u>درست</u>
دی ماه ۹۹	۲	ه. تجزیه نوری آب در فتوسیستم ۲، موجب تجمع پروتون ها در فضای درون تیلا کویده م شود <u>درس</u>
دی ماه ۹۹ (خ)	۱	و. در برگ گیاهان دولپه، میانبرگ از یاخته های پارانشیمی اسفنجی و نرده ای تشکیل شده است. <u>درست</u>
*	*	در هر یک از عبارات های زیر جای خالی را با کلمات مناسب پر کنید.
شهریور ماه ۹۸	۳	د. باکتری های نیترا ت ساز که آمونیوم را به نیترا ت تبدیل می کنند، از باکتری های... هستند. <u>شیمیوسنتز کننده</u>
دی ماه ۹۸	۳	د. باکتری های نیترا ت ساز... که... را به نیترا ت تبدیل می کنند، از باکتری های شیمیوسنتز کننده هستند. <u>آمونوم</u>
شهریور ماه ۹۸ (خ)	۲	... می... گویند. د. به گیاهانی که تثبیت کربن در آنها فقط با چرخه کالوین انجام می شود، گیاهان <u>C3</u>
خرداد ماه ۹۹	۲	(a) را جبران می کنند. <u>سبزینه (کلروفیل ۲)</u> در مرکز واکنش فتوسیستم ه. الکترون های حاصل از تجزیه آب، کمبود الکترونی
خرداد ماه ۹۹ (خ)	۳	ه. در گیاه ذرت چرخه کالوین... یاخته های... انجام می شود. <u>غلا آوند</u>
دی ماه ۹۹	۳	... است. ه. در باکتری های گوگردی منبع تامین الکترون <u>H2S</u>
دی ماه ۹۹ (خ)	۳	و. افزایش اکسیژن و کاهش CO2 در برگ، وضعیت را برای... نقش... آنزیم رویسکو مساعد می کند. <u>اکسیژنازی</u>
*	*	در هر یک از عبارات های زیر، جواب صحیح را از بین کلمات داخل پرانتز انتخاب کنید و در برگه پاسخ نامه بنویسید.
خرداد ماه ۹۸	۳	ه. در تنفس نوری، وضعیت برای نقش (اکسیژنازی - کربوکسیلاز) آنزیم رویسک مسماء م شود <u>اکسیژناز</u>
خرداد ماه ۹۸	۳	و. باکتری های نیترا ت ساز که آمونیوم را به نیترا ت تبدیل می کنند، از باکتری های (شیمیوسنتز کننده - فتوسنتز کننده اکسیژن زا) هستند. <u>شیمیوسنتز کننده</u>
شهریور ماه ۹۸	۳	ه. تثبیت اولیه کربن در آناناس در (روز - شب) انجام می شود. <u>شب</u>
دی ماه ۹۸	۱	و. مرکز واکنش فتوسیستم ها، شامل مولکول های (کلروفیل a - کلروفیل b) است که در بستری پروتئینی قرار دارند. <u>کلروفیل a</u>
شهریور ماه ۹۸ (خ)	۳	و. رنگیزه فتوسنتزی باکتری های فتوسنتز کننده غیر اکسیژن زا (باکتریو کلروفیل - سبزینه a) است. <u>باکتریو کلروفیل</u>
خرداد ماه ۹۹	۳	و. سیانوباکتری ها، جزء باکتری های فتوسنتز کننده (اکسیژن زا - غیر اکسیژن زا) هستند. <u>اکسیژن زا</u>
خرداد ماه ۹۹ (خ)	۳	ه. در (تنفس نوری - تنفس یاخته ای) ماده آلی تجزیه می شود، اما ATP از آن ایجاد نمی شود. <u>تنفس نوری</u>
خرداد ماه ۹۹ (خ)	۳	و. باکتری هایی که منبع تامین الکترون در آنها ترکیبی به غیر از آب است. فتوسنتز کننده غیر اکسیژن زا - اکسیژن زا) هستند. <u>غیر اکسیژن زا</u>
شهریور ماه ۹۹	۱	و. به سبزینه یا کلروفیل a در فتوسیستم ۲، (P700 - P680) می گویند. <u>P680</u>
دی ماه ۹۹	۱	ه. در برگ گیاهان دولپه، یاخته های اسفنجی میانبرگ به سمت روپوست (روی - زیرین) قرار دارند. <u>زیرین</u>
دی ماه ۹۹ (خ)	۳	و. یاخته های غلا آوند د گیاهان C3 - C4 (سبزیسه دارند و محل انجام چرخه کالوین اند. <u>C3</u>
*	*	در پرسش های چهار گزینه ای زیر، گزینه درست را انتخاب کنید.
خرداد ماه ۹۹ (خ)	۱	ج. سبزینه های a و b و کاروتنوئیدها، کدام نور را به طور مشترک، بیشتر جذب می کنند؟ ۱. قرمز ۲. نارنجی ۳. آبی ۴. بنفش
*	*	اصطلاحاً زیر تعریف کنید
شهریور ماه ۹۸	۲	ب. گیاهان C3 به گیاهانی که تثبیت کربن در آنها فقط با چرخه کالوین انجام می شود، گیاهان C3 می گویند.
*	*	به پرسش های زیر پاسخ کوتاه دهید.
خرداد ماه ۹۹ (خ)	۳	ه. رنگیزه فتوسنتزی در باکتری هایی که در تصفیه فاضلا ه برا حذ هیدروژ سولفید ب کام رود چنا دارد <u>باکتریو کلروفیل</u>

<p>شهریور ماه ۹۸ خ</p>	<p>۳ و ۱</p>	<p>در مورد از انرژی به ماده به پرسش های زیر پاسخ دهید.</p> <p>الف. کدام رنگیزه فتوسنتزی بیشترین جذب را در بخش آبی و سبز نور مرئی دارد؟</p> <p>ب. حداکثر جذب سبزینه a در مرکز واکنش کدام فتوسیستم، در طول موج ۷۰۰ نانومتر است؟</p> <p>ج. چرخه کالوین در کجای سبزدیسه (کلروپلاس) انجام می شود <u>بستر سبزدیسه</u></p> <p>د. چه عوامل محیطی بر فتوسنتز اثر می گذارند؟ (دو مورد) <u>میزان CO2 - طول موج - شدت تابش نور - مدت زمان تابش نور</u></p> <p>ه. در گیاهان C4 ، اسید چهار کربنی از یاخته های میانبرگ به چه طریق به یاخته های غلا آوند منتقل می شود <u>ا طرف پلاسمودم</u></p> <p>و. در گیاهان CAM، چرخه کالوین در شب انجام می شود یا در روز؟ <u>روز</u></p>
<p>دی ماه ۹۷</p>	<p>۲ و ۱</p>	<p>در مورد فتوسنتز به پرسش های زیر پاسخ دهید.</p> <p>الف. میانبرگ گیاهان دو لپه و تک لپه شامل یاخته های نرم آکنه است یا سخت آکنه؟</p> <p>ب. بیشترین جذب کاروتنوئیدها در چه بخش هایی از نور مرئی است؟</p> <p>ج. کمبود الکترون سبزینه a در فتوسیستم ۲ چگونه جبران می شود؟</p> <p>د. در چرخه کالوین CO2 با فعالیت کدام آنزیم با ریبولوزیسی فسفات ترکیب می شود؟</p> <p>ه. به فرآیند استفاده از CO2 برای تشکیل ترکیب های آلی، چه می گویند؟</p> <p><u>نرم آکنه</u> <u>آبی و سبز</u> <u>از تجزیه نوری آب</u> <u>رویسیکو</u> <u>تثبیت کربن</u></p>
<p>دی ماه ۹۷</p>	<p>۳</p>	<p>شکل مقابل فتوسنتز در گیاهان CAM را نشان می دهد.</p> <p>دو ویژگی مناطقی که این گیاهان در آنجا زندگی می کنند، را بنویسید.</p> <p><u>این گیاهان در مناطقی زندگی می کنند که با مسئله دما و نور شدید در طول روز و کمبود آب مواجه اند.</u></p> 
<p>دی ماه ۹۷</p>	<p>۳</p>	<p>در مورد "جانداران فتوسنتز کننده دیگر" به پرسش های زیر پاسخ دهید.</p> <p>الف. یک باکتری فتوسنتز کننده اکسیژن زا نام ببرید؟</p> <p>ب. چه نوع باکتری هایی در معادن، اعماق اقیانوس ها و اطراف دهانه آتشفشان های زیر آب وجود دارند؟ <u>سیانوباکتری ها</u></p> <p><u>شیمیوسنتز کننده</u></p>
<p>خرداد ماه ۹۸</p>	<p>۳ و ۱</p>	<p>در مورد فتوسنتز گیاهان به پرسش های زیر پاسخ دهید.</p> <p>الف. علاوه بر سبزینه ها (کلروفیل ها) a و b ، چه رنگیزه های فتوسنتزی دیگری در غشای تیلاکوئید قرار دارند؟ <u>کاروتنوئید</u></p> <p>ب. حداکثر جذب سبزینه a در مرکز واکنش فتوسیستم ۱، در چه طول موجی است؟ <u>۷۰۰ نانومتر</u></p> <p>ج. تجزیه نوری آب برای جبران کمبود الکترون سبزینه a در کدام فتوسیستم صورت می گیرد؟ <u>فتوسیستم ۲</u></p> <p>د. نام قند پنج کربنی که در چرخه کالوین با CO2 ترکیب می شود را بنویسید. <u>ریبولوز بیس فسفات</u></p> <p>ه. در چه گیاهانی تثبیت اولیه کربن و چرخه کالوین در دو نوع یاخته متفاوت انجام می شود؟ <u>گیاهان C4</u></p> <p>و. در گیاهان CAM، چرخه کالوین در چه موقعی از شبانه روز انجام می شود؟ <u>روز</u></p>
<p>خرداد ماه ۹۸</p>	<p>۳</p>	<p>در مورد جانداران فتوسنتز کننده دیگر به پرسش های زیر پاسخ دهید.</p> <p>الف. از چه باکتری هایی در تصفیه فاضلا ه برا حذ هیدروژ سولفید استفاده می کنند</p> <p>ب. یک آغازی تک یاخته ای را نام ببرید که در صورت نبود نور، سبزدیسه های (کلروپلاس ها) خوراک را در دهان <u>اوگلد</u> <u>باکتر ها گوگرد</u></p>
<p>خرداد ماه ۹۸ خ</p>	<p>۳ و ۱</p>	<p>در مورد فتوسنتز به پرسش های زیر پاسخ دهید.</p> <p>الف. میانبرگ گیاهان دو لپه از چه نوع یاخته های نرم آکنه های (پارانیشیمی) تشکیل شده است؟</p> <p>ب. نام قند پنج کربنی که در چرخه کالوین با CO2 ترکیب می شود را بنویسید.</p> <p>ج. به چه گیاهانی C3 می گویند؟ <u>به گیاهانی که تثبیت کربن در آنها فقط با چرخه کالوین انجام می شود، گیاهان C3 می گویند.</u></p> <p>د. چه تفاوتی بین تنفس یاخته ای با تنفس نوری از نظر تولید ATP وجود دارد؟ <u>در تنفس نوری برخلاف تنفس یاخته ای ATP ایجاد نمی شود.</u></p> <p>ه. در گیاهان CAM تثبیت اولیه کربن در چه موقعی از شبانه روز انجام می شود؟ <u>شب</u></p>
<p>خرداد ماه ۹۸ خ</p>	<p>۳</p>	<p>در مورد جانداران فتوسنتز کننده دیگر به پرسش های زیر پاسخ دهید.</p> <p>الف. از چه باکتری هایی در تصفیه فاضلا ه برا حذ هیدروژ سولفید استفاده می کنند</p> <p>ب. یک باکتری فتوسنتز کننده اکسیژن زا نام ببرید. <u>سیانوباکتری ها</u></p> <p><u>باکتر ها گوگرد</u></p>

<p>شهریور ماه ۹۸</p> <p>۳ و ۱</p>	<p>به سوالا زیه دربار ا انرژ ب ماد پاسه دهید</p> <p>الف. مزیت وجود رنگیزه های متفاوت در سبزیسه های (کلروپلاس ها) گیا ر بنویسید</p> <p><u>کارایی گیاه را در استفاده از طول موج های متفاوت نور افزایش می دهد.</u></p> <p>ب. الکترون برانگیخته از فتوسیستم ۱ در نهایت به چه مولکولی می رسد؟</p> <p>ج. نام قند پنج کربنی که در چرخه کالوین با CO₂ ترکیب می شود را بنویسید.</p> <p>د. در گیاهان C₄، اسید چهار کربنی در کدام یاخته های برگ ایجاد می شود؟</p> <p>ه. نام رنگیزه فتوستتزی باکتری های فتوستتزر کننده غیر اکسیژن زا چیست؟</p> <p>NADP⁺</p> <p><u>ریبولوز بیس فسفات</u></p> <p><u>یاخته های میانبرگ</u></p> <p><u>باکتریوکلروفیل</u></p>						
<p>دی ماه ۹۸</p> <p>۳ و ۱</p>	<p>به سوالا زیه دربار ا انرژ ب ماد پاسه دهید</p> <p>الف. یک تفاوت بین ساختار برگ تک لپه ای ها و دو لپه ای ها را بنویسید.</p> <p><u>میانبرگ گیاه دو لپه از یاخته های نرم آکنه ای (پارانیشیمی) نرده ای و اسفنجی تشکیل شده ولی در گیاه تک لپه از یاخته های اسفنجی تشکیل شده است. و یا در یاخته غلا آوند گیا د لپسبزیسه وجود ندارد و د یاخته غلاف آوندی گیاه تک لپه وجود دارد</u></p> <p>ب. یک ویژگی سبزیسه های (کلروپلاس ها) اسپروژیه ر بنویسید</p> <p>ج. در واکنش های وابسته به نور، منشاء پروتون های موجود در فضای درون تیلا کوییه ا کجاست</p> <p><u>پروتئینی که در زنجیره انتقال الکترون یون های پروتون را از بستره به فضای درون تیلا کوییه پم م کند تجزیه آ درو فضا تیلاکود</u></p> <p>د. در چرخه کالوین، افزودن CO₂ به مولکول پنج کربنی توسط کدام فعالیت آنزیم رویسکو انجام می شود؟</p> <p>ه. به گیاهانی که تثبیت کربن در آنها در زمان های متفاوت انجام می شود، چه می گویند؟</p> <p><u>کربوکسیلاز</u></p> <p><u>گیاهان CAM</u></p>						
<p>خرداد ماه ۹۹</p> <p>۳ و ۱</p>	<p>در مورد از انرژی به ماده به پرسش های زیر پاسخ دهید.</p> <p>الف. ساختارهای غشایی و کیسه مانند و به هم متصل در فضای درون سبزیسه (کلروپلاس) چنا دارد <u>تیلاکود</u></p> <p>ب. چرا دما بر روی فتوستتزر تاثیر گذار است؟ <u>فتوستتزر فرایندی آنزیمی است و می دانیم بیشترین فعالیت آنزیم ها در گستره دمایی خاص انجام می شود.</u></p> <p>ج. در تنفس نوری، CO₂ آزاد شده، حاصل تجزیه مولکول دو کربنی است یا مولکول سه کربنی؟ <u>مولکول دو کربنی</u></p>						
<p>خرداد ماه ۹۹</p> <p>۳ و ۲</p>	<p>در جدول زیر، هر یک از ویژگی های ذکر شده، مربوط به کدام گروه از گیاهان است؟</p> <table border="1" data-bbox="239 1209 1093 1344"> <tr> <td>تثبیت اولیه کربن در شب</td> <td>"الف"</td> </tr> <tr> <td>تثبیت اولیه کربن در میانبرگ و انجام چرخه کالوین در غلا آوند</td> <td>"ب"</td> </tr> <tr> <td>تثبیت کربن فقط با انجام چرخه کالوین</td> <td>"ج"</td> </tr> </table> <p>الف. گیاهان CAM ب. گیاهان C₄ ج. گیاهان C₃</p>	تثبیت اولیه کربن در شب	"الف"	تثبیت اولیه کربن در میانبرگ و انجام چرخه کالوین در غلا آوند	"ب"	تثبیت کربن فقط با انجام چرخه کالوین	"ج"
تثبیت اولیه کربن در شب	"الف"						
تثبیت اولیه کربن در میانبرگ و انجام چرخه کالوین در غلا آوند	"ب"						
تثبیت کربن فقط با انجام چرخه کالوین	"ج"						
<p>خرداد ماه ۹۹</p> <p>۳</p>	<p>به پرسش های زیر پاسخ دهید.</p> <p>و. تفاوت آنزیم رویسکو با آنزیمی که در ترکیب CO₂ با اسید سه کربنی در گیاهان C₄ و CAM نقش دارد، چیست؟</p> <p><u>آنزیم C₃ در ترکیب CO₂ با اسید سه کربنی و تشکیل اسید چهار کربنی نقش دارد، بر خلا رویسکو ب طو اختصاص ب CO₂ عم ل می کند و تمایلی به اکسیژن ندارد.</u></p>						
<p>خرداد ماه ۹۹</p> <p>۲</p>	<p>در مورد واکنش های فتوستتزی به پرسش های زیر پاسخ دهید.</p> <p>الف. الکترون برانگیخته از فتوسیستم ۱ در نهایت به چه مولکولی می رسد؟</p> <p>ب. الکترون های ایجاد شده حاصل از تجزیه نوری آب چه نقشی دارند؟</p> <p>ج. قند ۵ کربنه ابتدای چرخه کالوین چه نام دارد؟</p> <p>NADP⁺</p> <p><u>الکترون های حاصل به فتوسیستم ۲ می روند</u></p> <p><u>ریبولوز بیس فسفات</u></p>						
<p>خرداد ماه ۹۹</p> <p>۳</p>	<p>یک تفاوت تنفس نوری و تنفس یاخته ای را بنویسید.</p> <p><u>در تنفس نوری گرچه ماده آلی تجزیه می شود، اما برخلا تنف یاخته ای ATP از آن ایجاد نمی شود.</u></p>						
<p>خرداد ماه ۹۹</p> <p>* ۳</p>	<p>دلیل علمی هر یک از موارد زیر را بنویسید.</p> <p>الف. کارایی گیاهان C₄ در دما و شدت نور زیاد بیشتر از گیاهان C₃ است. این گیاهان در دماهای بالا شد ها زیان کمبو آب در حالی که روزنه ها بسته شده اند تا از تبخیر آب جلوگیری شود، همچنان میزان CO₂ را در محل عملکرد آنزیم رویسکو بالا نگه م دارند</p> <p><u>به همین علت کارایی آنها در چنین شرایطی بیش از گیاهان C₃ است.</u></p>						

<p>خرداد ماه ۹۹ خ ۳ و ۱</p>	<p>در مورد فتوستنتز گیاهان به پرسش های زیر پاسخ دهید. الف. چه عاملی کارایی گیاه را در استفاده از طول موج های متفاوت نور افزایش می دهد؟ <u>وجود رنگیزه های متفاوت</u> ب. حداکثر جذب نور سبزینه a در مرکز واکنش فتوسیستم ۲، در چه طول موجی است؟ <u>۶۸۰ نانومتر</u> ج. کمبود الکترون سبزینه a در فتوسیستم ۱ چگونه جبران می شود؟ <u>از طریق الکترون های خارج شده از فتوسیستم ۲</u> د. واکنش های چرخه کالوین در چه بخشی از سبزیسه انجام می شوند؟ <u>بستره سبزیسه</u> ه. در چه گیاهانی تثبیت کربن فقط در چرخه کالوین انجام می شود؟ <u>گیاهان C3</u> و. در گیاهان CAM، چرخه کالوین در کدام یاخته انجام می شود؟ <u>یاخته میانبرگ</u></p>
<p>خرداد ماه ۹۹ خ ۳</p>	<p>در مورد جانداران فتوستنتز کننده دیگر به پرسش های زیر پاسخ دهید. الف. اوگلنا در چه صورتی سبزیسه های خود را از دست می دهد؟ <u>در صورتی که نور نباشد.</u> ب. باکتری های نیترات ساز که آمونیوم را به نیترات تبدیل می کنند، فتوستنتز کننده هستند یا شیمیوستنتز کننده؟ <u>شیمیوستنتز کننده</u></p>
<p>شهریور ماه ۹۹ ۳ و ۱</p>	<p>در مورد از انرژی به ماده به پرسش های زیر پاسخ دهید. الف. در واکنش های وابسته به نور، منشاء پروتون های موجود در فضای درون تیلا کویا ۱ کجاست <u>تعداد پروتون تجزیه آ</u> <u>تعدادی دیگر از طریق زنجیره انتقال الکترون که بین فتوسیستم ۲ و ۱ قرار دارد، از بستره به فضای درون تیلا کوییده به م شود</u> ب. در چرخه کالوین، افزودن CO₂ به مولکول پنج کربنی توسط چه آنزیمی انجام می شود؟ نام کامل آن را بنویسید. <u>ریبولوزییس فسفات کربوکسیلا اکسیژنا</u> ج. چه تفاوتی میان تثبیت کربن در گیاهان C₄ و گیاهان CAM وجود دارد؟ <u>تثبیت کربن در این گیاهان، مانند گیاهان C₄ است، با این تفاوت که تثبیت کربن در آنها در یاخته های متفاوت نیست و به عبارتی تقسیم بندی مکانی نشده، بلکه در زمان های متفاوت انجام می شود.</u></p>
<p>شهریور ماه ۹۹ ۳</p>	<p>در حالی که میزان CO₂ برگ کم و میزان اکسیژن در آن افزایش می یابد (فتوستنتز در شرایط دشوار الف. اکسیژن با چه مولکولی ترکیب می شود؟ <u>ریبولوزییس فسفات</u> ب. این فرآیند که با مصرف اکسیژن، آزاد شدن CO₂ و همراه فتوستنتز است، چه نامیده می شود؟ <u>تنفس نوری</u></p>
<p>شهریور ماه ۹۹ * ۱ ۳</p>	<p>به پرسش های زیر پاسخ دهید. د. علاو بسبزینه ها چه رنگیزه ها دیگر د غشا تیلاکودمد وجد دارند <u>کاروتنوئیدید</u> ه. منبع تامین الکترون در باکتری های گوگردی چه مولکولی است؟ <u>H₂S</u></p>
<p>دی ماه ۹۹ ۲ و ۱</p>	<p>در مورد فتوستنتز به پرسش های زیر پاسخ دهید. الف. هر آنتن گیرنده نور از چه قسمت هایی ساخته شده است، نام ببرید. <u>هر آنتن از رنگیزه های متفاوت (کلروفیل ها و کاروتنوئیدها) و انواعی پروتئین ساخته شده است.</u> ب. دو مورد از عوامل محیطی موثر بر فتوستنتز نام ببرید. <u>میزان CO₂، طول موج، شدت، مدت زمان تابش نور و میزان اکسیژن بر فتوستنتز اثر می گذارند.</u> ج. سرنوشت قندهای سه کربنی ساخته شده در چرخه کالوین چیست؟ <u>تعدادی از این قندها برای ساخته شدن گلوکز و ترکیبات آلی دیگر و تعدادی نیز برای بازسازی ریبولوزییس فسفات به مصرف می رسند.</u></p>
<p>دی ماه ۹۹ ۳</p>	<p>شکل روبرو فتوستنتز در چه گیاهانی را نشان می دهد؟ <u>گیاهان CAM</u></p> 
<p>دی ماه ۹۹ خ ۳ و ۱</p>	<p>در مورد فتوستنتز به پرسش های زیر پاسخ دهید. الف. بیشترین رنگیزه در سبزیسه (کلروپلاس) ه چیست <u>سبزینه (کلروفیل)</u> ب. در فتوستنتز، برای انرژی الکترون های برانگیخته در رنگیزه های موجود در آنتن ها چه اتفاقی می افتد؟ <u>از رنگیزه ای به رنگیزه دیگر منتقل شده و در نهایت به مرکز واکنش می رود.</u> ج. تجزیه نوری آب در فتوسیستم ۲ موجب تجمع پروتون ها در کدام بخش سبزیسه می شود؟ <u>فضای درون تیلا کوییده</u></p>

د. در گیاهان CAM، چرخه کالوین در چه موقعی از شبانه روز انجام می شود؟ روز

ه. چرا باکتری های گوگردی کربن دی اکسید را جذب می کنند، اما اکسیژن تولید نمی کنند؟
زیرا منبع تامین الکترون در آنها ترکیبی به غیر از آب است.

فصل هفتم: فناوری های نوین زیستی (بارم نوبت خرداد ماه ۲,۵ نمره)

سال طرح سوال	گفتار	متن سوال
*	*	درستی یا نادرستی هر یک از عبارات های زیر را بدون ذکر دلیل مشخص کنید.
۳	۹۸ خرداد ماه	و. تشخیص زود هنگام آلودگی با ویروس ایدز، برای جلوگیری از انتقال ویروس به سایر افراد اهمیت زیادی دارد. <u>درست</u>
۲	دی ماه ۹۸	ه. یاخته های بنیادی کبد می توانند تکثیر شوند و به یاخته کبدی یا یاخته مجرای صفراوی تمایز پیدا کنند. <u>درست</u>
۳	۹۸ خرداد ماه (خ)	و. امروزه با کمک فناوری زیستی و تولید پنبه های مقاوم، نیاز به سم پاشی مزارع پنبه نیست. <u>نادرست</u>
۱	شهریور ماه ۹۸ (خ)	و. دیسک (پلازمیه) مولکول دنا در رشته حلقو خار فانتد اس ک فقه درو باکتر هوجو دارد <u>نادرست</u>
۱	۹۹ خرداد ماه (خ)	ه. در زیست فناوری کلاسیه با استفاده از تخم کشت ریزاندامگا (میکروارگانیزم) تولید مواد مانده پادزیست (آنتی بیوتیک) ممکن شد. <u>درست</u>
۳	۹۹ خرداد ماه (خ)	و. مهم ترین مرحله در ساخت انسولین به روش مهندسی ژنتیک، تبدیل انسولین غیر فعال به انسولین فعال است. <u>درست</u>
۲	دی ماه ۹۹	و. در پوست یاخته هایی وجود دارد که توانایی تکثیر زیاد و تمایز به انواع یاخته های پوست را دارند. <u>درست</u>
۱	دی ماه ۹۹ (خ)	ز. در باکتری ها، ژن مقاومت به پادزیست در فام تن (کروموزوم) اصلی قرار دارد. <u>نادرست</u>
*	*	در هر یک از عبارات های زیر جای خالی را با کلمات مناسب پر کنید.
۳	۹۸ خرداد ماه	ه. به قرار دادن نسخه سالم یک ژن در یاخته های فردی که دارای نسخه ای ناقص از همان ژن است. می گویند. <u>ژن درمانی</u>
۱	شهریور ماه ۹۸	ه. جداسازی یک یا چند ژن و تکثیر آنها. <u>همسانه سازی دنا</u> می گویند.
۱	دی ماه ۹۸	ه. جداسازی یک یا چند ژن و تکثیر آنها. <u>همسانه سازی دنا</u> می گویند.
۱	۹۸ خرداد ماه (خ)	ه. در مهندسی ژنتیک، به جداسازی یک یا چند ژن و تکثیر آنها <u>همسانه سازی دنا</u> می گویند.
۳	شهریور ماه ۹۸ (خ)	ه. قرار دادن نسخه سالم یک ژن در یاخته های فردی که دارای نسخه ای ناقص از همان ژن است. نام دارد. <u>ژن درمانی</u>
۳	۹۹ خرداد ماه (خ)	ه. به قرار دادن نسخه سالم یک ژن در یاخته های فردی که دارای نسخه ای ناقص از همان ژن است. می گویند. <u>ژن درمانی</u>
۳	دی ماه ۹۹ (خ)	ز. قرار دادن نسخه سالم یک ژن در یاخته های فردی که دارای نسخه ای ناقص از همان ژن است. نام دارد. <u>ژن درمانی</u>
*	*	در هر یک از عبارات های زیر، جواب صحیح را از بین کلمات داخل پرانتز انتخاب کنید و در برگه پاسخ نامه بنویسید.
۲	۹۹ خرداد ماه (خ)	و. یاخته های بنیادی کبد می توانند تکثیر شوند و به یاخته های (مجرای صفراوی - رگ های خونی) تمایز یابند. <u>مجرای صفراوی</u>
۲	دی ماه ۹۹	و. یاخته های بنیادی (مورولا) تود یاخته درون بانوا یاخته ها جنین خار جنین متمایز شوند. <u>مورو</u>
۳	دی ماه ۹۹ (خ)	ز. پیش انسولین به صورت یک زنجیره پلی پپتیدی است و با جدا شدن زنجیره (A - C) به هورمون فعال تبدیل می شود. <u>C</u>
*	*	اصطلاحاً زیر تعریف کنید
۱	دی ماه ۹۸	ب. جاندار تراژنی <u>به جاندار که از طریق مهندسی ژنتیک دارای ترکیب جدیدی از مواد ژنتیکی شده است، جاندار تغییر یافته ژنتیکی یا تراژنی می گویند.</u>
۱	شهریور ماه ۹۸ (خ)	ب. همسانه سازی دنا <u>جداسازی یک یا چند ژن و تکثیر آنها را همسانه سازی دنا می گویند.</u>
۱	۹۹ خرداد ماه (خ)	ب. همسانه سازی دنا <u>جداسازی یک یا چند ژن و تکثیر آنها را همسانه سازی دنا می گویند.</u>
۲و۱	دی ماه ۹۷	در مورد فناوری های نوین زیستی به پرسش های زیر پاسخ دهید. الف. دو آنزیم مورد استفاده در مهندسی ژنتیک را نام ببرید. <u>آنزیم های برش دهنده و آنزیم لیگاز</u> ب. برای وارد کردن دنا نو ترکیب به باکتری، با چه روشی در دیواره باکتری منافذی ایجاد می شود؟ (یک مورد) <u>با کمک شوک الکتریکی و یا شوک حرارتی همراه با مواد شیمیایی ایجاد کرد.</u> ج. لخته ها به طور طبیعی در بدن توسط کدام آنزیم تجزیه می شوند؟ <u>آنزیم پلاسمین</u>
۳	دی ماه ۹۷	در مورد کاربردهای زیست فناوری به پرسش های زیر پاسخ دهید. الف. مهم ترین مرحله در ساخت انسولین به روش مهندسی ژنتیک چیست؟ <u>تبدیل انسولین غیر فعال به انسولین فعال است.</u> ب. ژن درمانی را تعریف کنید. <u>قرار دادن نسخه سالم یک ژن در یاخته های فردی که دارای نسخه ای ناقص از همان ژن است.</u> ج. چرا تشخیص زود هنگام آلودگی با ویروس ایدز اهمیت زیادی دارد؟ <u>زیرا باعث می شود که بدون اتلاف وقت اقداما درمان پیشگیرانه برای جلوگیری از انتقال ویروس به سایر افراد صورت گیرد</u>

<p>خرداد ماه ۹۸</p>	<p>۱</p>	<p>در جدول زیر، هر یک از موارد ستون "الف" با یکی از موارد ستون "ب" ارتباط منطقی دارد. آنها را پیدا کنید و در برگه پاسخ نامه بنویسید. (در ستون "ب" یک مورد اضافه است)</p> <table border="1" data-bbox="188 230 1238 510"> <thead> <tr> <th>ستون "الف"</th> <th>ستون "ب"</th> </tr> </thead> <tbody> <tr> <td>۱- ایجاد منافذی در دیواره باکتری</td> <td><u>شوک الکتریکی</u></td> </tr> <tr> <td>۲- اتصال دمای مورد نظر به دیسک (پلازمی)</td> <td><u>آنزیم لیگاز</u></td> </tr> <tr> <td>۳- ایجاد انتهای چسبنده</td> <td><u>آنزیم EcOR1</u></td> </tr> <tr> <td>۴- جداسازی باخته های تراژنی</td> <td><u>آمپی سیلین</u></td> </tr> <tr> <td></td> <td>شوک الکتریکی</td> </tr> </tbody> </table>	ستون "الف"	ستون "ب"	۱- ایجاد منافذی در دیواره باکتری	<u>شوک الکتریکی</u>	۲- اتصال دمای مورد نظر به دیسک (پلازمی)	<u>آنزیم لیگاز</u>	۳- ایجاد انتهای چسبنده	<u>آنزیم EcOR1</u>	۴- جداسازی باخته های تراژنی	<u>آمپی سیلین</u>		شوک الکتریکی
ستون "الف"	ستون "ب"													
۱- ایجاد منافذی در دیواره باکتری	<u>شوک الکتریکی</u>													
۲- اتصال دمای مورد نظر به دیسک (پلازمی)	<u>آنزیم لیگاز</u>													
۳- ایجاد انتهای چسبنده	<u>آنزیم EcOR1</u>													
۴- جداسازی باخته های تراژنی	<u>آمپی سیلین</u>													
	شوک الکتریکی													
<p>خرداد ماه ۹۸</p>	<p>۳و۲</p>	<p>در مورد زیست فناوری به پرسش های زیر پاسخ دهید.</p> <p>الف. یک پروتئین که با مهندسی پروتئین پایداری آن در مقابل گرما افزایش یافته است را نام ببرید. <u>آمیلا</u></p> <p>ب. باخته های بنیادی بالغ در کدام بخش از بدن، می توانند در محیط کشت به رگ های خونی تمایز پیدا کنند؟ <u>باخته های بنیادی مغز استخوان</u></p> <p>ج. با جدا شدن کدام زنجیره، پیش انسولین به انسولین فعال تبدیل می شود؟ <u>زنجیره C</u></p> <p>د. برای تولید واکسن به روش مهندسی ژنتیک، کدام ژن عامل بیماری زا به یک باکتری یا ویروس غیر بیماری زا منتقل می شود؟ <u>ژن مربوط به پادگن (آنتی ژن) سطحی</u></p>												
<p>خرداد ماه ۹۸</p>	<p>۳و۱</p>	<p>در مورد فناوری های نوین زیستی به پرسش های زیر پاسخ دهید.</p> <p>الف. دو ویژگی دیسک (پلازمی) ر بنویسید <u>۱. متوازی مستقیم میزبان همانند ساز کند ۲. حاوی ژن های هسته کد فالت اصلی باکتری وجود ندارد.</u></p> <p>ب. آنزیم EcOR1 پیوند فسفودی استر بین کدام نوکلئوتیدهای جایگاه تشخیص آنزیم را برش می زند؟ <u>بین نوکلئوتید گوانین دار و آدنین دار</u></p> <p>ج. چرا وقتی اینترفرون با روش مهندسی ژنتیک ساخته می شود، فعالیتی بسیار کمتر از اینترفرون طبیعی دارد؟ <u>تشکیل پیوندهای نادرست در هنگام ساخته شدن آن در باکتری است.</u></p> <p>د. چرا تولید گیاهان مقاوم به علف کش ها باعث می شود خاک های سطحی کمتر دستخوش فرسایش شوند؟ <u>به علت عدم شخم زدن زمین، خاک های سطحی نیز کمتر دستخوش فرسایش می شوند.</u></p> <p>ه. قرار دادن نسخه سالم یک ژن در باخته های فردی که دارای نسخه ای ناقص از همان ژن است را چه می نامند؟ <u>ژن درمانی</u></p>												
<p>شهریور ماه ۹۸</p>	<p>۳و۱</p>	<p>به سوالا زیر دربار فناوری ها نوین زیستی پاسخ دهید</p> <p>الف. دو ویژگی دیسک (پلازمی) ر بنویسید <u>دیسک یک مولکول دای دو رشته ای و حلقوی خارج فام تتی است که معمولاً لا درو باکتر ه بعضه قار ه مل مخمر ه وجو دار و می تواند مستقل از ژنوم میزبان همانند سازی کند. دیسک ها را فام تن های کمکی نیز می نامند چون حاوی ژن هایی هستند که در فام تن اصلی باکتری وجود ندارند.</u></p> <p>ب. در مهندسی ژنتیک به مجموعه دمای ناقل و ژن جاگذاری شده در آن، چه می گویند؟ <u>دمای نو ترکیب</u></p> <p>ج. چگونه می توان با مهندسی پروتئین مدت زمان فعالیت پلاسمای اررا درمان پلاسمن ا بیشتر کر <u>جانشینی یک آمینو اسید پلاسمی ب آمینو اسید دیگر د توال</u></p> <p>د. دو مورد از کاربردهای زیست فناوری در پزشکی را نام ببرید. <u>۱. تولید دارو ۲. تولید واکسن ۳. ژن درمانی ۴. تشخیص بیماری</u></p> <p>ه. چرا تشخیص زود هنگام آلودگی با ویروس ایدز اهمیت زیادی دارد؟ <u>زیرا باعث می شود که بدون اتلا وقت اقداما درمان پیشگیر لام بری جلوگیری زانتقل ویرس ه سار افر دصوت گیر</u></p>												
<p>شهریور ماه ۹۸</p>	<p>۳و۱</p>	<p>در مورد فناوری های نوین زیستی به پرسش های زیر پاسخ دهید.</p> <p>الف. نام دو آنزیم مهم که در مهندسی ژنتیک استفاده می شوند را بنویسید. <u>آنزیم های برش دهنده - آنزیم لیگاز</u></p> <p>ب. چگونه می توان با مهندسی پروتئین، مدت زمان فعالیت پلاسمای اررا درمان پلاسمن ا بیشتر کر <u>جانشینی یک آمینو اسید پلاسمی ب آمینو اسید دیگر</u></p>												

		<p>ج. چرا برای از بین بردن آفت گیاه پنبه، سم پاشی های متعدد لازم است</p> <p>د. با جدا شدن کدام زنجیره، پیش انسولین به انسولین فعال تبدیل می شود؟ <u>زنجیره C</u></p> <p><u>زیر آف د معر سه قرانه گیرد</u></p>												
دی ماه ۹۸	۳و۲و۱	<p>به سوالات زیر دربار فناوری ها نوی زیسته پاسه دهید</p> <p>الف. در مهندسی ژنتیک برای تشکیل انتهای چسبنده چه پیوندهایی شکسته می شوند؟ <u>پیوند فسفودی استر و هیدروژنی</u></p> <p>ب. در کدام مرحله مهندسی ژنتیک از پادزیست (آنتی بیوتیک) استفاده می شود؟ <u>جداسازی یاخته های تراژنی</u></p> <p>ج. به کمک مهندسی پروتئین، چه تغییری در اینترفرون ساخته شده با مهندسی ژنتیک ایجاد می شود تا فعالیت ضد ویروسی آن را به اندازه اینترفرون طبیعی افزایش دهند؟ <u>با تغییر جزئی در رمز آمینواسید، توالی آمینواسیدهای اینترفرون طوری تغییر می کند که به جای یکی از آمینواسیدهای آن آمینواسید دیگری قرار می گیرد.</u></p> <p>د. در اولین ژن درمانی موفقیت آمیز، چرا لاز بو بیما به طو متناو لنفوسه مهندسه شد ر دریافه کند <u>چون این سلول ها قدرت بقای زیادی ندارند.</u></p>												
خرداد ماه ۹۹	۳و۲و۱	<p>در مورد فناوری های نوین زیستی به پرسش های زیر پاسخ دهید.</p> <p>الف. به جاندارانی که از طریق مهندسی ژنتیک دارای ترکیب جدیدی از مواد ژنتیکی شده است، چه می گویند؟ <u>جاندار تغییر ژنتیکی یا تراژنی</u></p> <p>ب. اجزای دناى نوترکیب را بنویسید. <u>دناى ناقل و ژن جاگذاری شده در آن</u></p> <p>ج. افزایش پایداری پروتئین در مقابل گرما، با روش های مهندسی پروتئین، اهمیت زیادی دارد. دو مورد از اهمیت آن را بنویسید. <u>در دمای بالاتر سرعت واکنش بیشتر خط آلودگی میکروبی و واکنش کمه م شود همچنین نیاز به خنک کردن محیط واکنش به خصوص در مورد واکنش های گرمازا نیست.</u></p> <p>د. واکنش نوترکیب ضد هیپاتیت B چگونه تولید می شود؟ <u>ژن مربوط به پادگن (آنتی ژن) سطحی عامل بیماری زا به یک باکتری یا ویروس غیر بیماری زا منتقل می شود.</u></p>												
* خرداد ماه ۹۹خ	* ۲	<p>دلیل علمی هر یک از موارد زیر را بنویسید.</p> <p>ب. اینترفرونی که به روش مهندسی ژنتیک ساخته می شود، فعالیتی بسیار کمتر از اینترفرون طبیعی دارد. <u>علت این کاهش فعالیت، تشکیل پیوندهای نادرست در هنگام ساخته شدن آن در باکتری است. پیوندهای نادرست باعث تغییر در شکل مولکول و در نتیجه کاهش فعالیت آن می شوند.</u></p>												
خرداد ماه ۹۹خ	۳	<p>در رابطه با فناوری های نوین زیستی به پرسش های زیر پاسخ دهید.</p> <p>الف. مهم ترین مرحله در ساخت انسولین به روش مهندسی ژنتیک چیست؟ <u>مهم ترین مرحله در ساخت انسولین به روش مهندسی ژنتیک، تبدیل انسولین غیرفعال به انسولین فعال است، زیرا تبدیل پیش هورمون به هورمون در باکتری انجام نمی شود.</u></p> <p>ب. از روش های درمان افرادی که با بیماری ارثی متولد می شوند، دو روش را نام ببرید. <u>۱. ژن درمانی ۲. پیوند مغز استخوان ۳. تزریق آنزیم</u></p>												
خرداد ماه ۹۹خ	۱	<p>در جدول زیر، هر یک از موارد ستون "الف" با یکی از موارد ستون "ب" ارتباط منطقی دارد، آنها را پیدا کنید و در برگه پاسخ نامه بنویسید. (در ستون "ب" یک مورد اضافه است)</p> <table border="1" data-bbox="284 1556 1125 1832"> <thead> <tr> <th>ستون "الف"</th> <th>ستون "ب"</th> </tr> </thead> <tbody> <tr> <td>۱. اتصال دناى مورد نظر به دیسک (پلازمه)</td> <td>آنزیم برش دهنده</td> </tr> <tr> <td>۲. ایجاد منافذی در دیواره باکتری</td> <td>پادزیست (آنتی بیوتیک)</td> </tr> <tr> <td>۳. جایگاه تشخیص آنزیم</td> <td>ناقل همسانه سازی (وکتور)</td> </tr> <tr> <td>۴. جداسازی یاخته های تراژنی</td> <td>آنزیم لیگاز</td> </tr> <tr> <td></td> <td>شوکه گرمایی</td> </tr> </tbody> </table> <p>۱. آنزیم لیگاز ۲. شوکه گرمایی ۳. آنزیم برش دهنده ۴. پادزیست (آنتی بیوتیک)</p>	ستون "الف"	ستون "ب"	۱. اتصال دناى مورد نظر به دیسک (پلازمه)	آنزیم برش دهنده	۲. ایجاد منافذی در دیواره باکتری	پادزیست (آنتی بیوتیک)	۳. جایگاه تشخیص آنزیم	ناقل همسانه سازی (وکتور)	۴. جداسازی یاخته های تراژنی	آنزیم لیگاز		شوکه گرمایی
ستون "الف"	ستون "ب"													
۱. اتصال دناى مورد نظر به دیسک (پلازمه)	آنزیم برش دهنده													
۲. ایجاد منافذی در دیواره باکتری	پادزیست (آنتی بیوتیک)													
۳. جایگاه تشخیص آنزیم	ناقل همسانه سازی (وکتور)													
۴. جداسازی یاخته های تراژنی	آنزیم لیگاز													
	شوکه گرمایی													
خرداد ماه ۹۹خ	۲	<p>در مورد زیست فناوری به پرسش های زیر پاسخ دهید.</p> <p>الف. چرا وقتی اینترفرون با روش مهندسی ژنتیک ساخته می شود، فعالیتی بسیار کمتر از اینترفرون طبیعی دارد؟ <u>تشکیل پیوندهای نادرست در هنگام ساخته شدن آن در باکتری است.</u></p> <p>ب. لخته ها به طور طبیعی در بدن توسط کدام آنزیم تجزیه می شوند؟ <u>آنزیم پلاسمه</u></p>												

		<p>ج. اگر یاخته های بنیادی کبد در محیط کشت تکثیر شوند، علاوه بر یاخته کبد ب کدا یاخته دیگر م تواند تمای پید کنند</p> <p><u>یاخته مجرای صفراوی</u></p>
<p>شهریور ماه ۹۹</p>	<p>۳ و ۱</p>	<p>در مورد فناوری های نوین زیستی به پرسش های زیر پاسخ دهید.</p> <p>الف. تولید موادی مانند پادزیست ها، آنزیم ها و مواد غذایی در کدام دوره زیست فناوری ممکن شد؟ <u>زیست فناوری کلاسیک</u></p> <p>ب. در مرحله تشکیل دمای نو ترکیب نقش آنزیم لیگاز چیست؟ <u>آنزیم لیگاز پیوند فسفودی استر بین دو انتهای مکمل را ایجاد می کند.</u></p> <p>ج. چگونه می توان با مهندسی پروتئین، مدت زمان فعالیت پلاسمای اررا درمان پلاسمن ایشر کر <u>جانشینی یک آمینواسید</u> پلاسمی ب آمینواسید دیگر د توالی باء م شو ک مد زما فعالی پلاسمای و الارت درمای ن بیشرشو</p> <p>د. در تولید پنبه مقاوم به آفت، ژن پروتئین سمی از کدام جاندار جداسازی می شود؟ <u>باکتری های خاکزی</u></p> <p>ه. مزیت واکسن های تولید شده با روش مهندسی ژنتیک نسبت به واکسن های تولید شده با روش های قبلی چیست؟ <u>در واکسن های تولید شده با روش های قبلی، چنانچه در مراحل تولید واکسن خطایی رخ می داد، احتمال بروز بیماری در اثر مصرف آن وجود داشت ولی واکسن های تولید شده با روش مهندسی ژنتیک چنین خطری ندارند.</u></p>
<p>دی ماه ۹۹</p>	<p>۳ و ۱</p>	<p>در مورد فناوری های نوین زیستی به پرسش های زیر پاسخ دهید.</p> <p>الف. دانشمندان در دوره زیست فناوری نوین، با انتقال ژن میان ریزجانداران (میکروارگانسیم ها) به چه اهدافی رسیده اند؟ <u>دانشمندان توانستند با تغییر و اصلا خصوصیا ریزجانداران ترکیبا جدیدی ب مقادیر بیشتر کارایی بالا بر تولدکنند</u></p> <p>ب. آنزیم ECORI پیوند فسفودی استر بین کدام نوکلئوتیدهای جایگاه تشخیص آنزیم را برش می زند؟ <u>این آنزیم پیوند فسفودی استر بین نوکلئوتید گوانین دار و آدنین دار هر دو رشته را برش می زند.</u></p> <p>ج. در مهندسی ژنتیک، چرا باکتری های فاقد دمای نو ترکیب در محیط حاوی پادزیست (آنتی بیوتیک) از بین می روند؟ <u>به دلیل حساسیت به پادزیست</u></p> <p>د. چرا مهم ترین مرحله در ساخت انسولین به روش مهندسی ژنتیک، تبدیل انسولین غیرفعال به انسولین فعال است؟ <u>زیرا تبدیل پیش هورمون به هورمون در باکتری انجام نمی شود.</u></p> <p>ه. یک بیماری انسانی نام ببرید که برای مطالعه آن، از جانوران تراژنی به عنوان مدل استفاده می شود؟ <u>کاربرد آنها به عنوان مدلی برای مطالعه بیماری های انسانی از قبیل انواع سرطان، آلزایمر و بیماری ام. اس</u></p>
<p>دی ماه ۹۹ (خ)</p>	<p>۲ و ۱</p>	<p>در مورد فناوری های نوین زیستی به پرسش های زیر پاسخ دهید.</p> <p>الف. در کدام دوره زیست فناوری، انتقال ژن از یک ریز جاندار میکروارگانسیم) به ریز جاندار دیگر آغاز شد؟ <u>زیست فناوری نوین</u></p> <p>ب. هدف از همسانه سازی دنا چیست؟ <u>جداسازی یک یا چند ژن و تکثیر آنها را همسانه سازی دنا می گویند.</u></p> <p>ج. در کدام مرحله مهندسی ژنتیک از پادزیست (آنتی بیوتیک) استفاده می شود؟ <u>جداسازی یاخته های تراژنی</u></p> <p>د. در طبیعت آمیلا مقاوم ب گرما د چ موجودات وجود دارد <u>باکتر ها گرمادوس</u></p> <p>ه. چرا وقتی پروتئین اینترفرون با روش مهندسی ژنتیک ساخته می شود، فعالیتی بسیار کمتر از اینترفرون طبیعی دارد؟ <u>علت این کاهش فعالیت، تشکیل پیوندهای نادرست در هنگام ساخته شدن آن در باکتری است که باعث تغییر در شکل مولکول و در نتیجه کاهش فعالیت آن می شود.</u></p>

فصل هشتم: رفتارهای جانوران (بارم نوبت خرداد ماه ۲,۵ نمره)

متن سوال	گفتار	سال طرح سوال
درستی یا نادرستی هر یک از عبارات های زیر را بدون ذکر دلیل مشخص کنید. و. رفتار نوک زدن جوجه کاکایی به متقار والد یک رفتار غریزی است که به طور کامل هنگام تولد در جانور ایجاد شده است. <u>نادرست</u> و. بر اساس انتخاب طبیعی، رفتار غذایی ای بر گزیده می شود که از نظر میزان انرژی دریافتی کارآمدتر باشد. <u>درست</u> ح. مهاجرت رفتاری غریزی است که یادگیری در آن نقش ندارد. <u>نادرست</u>	* ۱ ۲ ۲	* دی ماه ۹۸ خرداد ماه ۹۹ (خ) دی ماه ۹۹ (خ)
در هر یک از عبارات های زیر جای خالی را با کلمات مناسب پر کنید. و. موازنه بین محتوای انرژی غذا و هزینه به دست آوردن آن. نام دارد. <u>غذایابی بهینه</u> و. رفتاری که در آن یک جانور بقا و موفقیت تولید مثلی جانور دیگری را با هزینه کاسته شدن از احتمال بقا و تولید مثل خود، افزایش می دهد. <u>دگرخواهی</u>	* ۲ ۳	* خرداد ماه ۹۸ شهریور ماه ۹۸
و. جابه جایی طولانی... بر... گشته... جانوران. و. طاووس نر نظام جفت گیری. و. تغییر نسبتاً پایدار در رفتار که در اثر تجربه به وجود می آید. و. بیشتر رفتارهای جانوران محصول برهم کشش. و. بیشتر پرندگان مثل قمری خانگی نظام جفت گیری. ح. نوعی یادگیری که در دوره مشخصی از زندگی جانور انجام می شود.	۲ ۲ ۱ ۱ ۲ ۱	دی ماه ۹۸ خرداد ماه ۹۸ (خ) شهریور ماه ۹۸ (خ) خرداد ماه ۹۹ (خ) خرداد ماه ۹۹ (خ) دی ماه ۹۹ (خ)
در هر یک از عبارات های زیر، جواب صحیح را از بین کلمات داخل پرانتز انتخاب کنید و در برگه پاسخ نامه بنویسید. و. قمری خانگی (تک همسر - چند همسر) است. <u>تک همسر</u> و. مورچه های برگ بر از (قارچ - برگ) تغذیه می کنند. <u>قارچ</u> ح. در آزمایش های پاولوف مربوط به یادگیری شرطی شدن کلاسیک محر شرطی (صدا زنگ) بود <u>صدا زنگ</u>	* ۲ ۳ ۱	* شهریور ماه ۹۸ خرداد ماه ۹۸ (خ) دی ماه ۹۹ (خ)
اصطلاحاً زیر تعریف کنید ج. <u>غذایابی بهینه</u> موازنه بین محتوای انرژی غذا و هزینه به دست آوردن آن را <u>غذایابی بهینه</u> گفته می شود. ج. <u>خوگیری</u> (عادی شدن) در این یادگیری، پاسخ جانور به یک محرک تکراری که سود یا زیانی برای آن ندارد، کاهش پیدا می کند و جانور می آموزد به برخی محرک ها پاسخ ندهد.	* ۲ ۱	* خرداد ماه ۹۸ (خ) دی ماه ۹۹ (خ)
علت هر یک از موارد زیر را بنویسید. د. کلاها بوجو مترس درو مزرعه ب آ حمل م کنند <u>پاسخ جانور به یک محرک تکراری که سود یا زیانی برای آن ندارد، کاهش پیدا می کند و جانور می آموزد به برخی محرک ها پاسخ ندهد که به این نوع یادگیری، خوگیری می گویند.</u>	* ۱	* دی ماه ۹۹
چگونه مشخص شد رفتار مراقبت مادری در موش اساس ژنی دارد؟ <u>با ایجاد جهش در ژن B آن را غیر فعال کردند، موش های ماده ای که ژن های جهش یافته داشتند، ابتدا بچه موش های تازه متولد شده را وارسی کردند ولی بعد آنها را نادیده گرفتند و رفتار مراقبت نشان ندادند.</u>	۱	دی ماه ۹۷
با توجه به توضیحات داده شده، نوع یادگیری مورد نظر را در برگه پاسخ نامه بنویسید.	۱	دی ماه ۹۷
توضیحات		
الف شقایق دریایی با تحریک مکانیکی (تماس)، بازوهای خود را منقبض می کند اما به حرکت مداوم آب پاسخی نمی دهد.		
ب شامپانزه ها از تکه های چوب یا سنگ به شکل سندان و چکش استفاده می کنند تا پوسته سخت میوه ها را بشکنند.		
ج جوجه غازها پس از بیرون آمدن از تخم، نخستین جسم متحرکی را که می بینند، دنبال می کنند.		
<u>الف. خوگیری (عادی شدن) ب. حل مسئله ج. نقش پذیری</u>		
چرا طاووس نر نظام جفت گیری چند همسری دارد؟ <u>در این نظام یکی از والدین پرورش و نگهداری زاده ها را انجام می دهد.</u>	۲	دی ماه ۹۷
در رفتار دگرخواهی خفاش های خون آشام، چه زمانی یک خفاش از اشتراک غذا کنار گذاشته می شود؟	۳	دی ماه ۹۷

		<p>خفاشی که غذا دریافت کرده، کار خفاش دگرخواه را در آینده جبران می کند. اگر جبران انجام نشود، این خفاش از اشتراک غذا کنار گذاشته می شود.</p>												
<p>خرداد ماه ۹۸</p>	<p>۱</p>	<p>هر یک از موارد زیر مربوط به کدام نوع یادگیری است؟ الف. جانور با چشم پوشی از محرک های بی اهمیت، انرژی خود را برای انجام فعالیت های حیاتی حفظ می کند. <u>خوگیری (عادی شدن)</u> ب. جانور می آموزد بین رفتار خود با پاداش یا تنبیهی که دریافت می کند، ارتباط برقرار کرده و در آینده رفتاری را تکرار یا از انجام آن خودداری می کند. <u>شرطی شدن فعال یا یادگیری با آزمون و خطا</u> ج. جانور بین تجربه های گذشته و موقعیت جدید ارتباط برقرار می کند و آگاهانه برنامه ریزی می کند. <u>حل مسئله</u> د. در دوره مشخصی از زندگی جانور انجام می شود. <u>نقش پذیری</u></p>												
<p>خرداد ماه ۹۸</p>	<p>۳ و ۲</p>	<p>علت هر یک از رفتارهای زیر را بنویسید. الف. پرنده کاکایی پس از آنکه جوجه هایش از تخم بیرون می آیند، پوسته های تخم را از لایه خار م کند <u>برای کاهش احتمال شکار شدن یا افزایش احتمال بقای جوجه ها انجام می دهند.</u> ب. در نوعی جیرجیرک، جانور نر، جیرجیرک ماده ای را به عنوان جفت انتخاب می کند که بزرگ تر باشد. <u>زیرا بزرگ تر بودن جیرجیرک ماده نشانه آن است که تخمک های بیشتری دارد.</u> ج. کبوتر خانگی می تواند در یک روز ابری مسیر درست را بیابد و به لانه با گردد <u>کبوتر خانگی می تواند موقعیت خود را نسبت به میدان مغناطیسی زمین احساس و با استفاده از آن جهت یابی کند.</u> د. زنبورهای کارگر قبل از جستجو درباره محل منبع غذا از زنبور یابنده اطلاعات دریافت می کنند <u>چون با صرف انرژی کمتر و در زمان کوتاه تری محل دقیق منبع غذا را پیدا می کنند.</u></p>												
<p>خرداد ماه ۹۸ (خ)</p>	<p>۳ و ۱ و ۲</p>	<p>در مورد رفتارهای جانوران به پرسش های زیر پاسخ دهید. الف. رفتار موش مادر در مراقبت از فرزندان یک رفتار غریزی است یا یادگیری؟ <u>رفتار غریزی</u> ب. محرک طبیعی و محرک شرطی در آزمایش های آقای پاولوف (شرطی شدن کلاسیک) چیست <u>محرک طبیعی غذا - محرک شرطی: صدای زنگ</u> ج. جابه جایی طولانی برگشته جانور چنان دارد <u>مهاجر</u> د. چرا جانوران نگهدارنده و زنبورهای عسل کارگر رفتار دگرخواهی انجام می دهند؟ <u>آنها با خوشاوندانشان، ژن های مشترکی دارند.</u></p>												
<p>شهریور ماه ۹۸</p>	<p>۱</p>	<p>در جدول زیر، هر یک از موارد ستون "الف" با یکی از موارد ستون "ب" ارتباط منطقی دارد. آنها را پیدا کنید و در برگه پاسخ نامه بنویسید. (در ستون "ب" یک مورد اضافه است)</p> <table border="1" data-bbox="204 1323 1214 1697"> <thead> <tr> <th>ستون "الف"</th> <th>ستون "ب"</th> </tr> </thead> <tbody> <tr> <td>۱. جانور می آموزد بین رفتار خود با پاداش یا تنبیهی که دریافت می کند، ارتباط برقرار کرده و در آینده رفتاری را تکرار یا از انجام آن خودداری می کند.</td> <td>حل مسئله</td> </tr> <tr> <td>۲. شقایق دریایی با تحریک مکانیکی (تماس)، بازوهای خود را منقبض می کند اما به حرکت مداوم آب پاسخی نمی دهد.</td> <td>شرطی شدن فعال (آزمون و خطا)</td> </tr> <tr> <td>۳. جوجه غازها پس از بیرون آمدن از تخم، نخستین جسم متحرکی را که می بینند، دنبال می کنند</td> <td>شرطی شدن کلاسیک</td> </tr> <tr> <td>۴. شامپانه ها از تکه های چوب یا سنگ به شکل سندان و چکش استفاده می کنند تا پوسته سخت میوه ها را بشکنند.</td> <td>خوگیری (عادی شدن)</td> </tr> <tr> <td></td> <td>نقش پذیری</td> </tr> </tbody> </table> <p>۱. <u>شرطی شدن فعال (آزمون و خطا)</u> ۲. <u>خوگیری (عادی شدن)</u> ۳. <u>نقش پذیری</u> ۴. <u>حل مسئله</u></p>	ستون "الف"	ستون "ب"	۱. جانور می آموزد بین رفتار خود با پاداش یا تنبیهی که دریافت می کند، ارتباط برقرار کرده و در آینده رفتاری را تکرار یا از انجام آن خودداری می کند.	حل مسئله	۲. شقایق دریایی با تحریک مکانیکی (تماس)، بازوهای خود را منقبض می کند اما به حرکت مداوم آب پاسخی نمی دهد.	شرطی شدن فعال (آزمون و خطا)	۳. جوجه غازها پس از بیرون آمدن از تخم، نخستین جسم متحرکی را که می بینند، دنبال می کنند	شرطی شدن کلاسیک	۴. شامپانه ها از تکه های چوب یا سنگ به شکل سندان و چکش استفاده می کنند تا پوسته سخت میوه ها را بشکنند.	خوگیری (عادی شدن)		نقش پذیری
ستون "الف"	ستون "ب"													
۱. جانور می آموزد بین رفتار خود با پاداش یا تنبیهی که دریافت می کند، ارتباط برقرار کرده و در آینده رفتاری را تکرار یا از انجام آن خودداری می کند.	حل مسئله													
۲. شقایق دریایی با تحریک مکانیکی (تماس)، بازوهای خود را منقبض می کند اما به حرکت مداوم آب پاسخی نمی دهد.	شرطی شدن فعال (آزمون و خطا)													
۳. جوجه غازها پس از بیرون آمدن از تخم، نخستین جسم متحرکی را که می بینند، دنبال می کنند	شرطی شدن کلاسیک													
۴. شامپانه ها از تکه های چوب یا سنگ به شکل سندان و چکش استفاده می کنند تا پوسته سخت میوه ها را بشکنند.	خوگیری (عادی شدن)													
	نقش پذیری													
<p>شهریور ماه ۹۸</p>	<p>۲</p>	<p>به سوالات زیر درباره رفتارها جانور پاسخ دهید الف. درخشان بودن رنگ پرهای طاوس نر نشانه چیست؟ <u>سلام کیفیت رژیم غذایی آن است</u> ب. چرا خرچنگ های ساحلی صدف های با اندازه بزرگ را به عنوان غذا انتخاب نمی کنند؟ <u>صدف های بزرگ تر انرژی بیشتری دارند اما برای شکستن آنها باید انرژی بیشتری صرف شود.</u> ج. جانورانی که رکود تابستانی دارند در چه جاهایی زندگی می کنند؟ <u>جاهای به شدت گرم مانند بیابان</u></p>												
<p>شهریور ماه ۹۸ (خ)</p>	<p>۳ و ۱ و ۲</p>	<p>در مورد رفتارهای جانوران به پرسش های زیر پاسخ دهید. الف. محرک شرطی و محرک طبیعی در آزمایش پاولوف شرطی شدن کلاسیک ر بنویسید <u>محرک طبیعی غذا محرک شرط صدای زنگ</u></p>												

	<p>ب. بیشتر رفتارهای جانوران محصول بر هم کنش چه عواملی هستند؟ <u>زن ها - اثرهای محیطی است که جانور در آن زندگی می کند.</u></p> <p>ج. چرا در جانوران ماده ها بیشتر از نرها انتخاب جفت انجام می دهند؟ <u>جانوران ماده معمولا زما انرژی بیشتر صرف میکنند</u></p> <p>د. چرا خرچنگ های ساحلی صدف های با اندازه متوسط را ترجیح می دهند؟ <u>زیرا آنها بیشترین انرژی خالص را تامین می کنند.</u></p> <p>ه. در مسیر مهاجرت، جانوران برای جهت یابی در شب از چه نشانه های محیطی استفاده می کنند؟ <u>با استفاده از موقعیت ستاره ها در آسمان</u></p> <p>و. در میان پرندگان، افراد یاریگری هستند که در پرورش زاده ها به والدین آنها یاری می رسانند. این رفتار چه فایده ای برای یاریگرها دارد؟ (یک مورد <u>کسب تجربه و استفاده از آن در هنگام زادآوری در جهت پرورش زاده های خود - تصاحب قلمرو جفت های زادآور و خود زادآوری بعد از مرگ احتمالی جفت های زادآور</u>)</p>												
<p>دی ماه ۹۸</p> <p>۱</p>	<p>در هر مورد نوع یادگیری را مشخص کنید.</p> <p>الف. در آزمایش پاولوف، بزاق سگ با شنیدن صدای زنگ ترشح می شد.</p> <p>ب. رام کنندگان جانوران، انجام حرکات نمایشی در سیرک را به آنها می آموزند.</p> <p>ج. کلا به جمه کردن تخم تک گوشت که به انتها آ آویزا اس ر به دس م آورد <u>ح مسلا</u></p> <p><u>شرطی شدن کلاسیه</u></p> <p><u>شرطی شدن فعال (آزمون و خطا)</u></p>												
<p>دی ماه ۹۸</p> <p>۳ و ۲</p>	<p>به سوالات زیر دربار رفتارها جانورا پاس دهید</p> <p>الف. رفتار خوگیری (عادی شدن) در جانوران چه فایده ای برای آنها دارد؟ <u>جانور با چشم پوشی از محرک های بی اهمیت، انرژی خود را برای انجام فعالیت های حیاتی حفظ کند.</u></p> <p>ب. در کدام نظام جفت گیری، جانور نر و ماده در انتخاب جفت سهم مساوی دارند؟ <u>نظام جفت گیری تک همسری</u></p> <p>ج. چرا خرچنگ های ساحلی صدف های با اندازه بزرگ را به عنوان غذا انتخاب نمی کنند؟ <u>صدف های بزرگ تر انرژی بیشتری دارند اما برای شکستن آنها باید انرژی بیشتری صرف شود.</u></p> <p>د. رفتار به اشتراک گذاشتن غذا (خون) در خفاش های خون آشام، چه نوع رفتاری است؟ <u>دگرخواهی</u></p>												
<p>خرداد ماه ۹۹</p> <p>۱ و ۳ و ۲</p>	<p>در مورد رفتارهای جانوران به پرسش های زیر پاسخ دهید.</p> <p>الف. چرا اساس رفتار غریزی در همه افراد یک گونه یکسان است؟ <u>زیرا ژنی وارثی است.</u></p> <p>ب. محرک شرطی و محرک طبیعی در آزمایش پاولوف را بنویسید. <u>محرک شرطی: صدای زنگ و محرک طبیعی: غذا</u></p> <p>ج. چرا در نوعی جیرجیرک، جانور نر جفت را انتخاب می کند؟ <u>جیرجیرک نر زامه های خود را درون کیسه های به همراه مقداری مواد مغذی به جانور ماده منتقل میکند یا جنس نر هزینه بیشتری برای تولید مثل می پردازد.</u></p> <p>د. بعضی طوطی ها برای خنثی شدن مواد سمی حاصل از غذاهای گیاهی، چه می خورند؟ <u>خاک رس</u></p> <p>ه. در اجتماع مورچه های برگ بر، وظیفه مورچه های کوچک چیست؟ <u>مورچه های کوچک تر دفاع می کنند.</u></p> <p>و. رفتار نگهداری و پرورش زاده های ملکه که توسط زنبورهای عسل کارگر انجام می شود، چه نوع رفتاری است؟ <u>رفتار دگرخواهی</u></p>												
<p>خرداد ماه ۹۹</p> <p>۱</p>	<p>هر یک از عبارت های ستون "الف" با یکی از موارد ستون "ب" ارتباط دارند. آنها را در برگه پاسخ بنویسید.</p> <table border="1" data-bbox="261 1451 1072 1727"> <tr> <td data-bbox="496 1451 1072 1496">"الف"</td> <td data-bbox="261 1451 496 1496">"ب"</td> </tr> <tr> <td data-bbox="496 1496 1072 1541">الف. رفتار تولید صدا توسط افراد ننگهبان هنگام حضور شکارچی</td> <td data-bbox="261 1496 496 1541">۱. خوگیری</td> </tr> <tr> <td data-bbox="496 1541 1072 1585">ب. تبدیل یک محرک بی اثر به یک محرک موثر (شرطی)</td> <td data-bbox="261 1541 496 1585">۲. شرطی شدن فعال</td> </tr> <tr> <td data-bbox="496 1585 1072 1630">ج. استفاده از تجربه های گذشته در برقراری ارتباط با موقعیت جدید</td> <td data-bbox="261 1585 496 1630">۳. حل مسئله</td> </tr> <tr> <td data-bbox="496 1630 1072 1675">د. برقراری ارتباط بین رفتار با پاداش یا تنبیه</td> <td data-bbox="261 1630 496 1675">۴. دگرخواهی</td> </tr> <tr> <td data-bbox="496 1675 1072 1727"></td> <td data-bbox="261 1675 496 1727">۵. شرطی شدن کلاسیه</td> </tr> </table> <p>۱ الف. ۴. دگرخواهی ب. ۵. شرطی شدن کلاسیه ج. ۳ مسلا د ۲ شرط شد فعا</p>	"الف"	"ب"	الف. رفتار تولید صدا توسط افراد ننگهبان هنگام حضور شکارچی	۱. خوگیری	ب. تبدیل یک محرک بی اثر به یک محرک موثر (شرطی)	۲. شرطی شدن فعال	ج. استفاده از تجربه های گذشته در برقراری ارتباط با موقعیت جدید	۳. حل مسئله	د. برقراری ارتباط بین رفتار با پاداش یا تنبیه	۴. دگرخواهی		۵. شرطی شدن کلاسیه
"الف"	"ب"												
الف. رفتار تولید صدا توسط افراد ننگهبان هنگام حضور شکارچی	۱. خوگیری												
ب. تبدیل یک محرک بی اثر به یک محرک موثر (شرطی)	۲. شرطی شدن فعال												
ج. استفاده از تجربه های گذشته در برقراری ارتباط با موقعیت جدید	۳. حل مسئله												
د. برقراری ارتباط بین رفتار با پاداش یا تنبیه	۴. دگرخواهی												
	۵. شرطی شدن کلاسیه												
<p>خرداد ماه ۹۹</p> <p>۲</p>	<p>در رابطه با انتخاب طبیعی و رفتار به پرسش های زیر پاسخ دهید.</p> <p>الف. در کدام نظام تولید مثلی، هر دو جاندار نر و ماده، در انتخاب جفت سهم مساوی دارند؟ <u>تک همسری</u></p> <p>ب. دلیل تغذیه طوطی ها از خاک رس در سواحل آمازون چیست؟ <u>تا مواد سمی حاصل از غذاهای گیاهی را در لوله گوارش آنها خنثی کند.</u></p> <p>ج. در جهت یابی کبوتر خانگی و بازگشت به لاد خود چه عامل نقش دارد <u>کبوتر خانگ م توان موقعی خور ر نسب به میدا مغناطیسی زمین احساس و با استفاده از آن جهت یابی کند.</u></p> <p>د. رکود تابستانی در کدام جانوران مشاهده می شود؟ <u>رکود تابستانی در جانورانی دیده می شود که در جاهای به شدت گرم مانند بیابان زندگی می کنند.</u></p>												

<p>خرداد ماه ۹۹ (خ)</p>	<p>۱</p> <p>هر یک از موارد زیر مربوط به کدام نوع یادگیری است؟</p> <p>الف. در این یادگیری، پاسخ جانور به یک محرک تکراری که سود یا زیانی برای آن ندارد، کاهش پیدا می کند و جانور می آموزد به برخی محرک ها پاسخ ندهد. <u>خوگیری</u></p> <p>ب. پرنده ای که پروانه مونا رک را بلعیده و دچار تهوع شده است، پس از چنین تجربه هایی پرنده می آموزد، این حشره را نباید بخورد. <u>شرطی شدن فعال</u></p> <p>ج. جانور بین تجربه های گذشته و موقعیت جدید ارتباط برقرار می کند و آگاهانه برنامه ریزی می کند. <u>حل مسئله</u></p> <p>د. جوجه غازها پس از بیرون آمدن از تخم، نخستین جسم متحرکی را که می بینند، دنبال می کنند. <u>نقش پذیری</u></p>
<p>خرداد ماه ۹۹ (خ)</p>	<p>۲</p> <p>در مورد انتخاب طبیعی و رفتار به پرسش های زیر پاسخ دهید.</p> <p>الف. چرا پرنده کاکایی پس از آنکه جوجه هایش از تخم بیرون می آیند، پوسته های تخم را از لای خار م کند <u>برای کاهش احتمال شکار شدن و افزایش احتمال بقای جوجه ها انجام می دهند.</u></p> <p>ب. جانورانی که در جاهای به شدت گرم مانند بیابان زندگی می کنند، در پاسخ به نبود غذا یا دوره های خشکسالی، چه کاری انجام می دهند؟ <u>رکود تابستانی (کاهش سوخت و ساز انجام می دهند).</u></p>
<p>خرداد ماه ۹۹ (خ)</p>	<p>۲</p> <p>چرا در جانوران، ماده ها بیشتر از نرها رفتار انتخاب جفت را انجام می دهند؟</p> <p><u>جانوران ماده معمولاً لا زما انرژی بیشتر برای زاد آور پرور زاد ه صر م کنند</u></p>
<p>شهریور ماه ۹۹</p>	<p>۳ و ۱</p> <p>در مورد رفتارهای جانوران به پرسش های زیر پاسخ دهید.</p> <p>الف. در کدام نوع یادگیری، جانور بین تجربه های گذشته و موقعیت جدید ارتباط برقرار می کند و آگاهانه برنامه ریزی می کند؟ <u>حل مسئله</u></p> <p>ب. عدم انقباض بازوهای شقایق دریایی در پاسخ به حرکت مداوم آب، مثالی از کدام یادگیری است؟ <u>خوگیری (عادی شدن)</u></p> <p>ج. کدام جانور، طاووس ماده یا جیرجیرک ماده برای تولید مثل هزینه بیشتری نسبت به جفت خود می پردازد؟ <u>طاووس ماده</u></p> <p>د. غذایابی بهینه را تعریف کنید. <u>موازنه بین محتوای انرژی غذا و هزینه به دست آوردن آن</u></p> <p>ه. دو مورد از فایده های قلمرو خواهی برای جانوران را بنویسید. <u>استفاده اختصاصی از منابع قلمرو می تواند غذا و انرژی دریافتی جانور را افزایش دهد، امکان جفت یابی جانور و دسترسی به پناهگاه برای در امان ماندن از شکارچی نیز افزایش می یابد.</u></p> <p>و. رفتار تولید صدا توسط افراد نگرهبان هنگام حضور شکارچی چه نوع رفتاری است؟ <u>رفتار دگرخواهی</u></p>
<p>دی ماه ۹۹</p>	<p>۳ و ۱</p> <p>در مورد رفتارهای جانوران به پرسش های زیر پاسخ دهید.</p> <p>الف. رفتار مکیدن در شیرخواران نمونه ای از چه رفتاری است؟ <u>غریزی</u></p> <p>ب. کدام نوع یادگیری در دوره مشخصی از زندگی جانور انجام می شود؟ <u>نقش پذیری</u></p> <p>ج. نظام جفت گیری در بیشتر پستانداران چگونه است؟ <u>چند همسری</u></p> <p>د. جانوران مهاجر برای جهت یابی هنگام روز از چه نشانه محیطی استفاده می کنند؟ <u>موقعیت خورشید</u></p> <p>ه. چرا جانوران پیش از ورود به خواب زمستانی غذای زیادی مصرف می کنند؟ <u>پیش از ورود به خواب زمستانی، جانور مقدار زیادی غذا مصرف می کند و در بدن آن چربی لازم به مقدار کافی ذخیره شود تا هنگام خواب به مصرف برسد</u></p> <p>و. وظیفه افراد نگرهبان در گروه جانوران چیست؟ <u>افراد نگرهبانی هستند که با تولید صدا حضور شکارچی را به دیگران هشدار می دهند تا به موقع فرار کنند.</u></p>
<p>دی ماه ۹۹ (خ)</p>	<p>۳ و ۱</p> <p>در مورد رفتارهای جانوران به پرسش های زیر پاسخ دهید.</p> <p>الف. رفتار لانساز پرنده نمونه ای از چه رفتاری است؟ <u>غریزی</u></p> <p>ب. صدای جیرجیرک نر چه اطلاعاتی را به جیرجیرک ماده م رساند <u>اطلاعاتی مانند گونه و جنس</u></p> <p>ج. چرا افراد نگرهبان در گروه جانوران، احتمال بقای کمتری دارند؟ <u>آنها با تولید صدا توجه شکارچی را به خود جلب کرده و احتمال بقای خود را کاهش می دهند.</u></p>